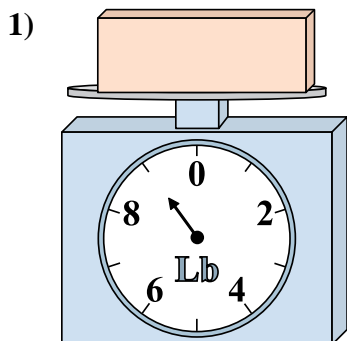


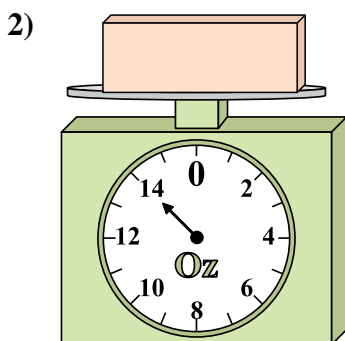


Usa le bilance qui rappresentate per rispondere alle domande.

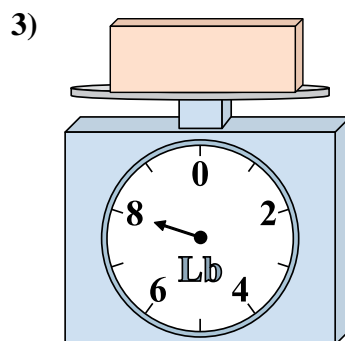
Risposte



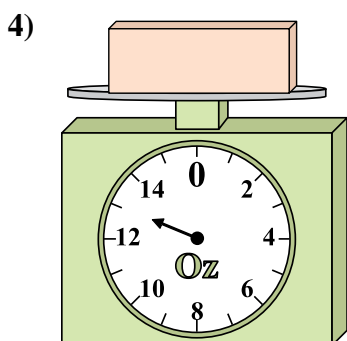
Qual è il peso (in libbre) del blocco?



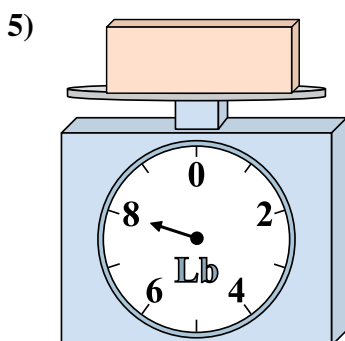
Se il blocco mostrato fosse più pesante di 5 once, quanto peserebbe?



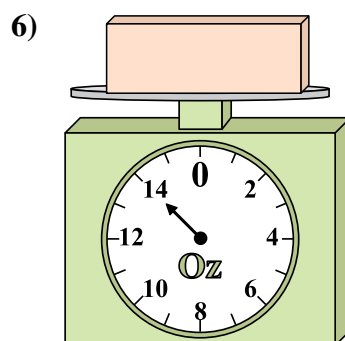
Se il blocco mostrato fosse più leggero di 5 libbre, quanto peserebbe?



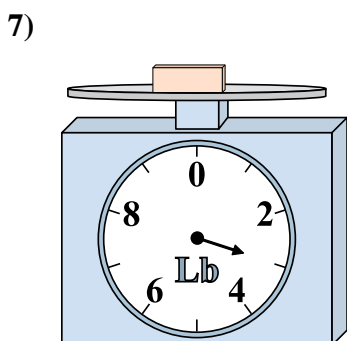
Se il blocco mostrato fosse più leggero di 8 once, quanto peserebbe?



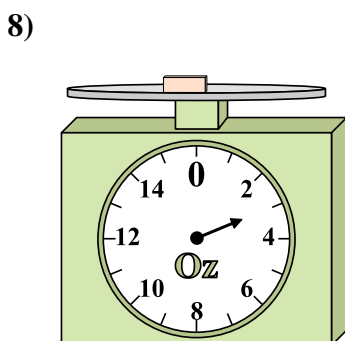
Se hai 10 blocchi che hanno lo stesso peso, quanto peseranno in totale in libbre?




Se il blocco mostrato fosse più pesante di 2 once, quanto peserebbe?



Se hai 9 blocchi che hanno lo stesso peso, quanto peseranno in totale in libbre?



Se il blocco mostrato fosse più pesante di 3 once, quanto peserebbe?

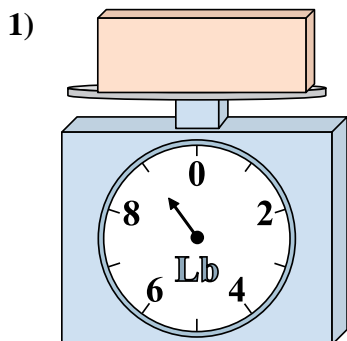


Qual è il peso (in libbre) del blocco?

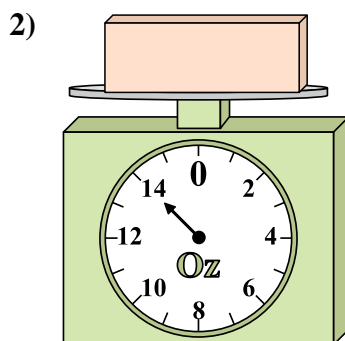
1. _____
2. _____
3. _____
4. _____
5. _____
6. _____
7. _____
8. _____
9. _____



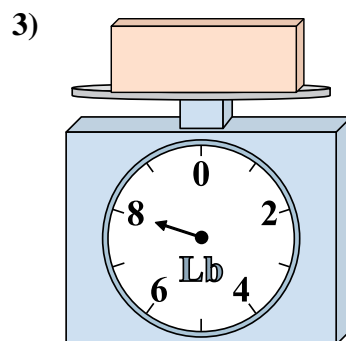
Usa le bilance qui rappresentate per rispondere alle domande.



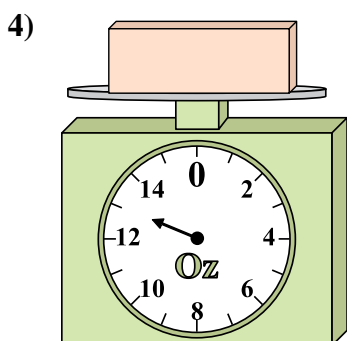
Qual è il peso (in libbre) del blocco?



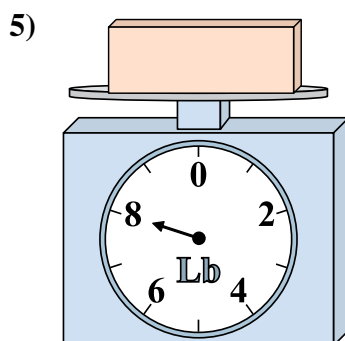
Se il blocco mostrato fosse più pesante di 5 once, quanto peserebbe?



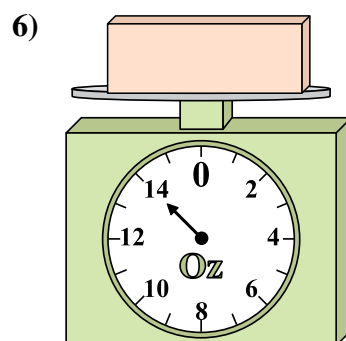
Se il blocco mostrato fosse più leggero di 5 libbre, quanto peserebbe?



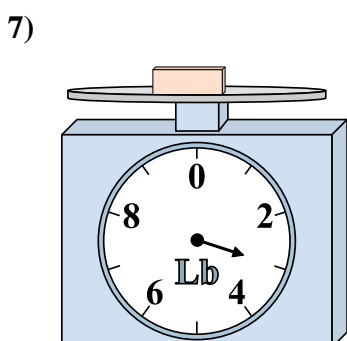
Se il blocco mostrato fosse più leggero di 8 once, quanto peserebbe?



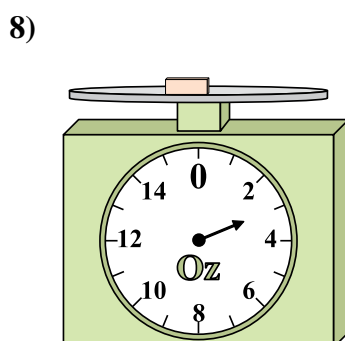
Se hai 10 blocchi che hanno lo stesso peso, quanto peseranno in totale in libbre?



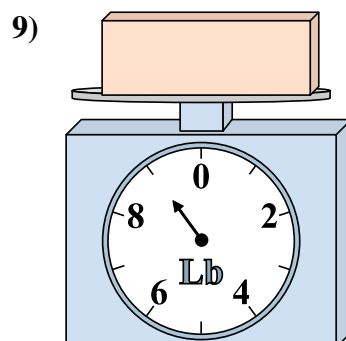
Se il blocco mostrato fosse più pesante di 2 once, quanto peserebbe?



Se hai 9 blocchi che hanno lo stesso peso, quanto peseranno in totale in libbre?



Se il blocco mostrato fosse più pesante di 3 once, quanto peserebbe?



Qual è il peso (in libbre) del blocco?

Risposte1. 92. 193. 34. 55. 806. 167. 278. 69. 9