



Determina se ogni angolo mostrato è 'minore', 'maggiore' o 'uguale' a 90°.

Risposte

Es)



1)



2)



Es. **minore**

1. _____

2. _____

3)



4)



5)



3. _____

4. _____

6)



7)



8)



5. _____

6. _____

7. _____

9)



10)



11)



8. _____

9. _____

10. _____

12)



13)



14)



11. _____

12. _____

13. _____

15)



16)



17)



14. _____

15. _____

16. _____

18)



19)



20)



17. _____

18. _____

19. _____

20. _____

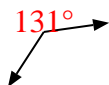


Determina se ogni angolo mostrato è 'minore', 'maggiore' o 'uguale' a 90° .

Es)



1)



2)



Es. minore

3)



4)



5)



1. maggiore

2. maggiore

3. minore

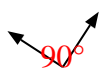
4. uguale

5. maggiore

6)



7)



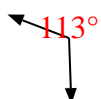
8)



6. uguale

7. uguale

9)



10)



11)



8. uguale

9. maggiore

10. minore

11. uguale

12)



13)



14)



12. maggiore

13. maggiore

15)



16)



17)



14. minore

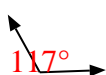
15. minore

16. uguale

18)



19)



20)



17. minore

18. uguale

19. maggiore

20. uguale