



Determina se ogni angolo mostrato è 'minore', 'maggiore' o 'uguale' a 90° .

Risposte

Es)



1)



2)



Es. **minore**

1. _____

2. _____

3)



4)



5)



3. _____

4. _____

5. _____

6)



7)



8)



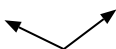
6. _____

7. _____

9)



10)



11)



8. _____

9. _____

10. _____

12)



13)



14)



11. _____

12. _____

13. _____

15)



16)



17)



14. _____

15. _____

16. _____

18)



19)



20)



17. _____

18. _____

19. _____

20. _____



Determina se ogni angolo mostrato è 'minore', 'maggiore' o 'uguale' a 90° .

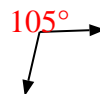
Es)



1)



2)



3)



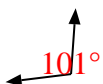
4)



5)



6)



7)



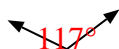
8)



9)



10)



11)



12)



13)



14)



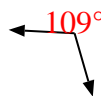
15)



16)



17)



18)



19)



20)



Risposte

Es. minore

1. uguale

2. maggiore

3. minore

4. uguale

5. minore

6. maggiore

7. uguale

8. maggiore

9. minore

10. maggiore

11. uguale

12. maggiore

13. minore

14. minore

15. uguale

16. maggiore

17. maggiore

18. uguale

19. uguale

20. uguale