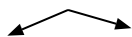




Determina se ogni angolo mostrato è 'minore', 'maggiore' o 'uguale' a 90°.

Es)



1)



2)



Risposte

Es. **maggiore**

1. _____

2. _____

3. _____

4. _____

5. _____

6. _____

7. _____

8. _____

9. _____

10. _____

11. _____

12. _____

13. _____

14. _____

15. _____

16. _____

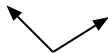
17. _____

18. _____

19. _____

20. _____

3)



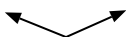
4)



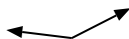
5)



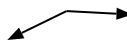
6)



7)



8)



9)



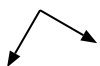
10)



11)



12)



13)



14)



15)



16)



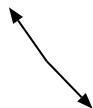
17)



18)



19)



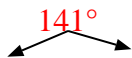
20)





Determina se ogni angolo mostrato è 'minore', 'maggiore' o 'uguale' a 90° .

Es)



1)



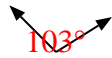
2)



Risposte

Es. maggiore

3)



4)



5)



1. minore

2. uguale

3. maggiore

4. uguale

5. uguale


6)



7)



8)



6. maggiore

7. maggiore

8. maggiore

9)



10)



11)



9. minore

10. minore

11. minore

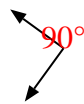
12)



13)



14)



12. uguale

13. minore

14. uguale

15)



16)



17)



15. uguale

16. maggiore

17. uguale

18)



19)



20)



18. minore

19. maggiore

20. minore