

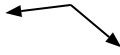


Determina se ogni angolo mostrato è 'minore', 'maggiore' o 'uguale' a 90°.

Es)



1)



2)



Es. uguale

1. _____

2. _____

3)



4)



5)



3. _____

4. _____

6)



7)



8)



5. _____

6. _____

9)



10)



11)



7. _____

8. _____

9. _____

10. _____

12)



13)



14)



11. _____

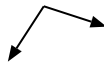
12. _____

13. _____

15)



16)



17)



14. _____

15. _____

16. _____

18)



19)



20)



17. _____

18. _____

19. _____

20. _____

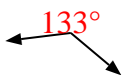


Determina se ogni angolo mostrato è 'minore', 'maggiore' o 'uguale' a 90° .

Es)



1)



2)



Es. uguale

3)



4)



5)



1. maggiore

2. uguale

3. minore

4. uguale

5. minore

6)



7)



8)



6. minore

7. maggiore

9)



10)



11)



8. minore

9. minore

10. minore

11. uguale

12)



13)



14)



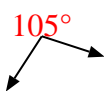
12. maggiore

13. uguale

15)



16)



17)



14. maggiore

15. uguale

16. maggiore

18)



19)



20)



17. uguale

18. minore

19. uguale

20. minore