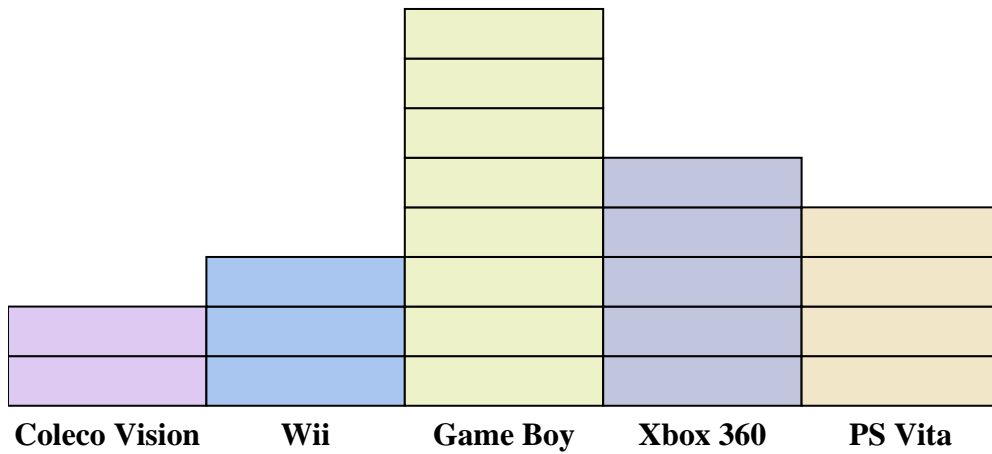
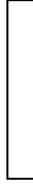




Risolvi ogni problema.



Ogni  = 2 persone possedute

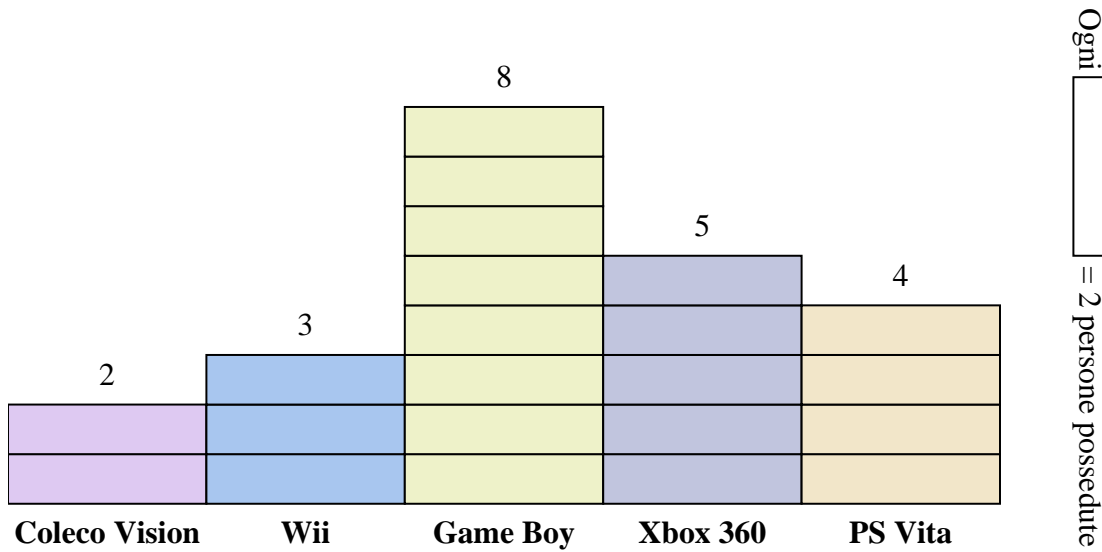
**Risposte**

1. \_\_\_\_\_
2. \_\_\_\_\_
3. \_\_\_\_\_
4. \_\_\_\_\_
5. \_\_\_\_\_
6. \_\_\_\_\_
7. \_\_\_\_\_
8. \_\_\_\_\_
9. \_\_\_\_\_
10. \_\_\_\_\_

- 1) Quante persone in più possedevano un Xbox 360 di quante possedessero un PS Vita?
- 2) Quale console possedeva il maggior numero di persone?
- 3) Quale console possedeva il minor numero di persone?
- 4) Quante console in totale possedevano le persone?
- 5) Meno persone possedevano un Coleco visioni o un Gameboy?
- 6) Più persone possedevano un Wiis o un Gameboy?
- 7) Quale console possedeva esattamente 8 persone?
- 8) Quante persone possedevano un Coleco Vision?
- 9) Qual è il numero combinato di PS Vita e Coleco visioni posseduti?
- 10) Qual è la differenza tra il numero di persone che possedevano un Xbox 360 e il numero che possedeva un Game Boy?



Risolvi ogni problema.



**Risposte**

1. 2
2. Game Boy
3. Coleco Vision
4. 44
5. Coleco Vision
6. Game Boy
7. PS Vita
8. 4
9. 12
10. 6

- 1) Quante persone in più possedevano un Xbox 360 di quante possedessero un PS Vita?
- 2) Quale console possedeva il maggior numero di persone?
- 3) Quale console possedeva il minor numero di persone?
- 4) Quante console in totale possedevano le persone?
- 5) Meno persone possedevano un Coleco visioni o un Gameboy?
- 6) Più persone possedevano un Wiis o un Gameboy?
- 7) Quale console possedeva esattamente 8 persone?
- 8) Quante persone possedevano un Coleco Vision?
- 9) Qual è il numero combinato di PS Vita e Coleco visioni posseduti?
- 10) Qual è la differenza tra il numero di persone che possedevano un Xbox 360 e il numero che possedeva un Game Boy?