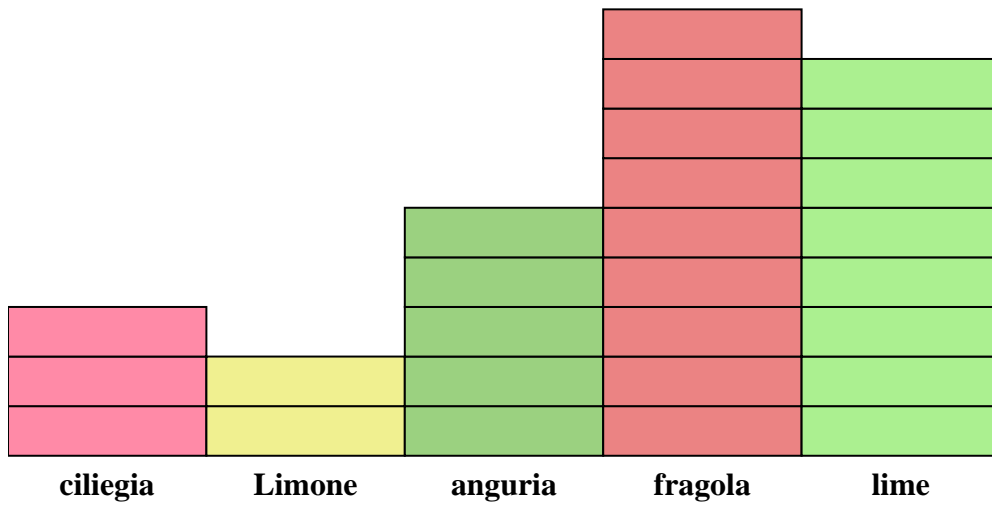




Risolvi ogni problema.



Ogni  = 2 pezzi

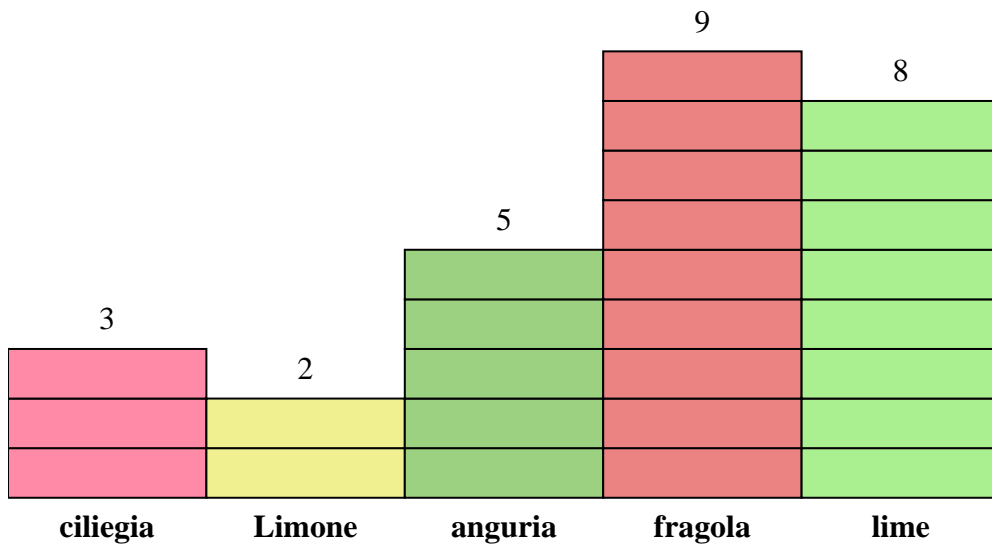
**Risposte**

1. \_\_\_\_\_
2. \_\_\_\_\_
3. \_\_\_\_\_
4. \_\_\_\_\_
5. \_\_\_\_\_
6. \_\_\_\_\_
7. \_\_\_\_\_
8. \_\_\_\_\_
9. \_\_\_\_\_
10. \_\_\_\_\_

- 1) Quanti pezzi lime c'erano in più rispetto a pezzi Limone?
- 2) Quale sapore aveva più pezzi nella borsa?
- 3) Quale gusto aveva il minor numero di pezzi nella borsa?
- 4) Quanti pezzi c'erano in totale nella scatola?
- 5) C'erano meno pezzi fragola o meno pezzi lime?
- 6) C'erano più pezzi lime o pezzi ciliegia?
- 7) Quale gusto aveva esattamente 16 pezzi nella borsa?
- 8) Quanti pezzi erano fragola?
- 9) Qual è il numero combinato di anguria e lime pezzi?
- 10) Qual è la differenza tra il numero di pezzi anguria e il numero di pezzi ciliegia?



Risolvi ogni problema.



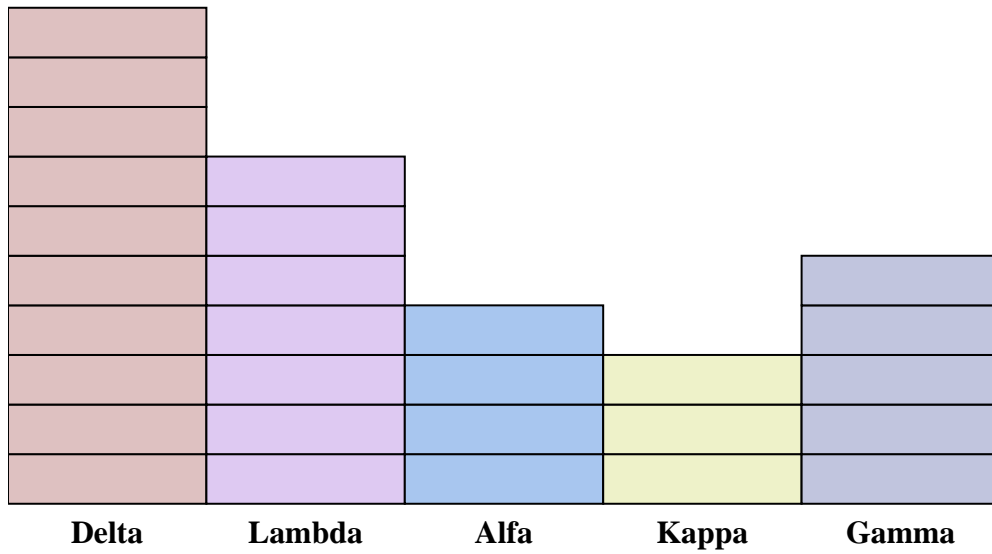
**Risposte**

1. 12
2. fragola
3. Limone
4. 54
5. lime
6. lime
7. lime
8. 18
9. 26
10. 4

- 1) Quanti pezzi lime c'erano in più rispetto a pezzi Limone?
- 2) Quale sapore aveva più pezzi nella borsa?
- 3) Quale gusto aveva il minor numero di pezzi nella borsa?
- 4) Quanti pezzi c'erano in totale nella scatola?
- 5) C'erano meno pezzi fragola o meno pezzi lime?
- 6) C'erano più pezzi lime o pezzi ciliegia?
- 7) Quale gusto aveva esattamente 16 pezzi nella borsa?
- 8) Quanti pezzi erano fragola?
- 9) Qual è il numero combinato di anguria e lime pezzi?
- 10) Qual è la differenza tra il numero di pezzi anguria e il numero di pezzi ciliegia?



Risolvi ogni problema.



Ogni = 2 punti

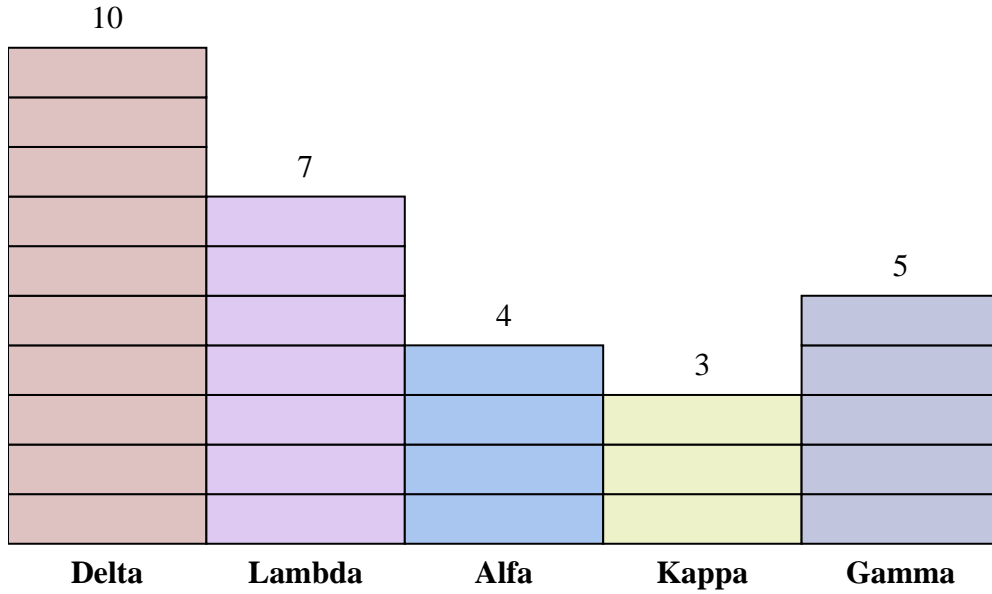
**Risposte**

1. \_\_\_\_\_
2. \_\_\_\_\_
3. \_\_\_\_\_
4. \_\_\_\_\_
5. \_\_\_\_\_
6. \_\_\_\_\_
7. \_\_\_\_\_
8. \_\_\_\_\_
9. \_\_\_\_\_
10. \_\_\_\_\_

- 1) Quanti punti in più ha segnato la squadra Alfa rispetto alla squadra Kappa?
- 2) Quale squadra ha segnato più punti?
- 3) Quale squadra ha segnato meno punti?
- 4) Qual è il numero totale di punti guadagnati nel gioco?
- 5) La squadra Gamma o la squadra Lambda ha segnato meno punti?
- 6) La squadra Kappa o la squadra Gamma ha ottenuto più punti?
- 7) Quale squadra ha segnato 8 punti?
- 8) Quanti punti ha segnato la squadra Lambda?
- 9) Qual è la somma dei punti segnati da Lambda e Kappa?
- 10) Qual è la differenza tra il numero di punti Delta ottenuti e il numero di Lambda ottenuti?



Risolvi ogni problema.



Ogni  = 2 punti

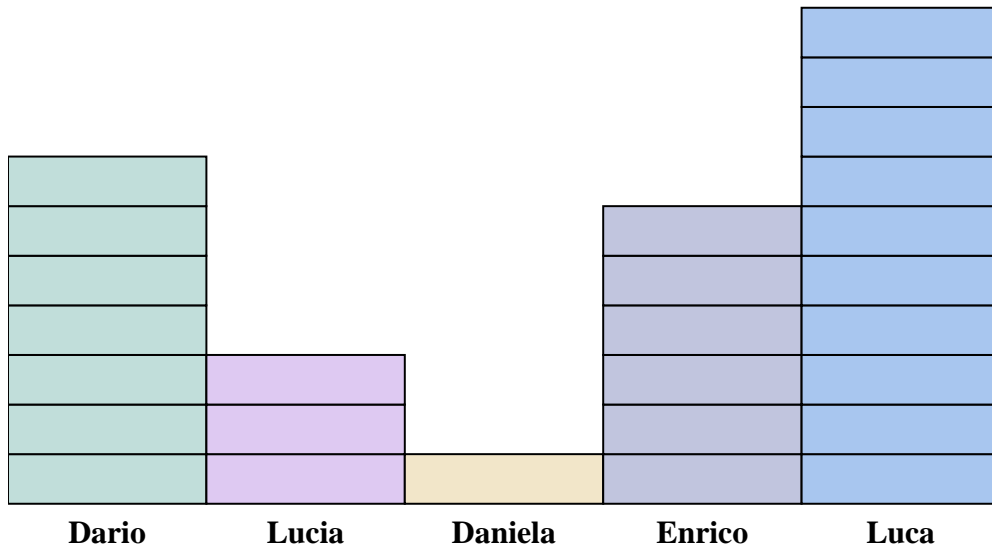
- 1) Quanti punti in più ha segnato la squadra Alfa rispetto alla squadra Kappa?
- 2) Quale squadra ha segnato più punti?
- 3) Quale squadra ha segnato meno punti?
- 4) Qual è il numero totale di punti guadagnati nel gioco?
- 5) La squadra Gamma o la squadra Lambda ha segnato meno punti?
- 6) La squadra Kappa o la squadra Gamma ha ottenuto più punti?
- 7) Quale squadra ha segnato 8 punti?
- 8) Quanti punti ha segnato la squadra Lambda?
- 9) Qual è la somma dei punti segnati da Lambda e Kappa?
- 10) Qual è la differenza tra il numero di punti Delta ottenuti e il numero di Lambda ottenuti?

**Risposte**

1. **2**
2. **Delta**
3. **Kappa**
4. **58**
5. **Gamma**
6. **Gamma**
7. **Alfa**
8. **14**
9. **20**
10. **6**



Risolvi ogni problema.



Ogni  = 2 lattine

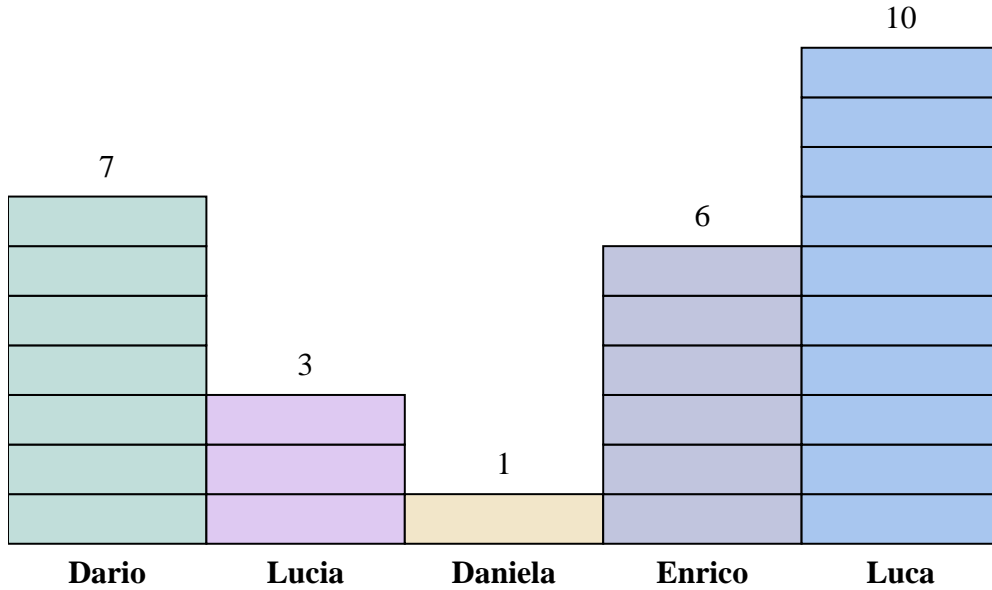
**Risposte**

1. \_\_\_\_\_
2. \_\_\_\_\_
3. \_\_\_\_\_
4. \_\_\_\_\_
5. \_\_\_\_\_
6. \_\_\_\_\_
7. \_\_\_\_\_
8. \_\_\_\_\_
9. \_\_\_\_\_
10. \_\_\_\_\_

- 1) Quante lattine in più ha raccolto Enrico rispetto a Lucia?
- 2) Chi ha raccolto più lattine?
- 3) Chi ha raccolto meno lattine?
- 4) Quante lattine in totale hanno raccolto tutti gli studenti?
- 5) Chi ha raccolto meno lattine? Enrico o Daniela?
- 6) Daniela o Lucia ha raccolto più lattine?
- 7) Chi ha raccolto esattamente le lattine 14?
- 8) Quante lattine ha raccolto Daniela?
- 9) Qual è il numero combinato di lattine Luca raccolte e Daniela raccolte?
- 10) Qual è la differenza tra il numero di lattine Dario raccolte e il numero Daniela raccolte?



Risolvi ogni problema.



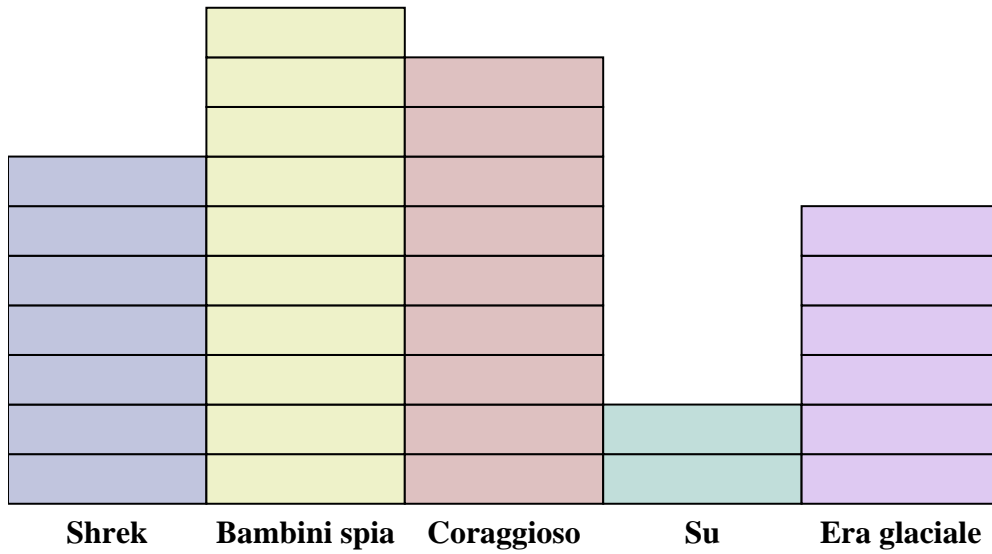
**Risposte**

1. 6
2. Luca
3. Daniela
4. 54
5. Daniela
6. Lucia
7. Dario
8. 2
9. 22
10. 12

- 1) Quante lattine in più ha raccolto Enrico rispetto a Lucia?
- 2) Chi ha raccolto più lattine?
- 3) Chi ha raccolto meno lattine?
- 4) Quante lattine in totale hanno raccolto tutti gli studenti?
- 5) Chi ha raccolto meno lattine? Enrico o Daniela?
- 6) Daniela o Lucia ha raccolto più lattine?
- 7) Chi ha raccolto esattamente le lattine 14?
- 8) Quante lattine ha raccolto Daniela?
- 9) Qual è il numero combinato di lattine Luca raccolte e Daniela raccolte?
- 10) Qual è la differenza tra il numero di lattine Dario raccolte e il numero Daniela raccolte?



Risolvi ogni problema.



Ogni  = 2 voti

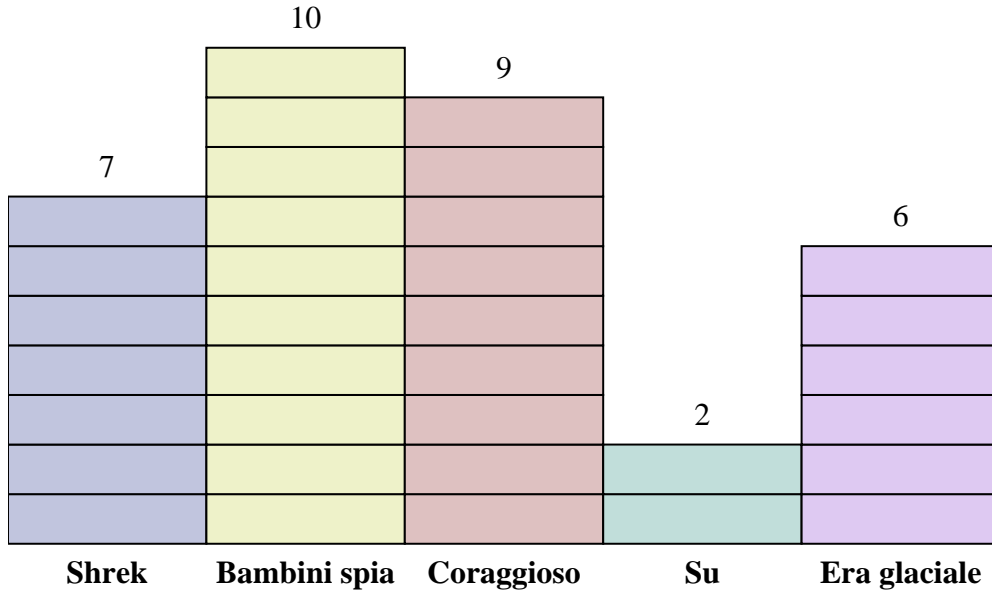
**Risposte**

1. \_\_\_\_\_
2. \_\_\_\_\_
3. \_\_\_\_\_
4. \_\_\_\_\_
5. \_\_\_\_\_
6. \_\_\_\_\_
7. \_\_\_\_\_
8. \_\_\_\_\_
9. \_\_\_\_\_
10. \_\_\_\_\_

- 1) Quanti voti in più ha ricevuto Shrek rispetto a Su?
- 2) Quale film ha ricevuto più voti?
- 3) Quale film ha ricevuto meno voti?
- 4) Qual è il numero totale di studenti che hanno votato?
- 5) Meno studenti hanno votato per Bambini spia o per Su?
- 6) Più persone hanno votato per Shrek o per Era glaciale?
- 7) Quale film ha ricevuto esattamente 14 voti?
- 8) Quante persone hanno votato per Era glaciale?
- 9) Qual è il numero combinato di persone che hanno votato per Coraggioso e Shrek?
- 10) Qual è la differenza tra il numero di persone che hanno votato per Shrek e il numero che ha votato per Bambini spia?



Risolvi ogni problema.



Ogni  = 2 voti

**Risposte**

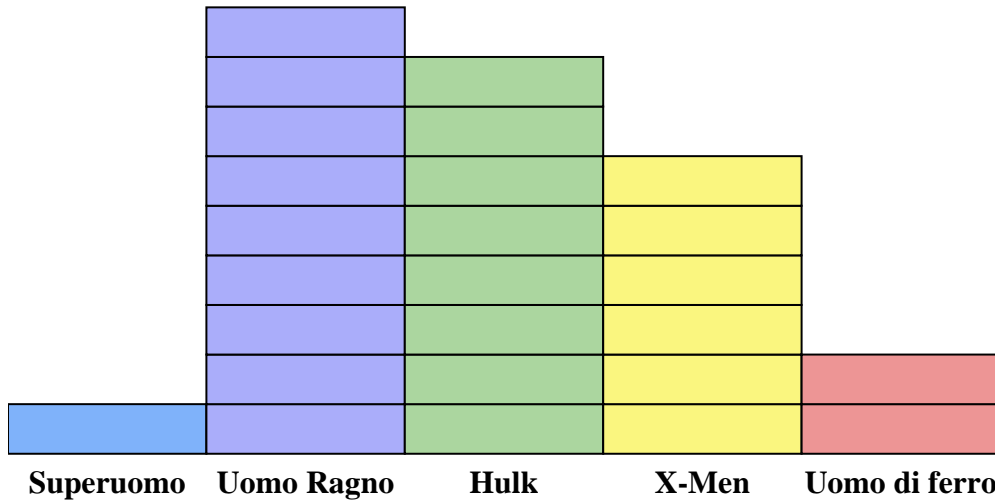
1. 10
2. Bambini spia
3. Su
4. 68
5. Su
6. Shrek
7. Shrek
8. 12
9. 32
10. 6

- 1) Quanti voti in più ha ricevuto Shrek rispetto a Su?
- 2) Quale film ha ricevuto più voti?
- 3) Quale film ha ricevuto meno voti?
- 4) Qual è il numero totale di studenti che hanno votato?
- 5) Meno studenti hanno votato per Bambini spia o per Su?
- 6) Più persone hanno votato per Shrek o per Era glaciale?
- 7) Quale film ha ricevuto esattamente 14 voti?
- 8) Quante persone hanno votato per Era glaciale?
- 9) Qual è il numero combinato di persone che hanno votato per Coraggioso e Shrek?
- 10) Qual è la differenza tra il numero di persone che hanno votato per Shrek e il numero che ha votato per Bambini spia?





Risolvi ogni problema.



Ogni  = 2 problemi venduti

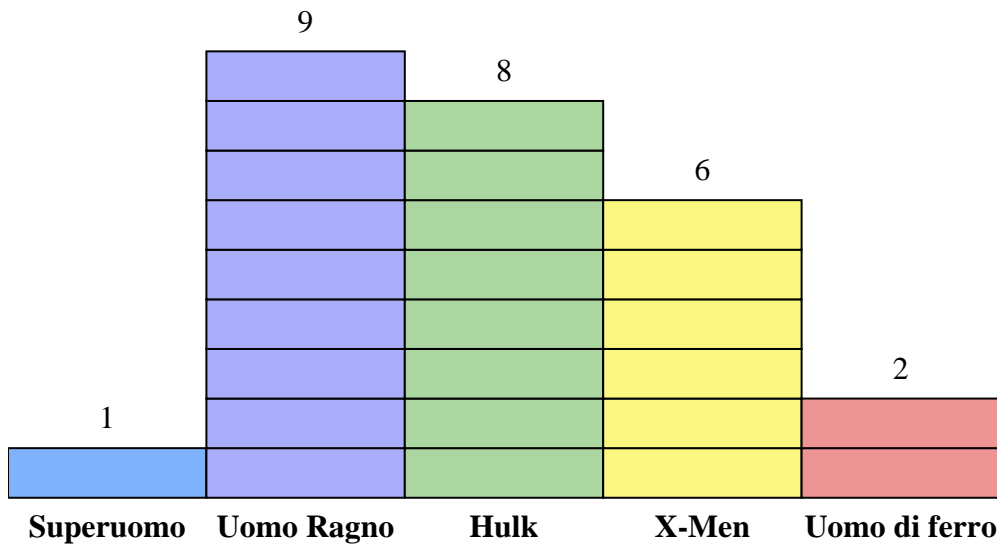
**Risposte**

1. \_\_\_\_\_
2. \_\_\_\_\_
3. \_\_\_\_\_
4. \_\_\_\_\_
5. \_\_\_\_\_
6. \_\_\_\_\_
7. \_\_\_\_\_
8. \_\_\_\_\_
9. \_\_\_\_\_
10. \_\_\_\_\_

- 1) Quante altre edizioni di Uomo Ragno sono state vendute rispetto a quelle di X-Men?
- 2) Quale serie a fumetti ha venduto più numeri?
- 3) Quale serie di fumetti ha venduto meno numeri?
- 4) Qual è il numero totale di numeri venduti per tutti i fumetti?
- 5) Quale ha venduto di meno, numeri di Uomo di ferro o numeri di Hulk?
- 6) Quale serie di fumetti ha venduto di più, Superuomo o Uomo di ferro?
- 7) Quale serie di fumetti ha venduto esattamente 2 numeri?
- 8) Quanti numeri di X-Men sono stati venduti?
- 9) Qual è il numero combinato di numeri X-Men e Hulk venduti?
- 10) Qual è la differenza tra il numero di emissioni X-Men vendute e il numero di emissioni Uomo di ferro vendute?



Risolvi ogni problema.



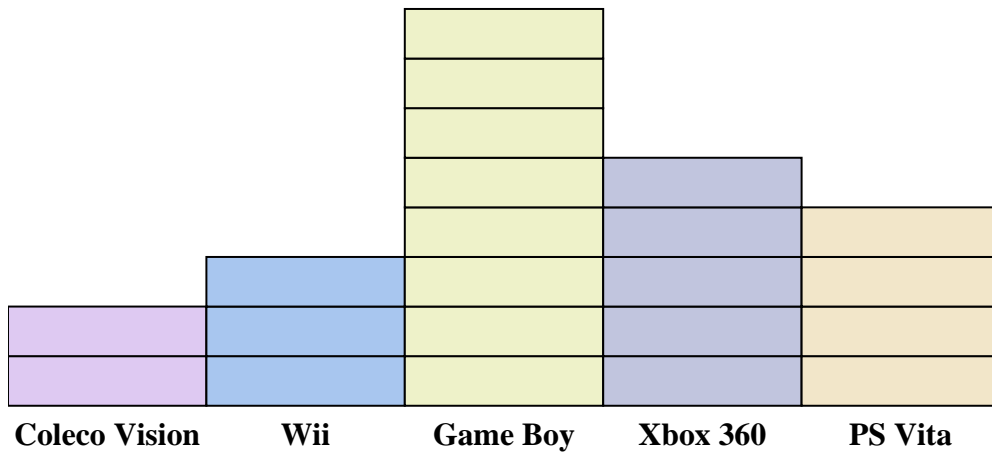
**Risposte**

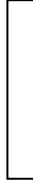
1. 6
2. Uomo Ragno
3. Superuomo
4. 52
5. Uomo di ferro
6. Uomo di ferro
7. Superuomo
8. 12
9. 28
10. 8

- 1) Quante altre edizioni di Uomo Ragno sono state vendute rispetto a quelle di X-Men?
- 2) Quale serie a fumetti ha venduto più numeri?
- 3) Quale serie di fumetti ha venduto meno numeri?
- 4) Qual è il numero totale di numeri venduti per tutti i fumetti?
- 5) Quale ha venduto di meno, numeri di Uomo di ferro o numeri di Hulk?
- 6) Quale serie di fumetti ha venduto di più, Superuomo o Uomo di ferro?
- 7) Quale serie di fumetti ha venduto esattamente 2 numeri?
- 8) Quanti numeri di X-Men sono stati venduti?
- 9) Qual è il numero combinato di numeri X-Men e Hulk venduti?
- 10) Qual è la differenza tra il numero di emissioni X-Men vendute e il numero di emissioni Uomo di ferro vendute?



Risolvi ogni problema.



Ogni  = 2 persone possedute

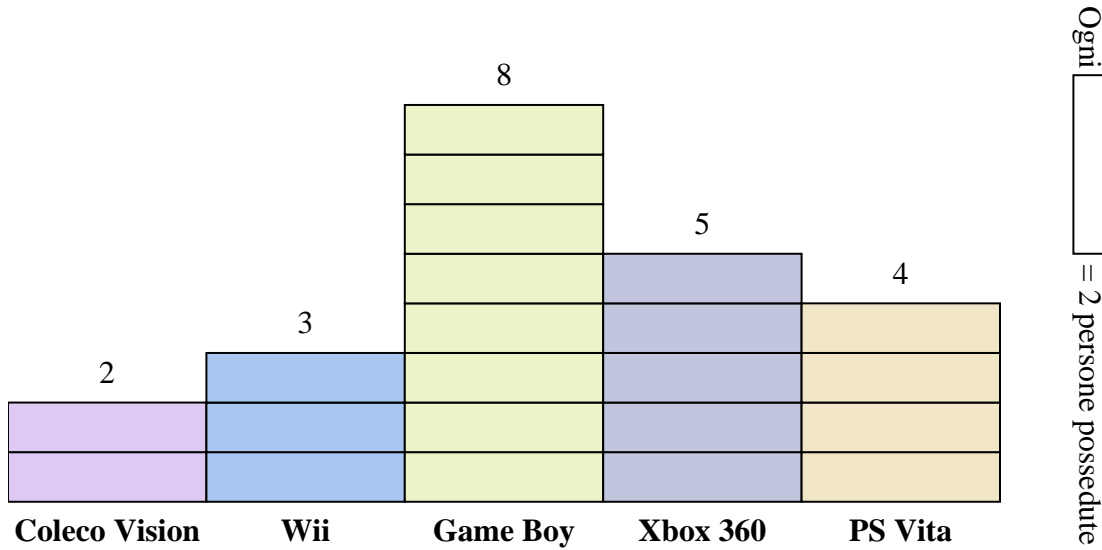
**Risposte**

1. \_\_\_\_\_
2. \_\_\_\_\_
3. \_\_\_\_\_
4. \_\_\_\_\_
5. \_\_\_\_\_
6. \_\_\_\_\_
7. \_\_\_\_\_
8. \_\_\_\_\_
9. \_\_\_\_\_
10. \_\_\_\_\_

- 1) Quante persone in più possedevano un Xbox 360 di quante possedessero un PS Vita?
- 2) Quale console possedeva il maggior numero di persone?
- 3) Quale console possedeva il minor numero di persone?
- 4) Quante console in totale possedevano le persone?
- 5) Meno persone possedevano un Coleco visioni o un Gameboy?
- 6) Più persone possedevano un Wiis o un Gameboy?
- 7) Quale console possedeva esattamente 8 persone?
- 8) Quante persone possedevano un Coleco Vision?
- 9) Qual è il numero combinato di PS Vita e Coleco visioni posseduti?
- 10) Qual è la differenza tra il numero di persone che possedevano un Xbox 360 e il numero che possedeva un Game Boy?



Risolvi ogni problema.



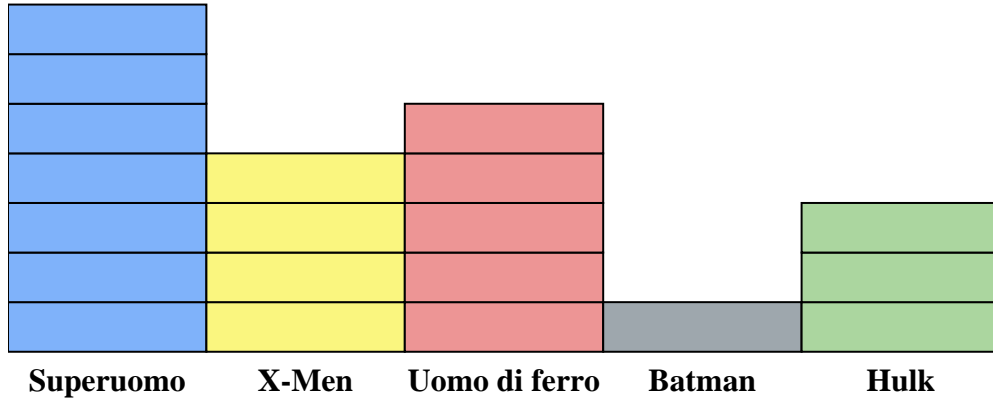
**Risposte**

1. 2
2. Game Boy
3. Coleco Vision
4. 44
5. Coleco Vision
6. Game Boy
7. PS Vita
8. 4
9. 12
10. 6

- 1) Quante persone in più possedevano un Xbox 360 di quante possedessero un PS Vita?
- 2) Quale console possedeva il maggior numero di persone?
- 3) Quale console possedeva il minor numero di persone?
- 4) Quante console in totale possedevano le persone?
- 5) Meno persone possedevano un Coleco visioni o un Gameboy?
- 6) Più persone possedevano un Wiis o un Gameboy?
- 7) Quale console possedeva esattamente 8 persone?
- 8) Quante persone possedevano un Coleco Vision?
- 9) Qual è il numero combinato di PS Vita e Coleco visioni posseduti?
- 10) Qual è la differenza tra il numero di persone che possedevano un Xbox 360 e il numero che possedeva un Game Boy?



Risolvi ogni problema.



Ogni  = 2 problemi venduti

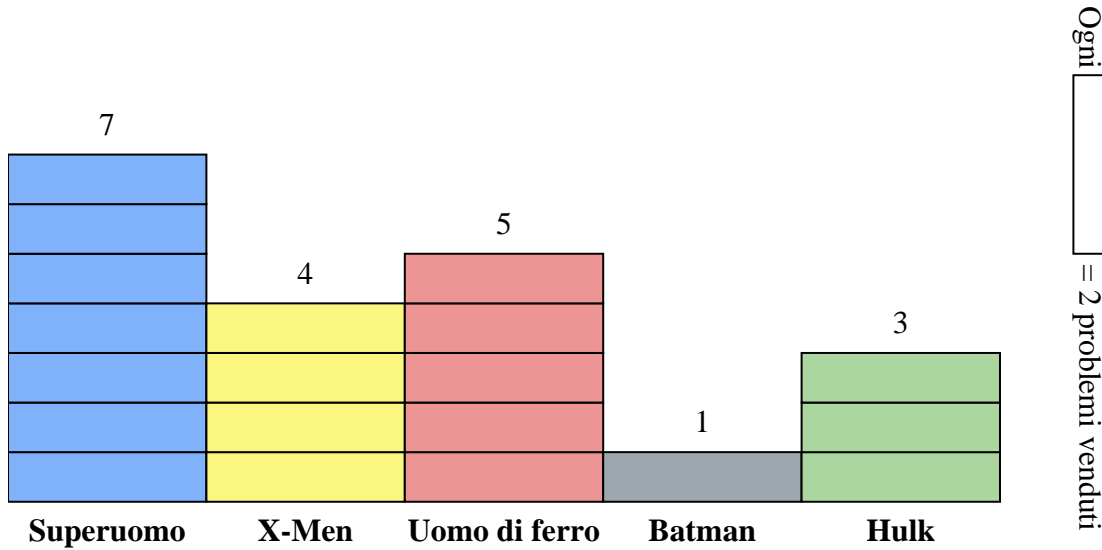
**Risposte**

1. \_\_\_\_\_
2. \_\_\_\_\_
3. \_\_\_\_\_
4. \_\_\_\_\_
5. \_\_\_\_\_
6. \_\_\_\_\_
7. \_\_\_\_\_
8. \_\_\_\_\_
9. \_\_\_\_\_
10. \_\_\_\_\_

- 1) Quante altre edizioni di Uomo di ferro sono state vendute rispetto a quelle di Hulk?
- 2) Quale serie a fumetti ha venduto più numeri?
- 3) Quale serie di fumetti ha venduto meno numeri?
- 4) Qual è il numero totale di numeri venduti per tutti i fumetti?
- 5) Quale ha venduto di meno, numeri di Batman o numeri di Uomo di ferro?
- 6) Quale serie di fumetti ha venduto di più, Batman o X-Men?
- 7) Quale serie di fumetti ha venduto esattamente 8 numeri?
- 8) Quanti numeri di Batman sono stati venduti?
- 9) Qual è il numero combinato di numeri Uomo di ferro e Superuomo venduti?
- 10) Qual è la differenza tra il numero di emissioni X-Men vendute e il numero di emissioni Hulk vendute?



Risolvi ogni problema.



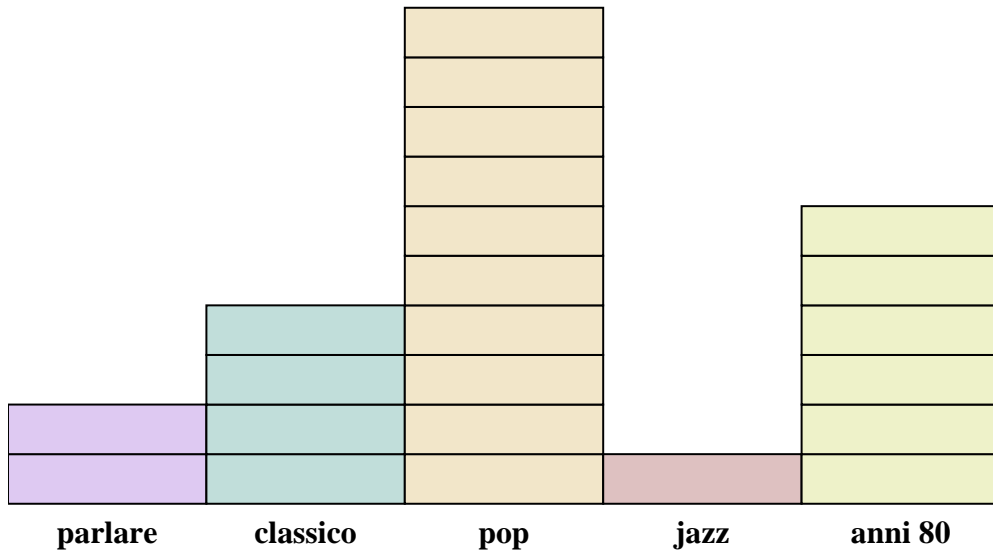
**Risposte**

1. 4
2. Superuomo
3. Batman
4. 40
5. Batman
6. X-Men
7. X-Men
8. 2
9. 24
10. 2

- 1) Quante altre edizioni di Uomo di ferro sono state vendute rispetto a quelle di Hulk?
- 2) Quale serie a fumetti ha venduto più numeri?
- 3) Quale serie di fumetti ha venduto meno numeri?
- 4) Qual è il numero totale di numeri venduti per tutti i fumetti?
- 5) Quale ha venduto di meno, numeri di Batman o numeri di Uomo di ferro?
- 6) Quale serie di fumetti ha venduto di più, Batman o X-Men?
- 7) Quale serie di fumetti ha venduto esattamente 8 numeri?
- 8) Quanti numeri di Batman sono stati venduti?
- 9) Qual è il numero combinato di numeri Uomo di ferro e Superuomo venduti?
- 10) Qual è la differenza tra il numero di emissioni X-Men vendute e il numero di emissioni Hulk vendute?



Risolvi ogni problema.



Ogni = 2 annunci riprodotti

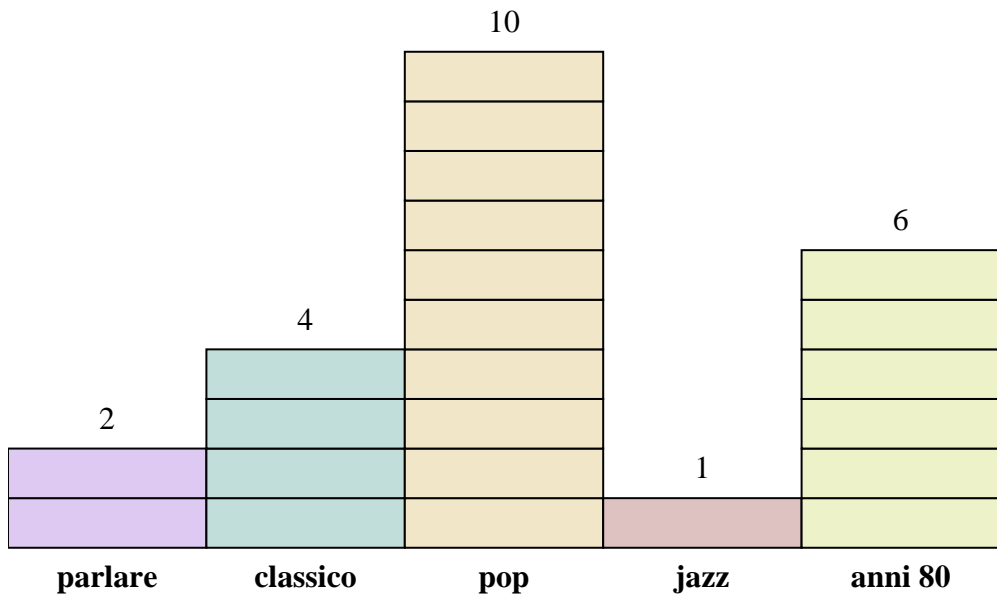
**Risposte**

1. \_\_\_\_\_
2. \_\_\_\_\_
3. \_\_\_\_\_
4. \_\_\_\_\_
5. \_\_\_\_\_
6. \_\_\_\_\_
7. \_\_\_\_\_
8. \_\_\_\_\_
9. \_\_\_\_\_
10. \_\_\_\_\_

- 1) Quanti annunci in più aveva la stazione parlare rispetto alla stazione jazz?
- 2) Quale stazione ha avuto più annunci?
- 3) Quale stazione aveva il minor numero di annunci?
- 4) Qual è il numero totale di annunci su tutte le stazioni?
- 5) C'erano meno annunci sulla stazione classico o sulla stazione parlare?
- 6) C'erano più annunci sulla stazione pop o sulla stazione parlare?
- 7) Quale stazione aveva esattamente 20 annunci?
- 8) Quanti annunci c'erano sulla stazione parlare?
- 9) Qual è il numero combinato di annunci riprodotti sulla stazione jazz e sulla stazione classico?
- 10) Qual è la differenza tra il numero di annunci riprodotti sulla stazione pop e il numero riprodotto sulla stazione anni 80?



Risolvi ogni problema.



**Risposte**


1. 2
2. pop
3. jazz
4. 46
5. parlare
6. pop
7. pop
8. 4
9. 10
10. 8

- 1) Quanti annunci in più aveva la stazione parlare rispetto alla stazione jazz?
- 2) Quale stazione ha avuto più annunci?
- 3) Quale stazione aveva il minor numero di annunci?
- 4) Qual è il numero totale di annunci su tutte le stazioni?
- 5) C'erano meno annunci sulla stazione classico o sulla stazione parlare?
- 6) C'erano più annunci sulla stazione pop o sulla stazione parlare?
- 7) Quale stazione aveva esattamente 20 annunci?
- 8) Quanti annunci c'erano sulla stazione parlare?
- 9) Qual è il numero combinato di annunci riprodotti sulla stazione jazz e sulla stazione classico?
- 10) Qual è la differenza tra il numero di annunci riprodotti sulla stazione pop e il numero riprodotto sulla stazione anni 80?





Risolvi ogni problema.



Ogni  = 2 voti

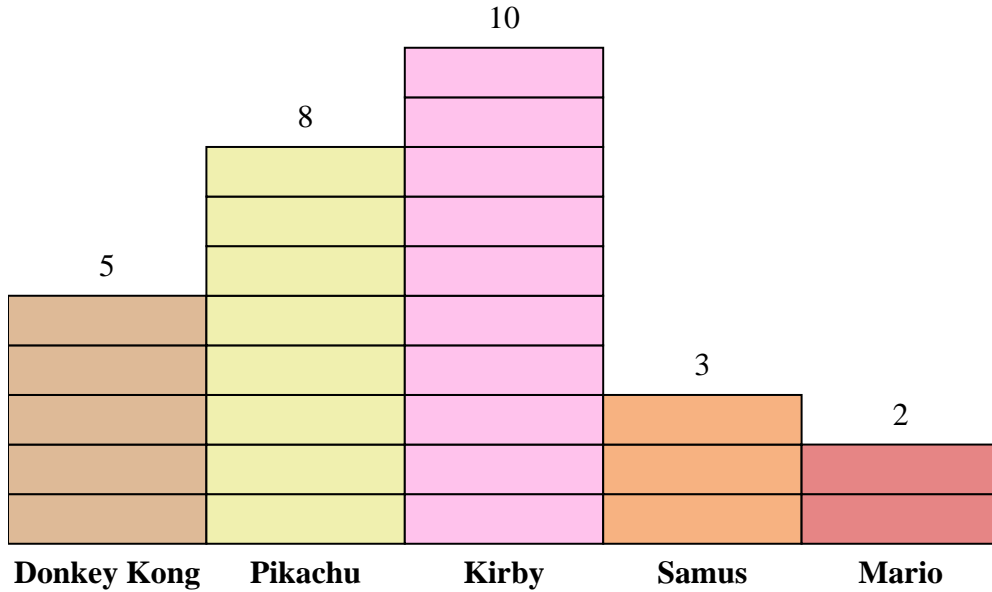
**Risposte**

1. \_\_\_\_\_
2. \_\_\_\_\_
3. \_\_\_\_\_
4. \_\_\_\_\_
5. \_\_\_\_\_
6. \_\_\_\_\_
7. \_\_\_\_\_
8. \_\_\_\_\_
9. \_\_\_\_\_
10. \_\_\_\_\_

- 1) A quante più persone è piaciuto Donkey Kong rispetto a Mario?
- 2) Quale personaggio ha detto che il maggior numero di persone è il loro preferito?
- 3) Quale personaggio ha detto che il minor numero di persone è il loro preferito?
- 4) Quante persone in totale hanno risposto al sondaggio?
- 5) A meno persone è piaciuto Pikachu o Kirby?
- 6) A più persone è piaciuto Samus o Mario?
- 7) Quale personaggio, secondo le persone di 4 esattamente, era il loro preferito?
- 8) A quante persone è piaciuto di più Pikachu?
- 9) Qual è il numero combinato di persone che hanno apprezzato Kirby e Mario?
- 10) Qual è la differenza tra il numero di persone a cui è piaciuto Kirby e il numero a cui è piaciuto Samus?



Risolvi ogni problema.



Ogni = 2 voti

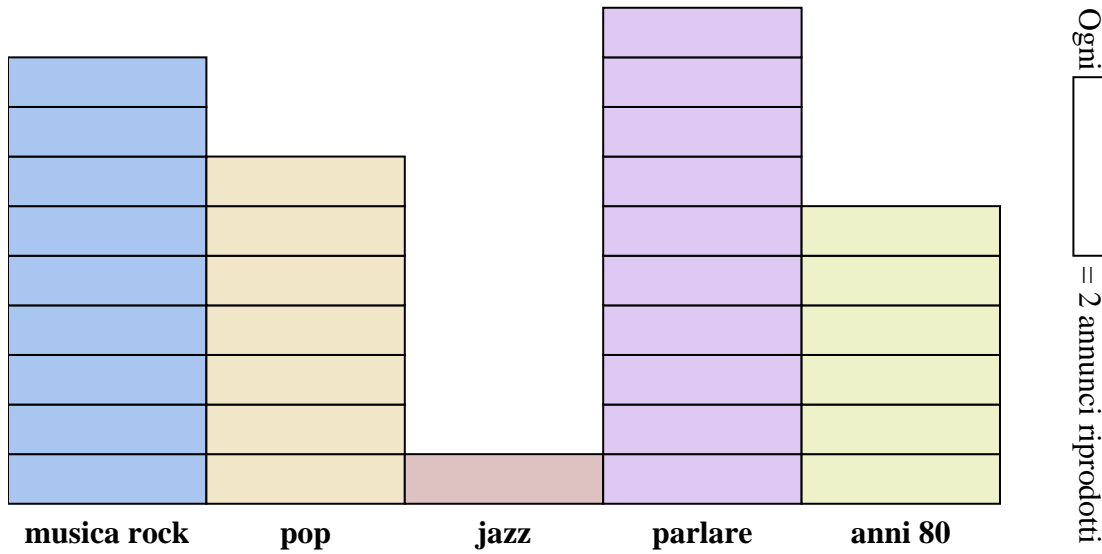
**Risposte**

1. 6
2. Kirby
3. Mario
4. 56
5. Pikachu
6. Samus
7. Mario
8. 16
9. 24
10. 14

- 1) A quante più persone è piaciuto Donkey Kong rispetto a Mario?
- 2) Quale personaggio ha detto che il maggior numero di persone è il loro preferito?
- 3) Quale personaggio ha detto che il minor numero di persone è il loro preferito?
- 4) Quante persone in totale hanno risposto al sondaggio?
- 5) A meno persone è piaciuto Pikachu o Kirby?
- 6) A più persone è piaciuto Samus o Mario?
- 7) Quale personaggio, secondo le persone di 4 esattamente, era il loro preferito?
- 8) A quante persone è piaciuto di più Pikachu?
- 9) Qual è il numero combinato di persone che hanno apprezzato Kirby e Mario?
- 10) Qual è la differenza tra il numero di persone a cui è piaciuto Kirby e il numero a cui è piaciuto Samus?



Risolvi ogni problema.



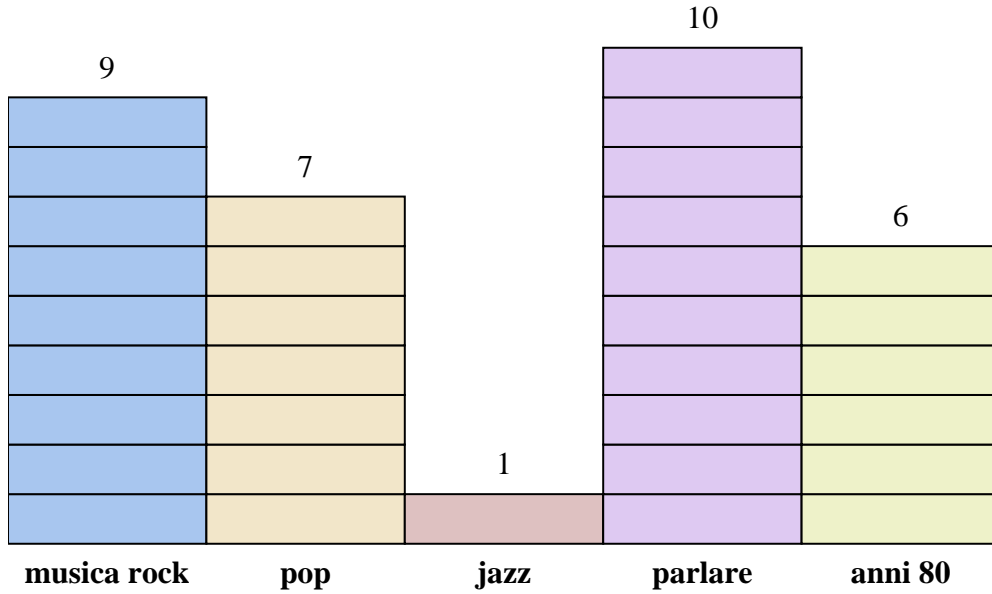
**Risposte**

1. \_\_\_\_\_
2. \_\_\_\_\_
3. \_\_\_\_\_
4. \_\_\_\_\_
5. \_\_\_\_\_
6. \_\_\_\_\_
7. \_\_\_\_\_
8. \_\_\_\_\_
9. \_\_\_\_\_
10. \_\_\_\_\_

- 1) Quanti annunci in più aveva la stazione musica rock rispetto alla stazione pop?
- 2) Quale stazione ha avuto più annunci?
- 3) Quale stazione aveva il minor numero di annunci?
- 4) Qual è il numero totale di annunci su tutte le stazioni?
- 5) C'erano meno annunci sulla stazione parlare o sulla stazione jazz?
- 6) C'erano più annunci sulla stazione jazz o sulla stazione musica rock?
- 7) Quale stazione aveva esattamente 14 annunci?
- 8) Quanti annunci c'erano sulla stazione anni 80?
- 9) Qual è il numero combinato di annunci riprodotti sulla stazione parlare e sulla stazione musica rock?
- 10) Qual è la differenza tra il numero di annunci riprodotti sulla stazione anni 80 e il numero riprodotto sulla stazione pop?



Risolvi ogni problema.



**Risposte**

1. 4
2. parlare
3. jazz
4. 66
5. jazz
6. musica rock
7. pop
8. 12
9. 38
10. 2

- 1) Quanti annunci in più aveva la stazione musica rock rispetto alla stazione pop?
- 2) Quale stazione ha avuto più annunci?
- 3) Quale stazione aveva il minor numero di annunci?
- 4) Qual è il numero totale di annunci su tutte le stazioni?
- 5) C'erano meno annunci sulla stazione parlare o sulla stazione jazz?
- 6) C'erano più annunci sulla stazione jazz o sulla stazione musica rock?
- 7) Quale stazione aveva esattamente 14 annunci?
- 8) Quanti annunci c'erano sulla stazione anni 80?
- 9) Qual è il numero combinato di annunci riprodotti sulla stazione parlare e sulla stazione musica rock?
- 10) Qual è la differenza tra il numero di annunci riprodotti sulla stazione anni 80 e il numero riprodotto sulla stazione pop?