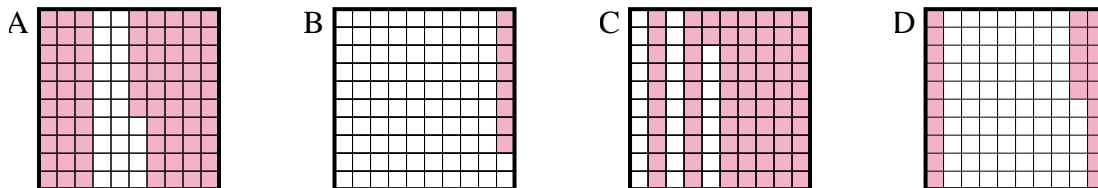




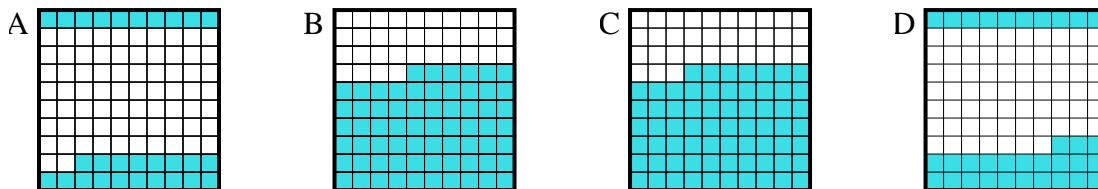
Determina quale lettera risponde correttamente alla domanda.

Risposte

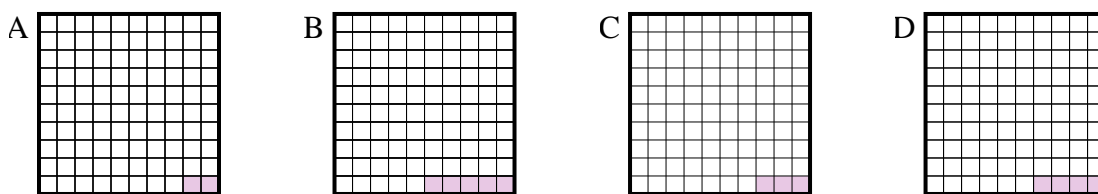
1) Quale griglia 10×10 è colorata in modo da rappresentare un numero decimale, che sommato a $0,75$ fa $1,00$?



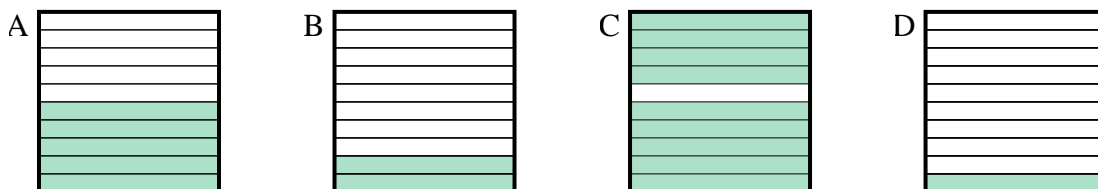
2) Quale griglia 10×10 è colorata in modo da rappresentare un numero decimale, che sommato a $0,67$ fa $1,00$?



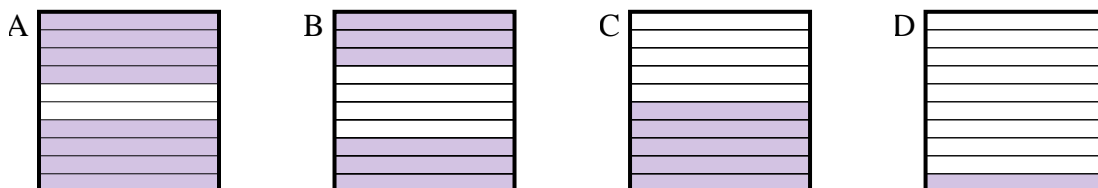
3) Quale griglia 10×10 è colorata in modo da rappresentare un numero decimale, che sommato a $0,97$ fa $1,00$?



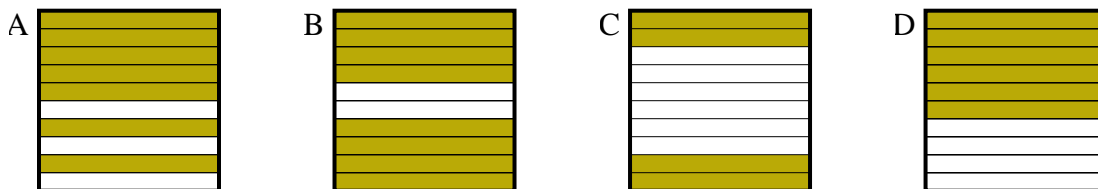
4) Quale griglia 10×1 è colorata in modo da rappresentare un numero decimale, che sommato a $0,1$ fa $1,00$?



5) Quale griglia 10×1 è colorata in modo da rappresentare un numero decimale, che sommato a $0,2$ fa $1,00$?



6) Quale griglia 10×1 è colorata in modo da rappresentare un numero decimale, che sommato a $0,6$ fa $1,00$?



1. _____

2. _____

3. _____

4. _____

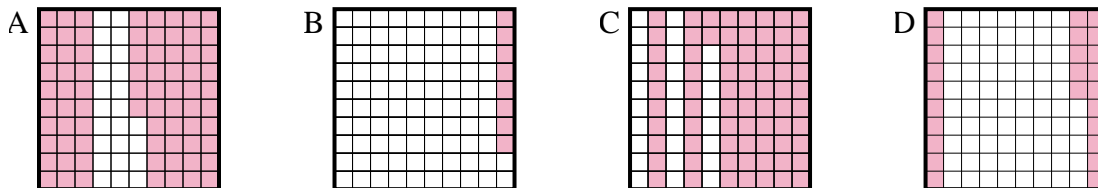
5. _____

6. _____

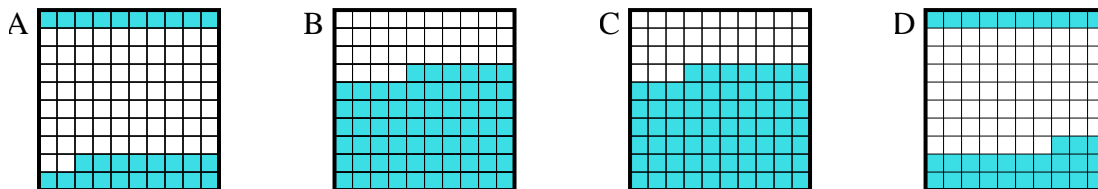


Determina quale lettera risponde correttamente alla domanda.

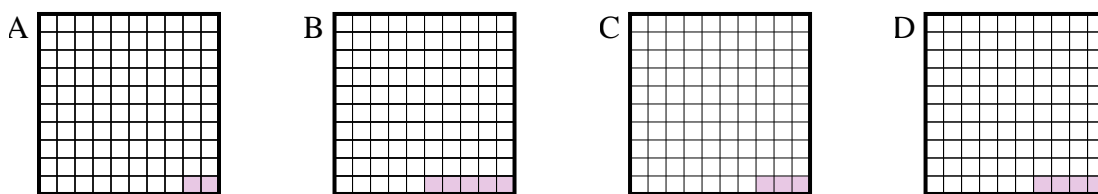
1) Quale griglia 10×10 è colorata in modo da rappresentare un numero decimale, che sommato a 0,75 fa 1,00?



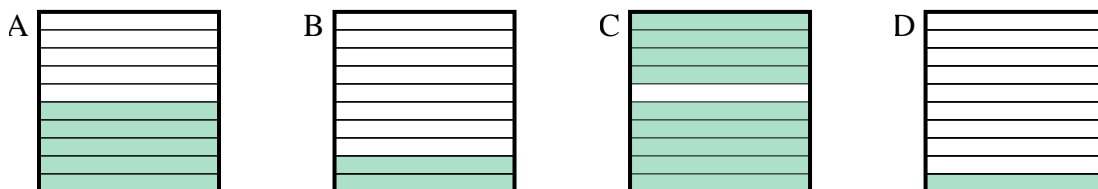
2) Quale griglia 10×10 è colorata in modo da rappresentare un numero decimale, che sommato a 0,67 fa 1,00?



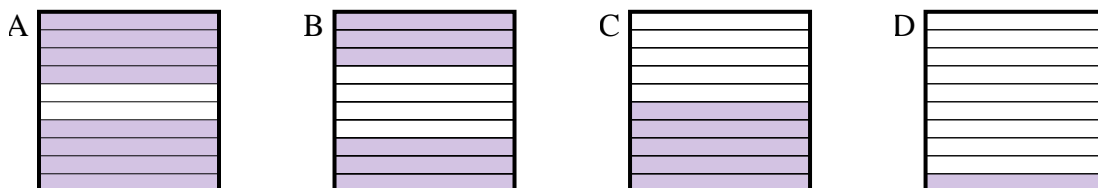
3) Quale griglia 10×10 è colorata in modo da rappresentare un numero decimale, che sommato a 0,97 fa 1,00?



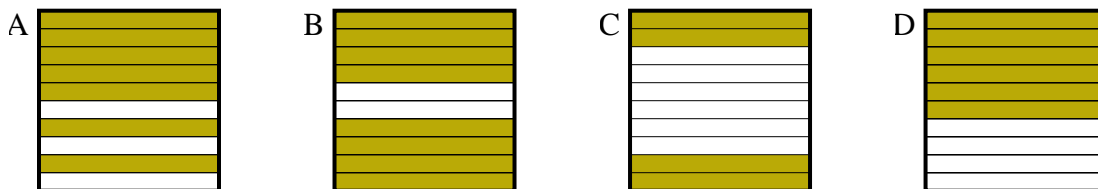
4) Quale griglia 10×1 è colorata in modo da rappresentare un numero decimale, che sommato a 0,1 fa 1,00?



5) Quale griglia 10×1 è colorata in modo da rappresentare un numero decimale, che sommato a 0,2 fa 1,00?



6) Quale griglia 10×1 è colorata in modo da rappresentare un numero decimale, che sommato a 0,6 fa 1,00?



Risposte

1. **D**

2. **D**

3. **C**

4. **C**

5. **A**

6. **C**