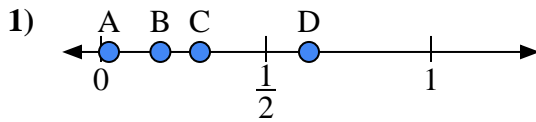
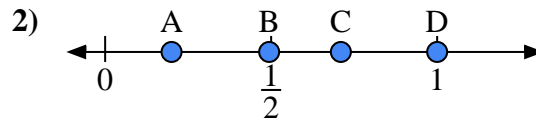




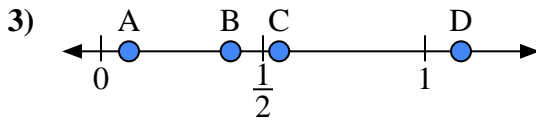
Usa la linea numerata per rispondere alle domande.

Risposte

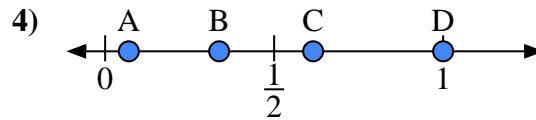
- a) Quale lettera rappresenta correttamente la posizione di 0,3?
- b) Quale lettera rappresenta correttamente la posizione di 0,18?



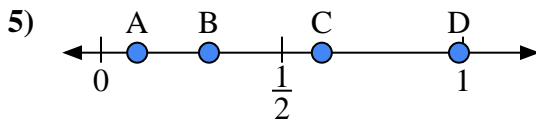
- a) Quale lettera rappresenta correttamente la posizione di 0,2?
- b) Quale lettera rappresenta correttamente la posizione di 0,71?



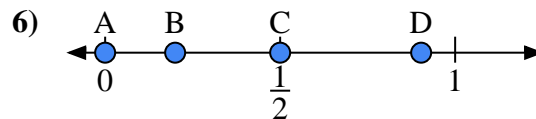
- a) Quale lettera rappresenta correttamente la posizione di 0,4?
- b) Quale lettera rappresenta correttamente la posizione di 0,55?



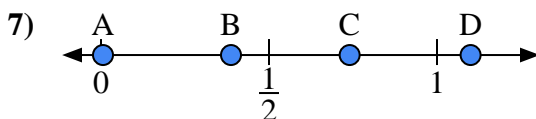
- a) Quale lettera rappresenta correttamente la posizione di 1,0?
- b) Quale lettera rappresenta correttamente la posizione di 0,07?



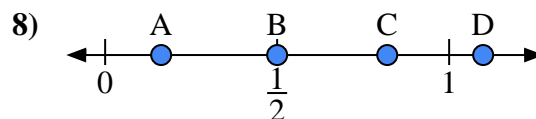
- a) Quale lettera rappresenta correttamente la posizione di 0,10?
- b) Quale lettera rappresenta correttamente la posizione di 0,61?



- a) Quale lettera rappresenta correttamente la posizione di 0,00?
- b) Quale lettera rappresenta correttamente la posizione di 0,50?



- a) Quale lettera rappresenta correttamente la posizione di 1,10?
- b) Quale lettera rappresenta correttamente la posizione di 0,74?

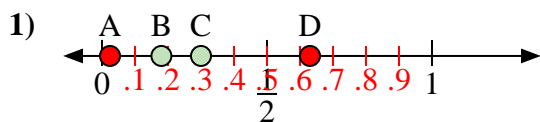


- a) Quale lettera rappresenta correttamente la posizione di 0,5?
- b) Quale lettera rappresenta correttamente la posizione di 0,82?

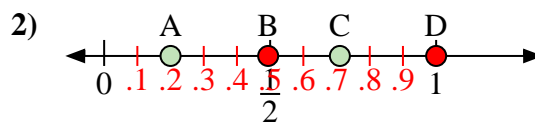
1. _____
2. _____
3. _____
4. _____
5. _____
6. _____
7. _____
8. _____



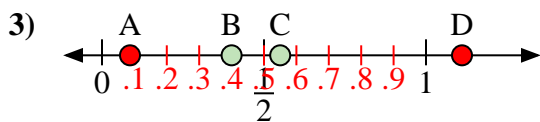
Usa la linea numerata per rispondere alle domande.

Risposte

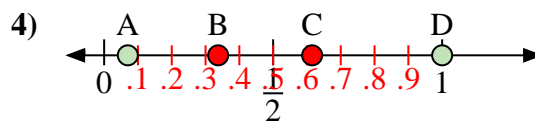
- a) Quale lettera rappresenta correttamente la posizione di 0,3?
- b) Quale lettera rappresenta correttamente la posizione di 0,18?



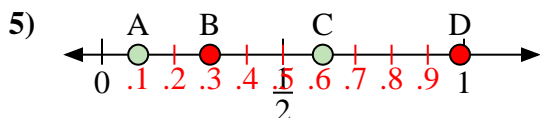
- a) Quale lettera rappresenta correttamente la posizione di 0,2?
- b) Quale lettera rappresenta correttamente la posizione di 0,71?



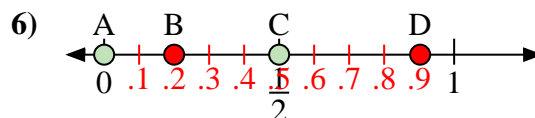
- a) Quale lettera rappresenta correttamente la posizione di 0,4?
- b) Quale lettera rappresenta correttamente la posizione di 0,55?



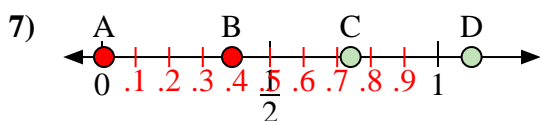
- a) Quale lettera rappresenta correttamente la posizione di 1,0?
- b) Quale lettera rappresenta correttamente la posizione di 0,07?



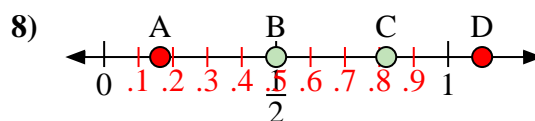
- a) Quale lettera rappresenta correttamente la posizione di 0,10?
- b) Quale lettera rappresenta correttamente la posizione di 0,61?



- a) Quale lettera rappresenta correttamente la posizione di 0,00?
- b) Quale lettera rappresenta correttamente la posizione di 0,50?



- a) Quale lettera rappresenta correttamente la posizione di 1,10?
- b) Quale lettera rappresenta correttamente la posizione di 0,74?



- a) Quale lettera rappresenta correttamente la posizione di 0,5?
- b) Quale lettera rappresenta correttamente la posizione di 0,82?

1. C B2. A C3. B C4. D A5. A C6. A C7. D C8. B C