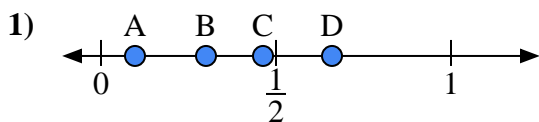
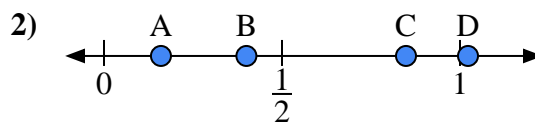




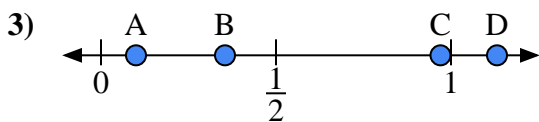
Usa la linea numerata per rispondere alle domande.

**Risposte**

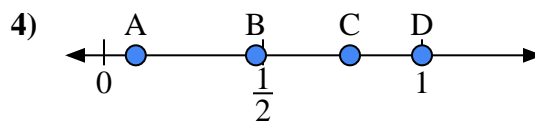
- a) Quale lettera rappresenta correttamente la posizione di 0,3?  
 b) Quale lettera rappresenta correttamente la posizione di 0,66?



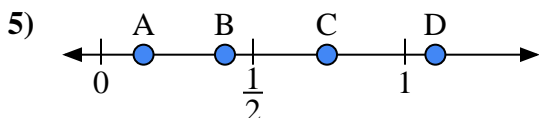
- a) Quale lettera rappresenta correttamente la posizione di 0,4?  
 b) Quale lettera rappresenta correttamente la posizione di 0,16?



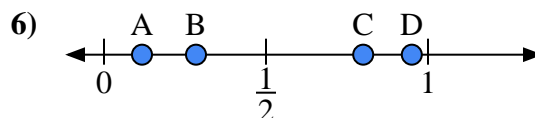
- a) Quale lettera rappresenta correttamente la posizione di 0,10?  
 b) Quale lettera rappresenta correttamente la posizione di 0,97?



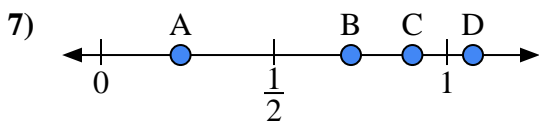
- a) Quale lettera rappresenta correttamente la posizione di 1,0?  
 b) Quale lettera rappresenta correttamente la posizione di 0,10?



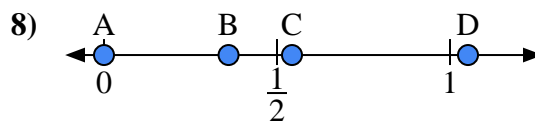
- a) Quale lettera rappresenta correttamente la posizione di 1,10?  
 b) Quale lettera rappresenta correttamente la posizione di 0,14?



- a) Quale lettera rappresenta correttamente la posizione di 0,80?  
 b) Quale lettera rappresenta correttamente la posizione di 0,95?



- a) Quale lettera rappresenta correttamente la posizione di 0,9?  
 b) Quale lettera rappresenta correttamente la posizione di 0,23?

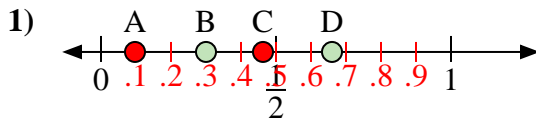


- a) Quale lettera rappresenta correttamente la posizione di 0,00?  
 b) Quale lettera rappresenta correttamente la posizione di 0,36?

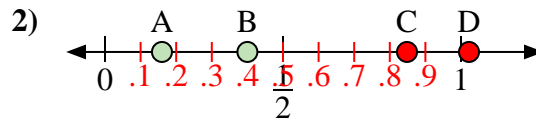
1. \_\_\_\_\_  
 2. \_\_\_\_\_  
 3. \_\_\_\_\_  
 4. \_\_\_\_\_  
 5. \_\_\_\_\_  
 6. \_\_\_\_\_  
 7. \_\_\_\_\_  
 8. \_\_\_\_\_



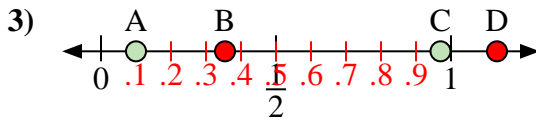
Usa la linea numerata per rispondere alle domande.

**Risposte**

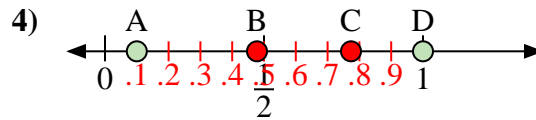
- a) Quale lettera rappresenta correttamente la posizione di 0,3?  
 b) Quale lettera rappresenta correttamente la posizione di 0,66?



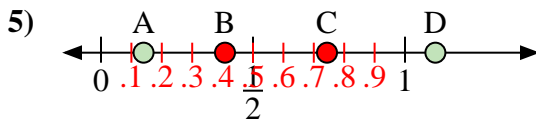
- a) Quale lettera rappresenta correttamente la posizione di 0,4?  
 b) Quale lettera rappresenta correttamente la posizione di 0,16?



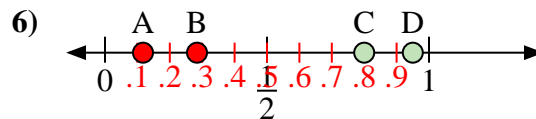
- a) Quale lettera rappresenta correttamente la posizione di 0,10?  
 b) Quale lettera rappresenta correttamente la posizione di 0,97?



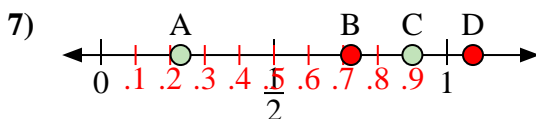
- a) Quale lettera rappresenta correttamente la posizione di 1,0?  
 b) Quale lettera rappresenta correttamente la posizione di 0,10?



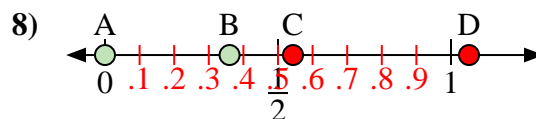
- a) Quale lettera rappresenta correttamente la posizione di 1,10?  
 b) Quale lettera rappresenta correttamente la posizione di 0,14?



- a) Quale lettera rappresenta correttamente la posizione di 0,80?  
 b) Quale lettera rappresenta correttamente la posizione di 0,95?



- a) Quale lettera rappresenta correttamente la posizione di 0,9?  
 b) Quale lettera rappresenta correttamente la posizione di 0,23?



- a) Quale lettera rappresenta correttamente la posizione di 0,00?  
 b) Quale lettera rappresenta correttamente la posizione di 0,36?

1. B D  
 2. B A  
 3. A C  
 4. D A  
 5. D A  
 6. C D  
 7. C A  
 8. A B