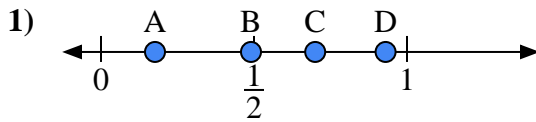
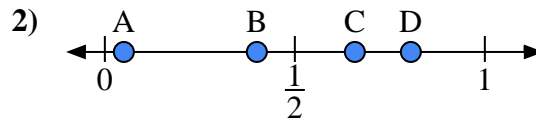




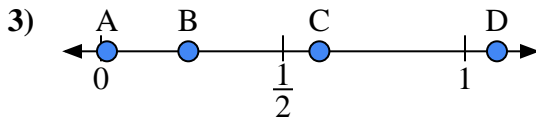
Usa la linea numerata per rispondere alle domande.

Risposte

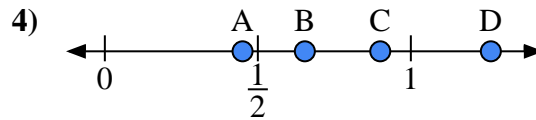
- a) Quale lettera rappresenta correttamente la posizione di 0,7?
- b) Quale lettera rappresenta correttamente la posizione di 0,93?



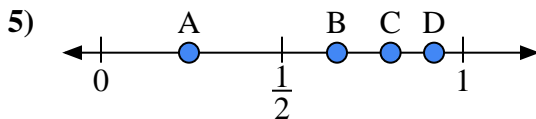
- a) Quale lettera rappresenta correttamente la posizione di 0,40?
- b) Quale lettera rappresenta correttamente la posizione di 0,05?



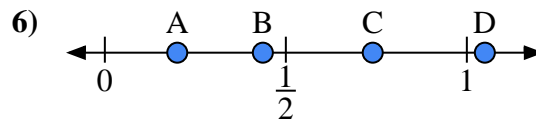
- a) Quale lettera rappresenta correttamente la posizione di 0,60?
- b) Quale lettera rappresenta correttamente la posizione di 0,24?



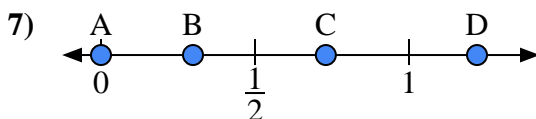
- a) Quale lettera rappresenta correttamente la posizione di 0,90?
- b) Quale lettera rappresenta correttamente la posizione di 0,45?



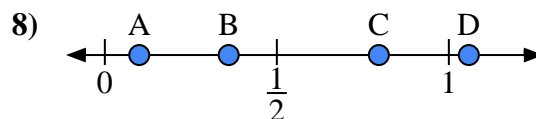
- a) Quale lettera rappresenta correttamente la posizione di 0,8?
- b) Quale lettera rappresenta correttamente la posizione di 0,92?



- a) Quale lettera rappresenta correttamente la posizione di 0,20?
- b) Quale lettera rappresenta correttamente la posizione di 0,74?



- a) Quale lettera rappresenta correttamente la posizione di 0,00?
- b) Quale lettera rappresenta correttamente la posizione di 0,73?

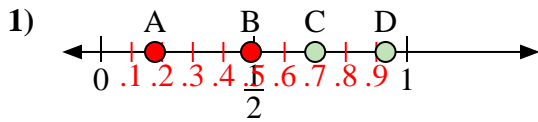


- a) Quale lettera rappresenta correttamente la posizione di 0,1?
- b) Quale lettera rappresenta correttamente la posizione di 0,36?

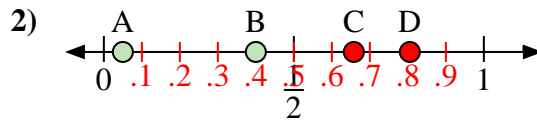
1. _____
2. _____
3. _____
4. _____
5. _____
6. _____
7. _____
8. _____



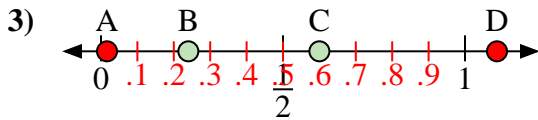
Usa la linea numerata per rispondere alle domande.

Risposte

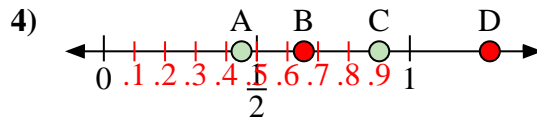
- a) Quale lettera rappresenta correttamente la posizione di 0,7?
 b) Quale lettera rappresenta correttamente la posizione di 0,93?



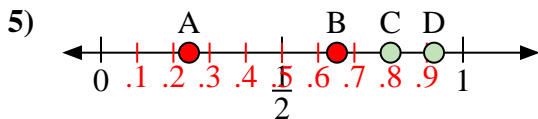
- a) Quale lettera rappresenta correttamente la posizione di 0,40?
 b) Quale lettera rappresenta correttamente la posizione di 0,05?



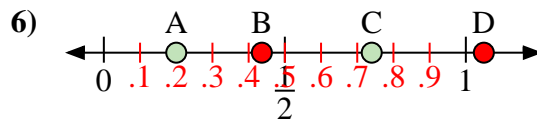
- a) Quale lettera rappresenta correttamente la posizione di 0,60?
 b) Quale lettera rappresenta correttamente la posizione di 0,24?



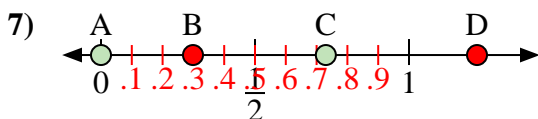
- a) Quale lettera rappresenta correttamente la posizione di 0,90?
 b) Quale lettera rappresenta correttamente la posizione di 0,45?



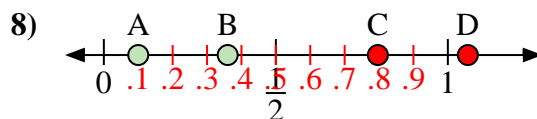
- a) Quale lettera rappresenta correttamente la posizione di 0,8?
 b) Quale lettera rappresenta correttamente la posizione di 0,92?



- a) Quale lettera rappresenta correttamente la posizione di 0,20?
 b) Quale lettera rappresenta correttamente la posizione di 0,74?



- a) Quale lettera rappresenta correttamente la posizione di 0,00?
 b) Quale lettera rappresenta correttamente la posizione di 0,73?



- a) Quale lettera rappresenta correttamente la posizione di 0,1?
 b) Quale lettera rappresenta correttamente la posizione di 0,36?

1. C D2. B A3. C B4. C A5. C D6. A C7. A C8. A B