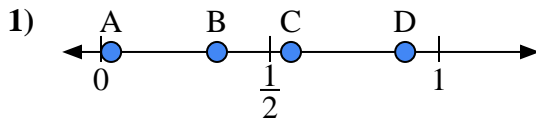
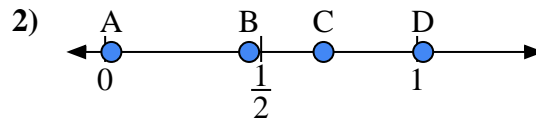




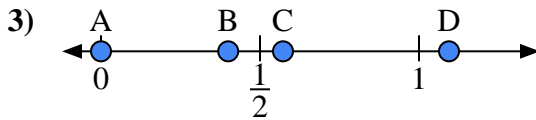
Usa la linea numerata per rispondere alle domande.

Risposte

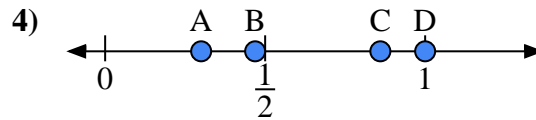
- a) Quale lettera rappresenta correttamente la posizione di 0,9?
- b) Quale lettera rappresenta correttamente la posizione di 0,03?



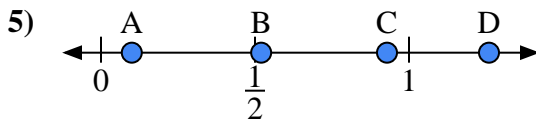
- a) Quale lettera rappresenta correttamente la posizione di 0,7?
- b) Quale lettera rappresenta correttamente la posizione di 0,02?



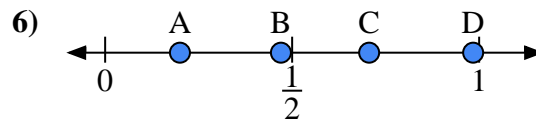
- a) Quale lettera rappresenta correttamente la posizione di 0,00?
- b) Quale lettera rappresenta correttamente la posizione di 0,40?



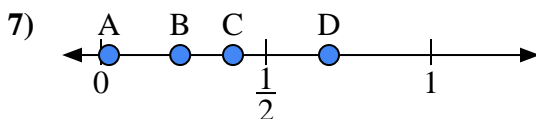
- a) Quale lettera rappresenta correttamente la posizione di 1,0?
- b) Quale lettera rappresenta correttamente la posizione di 0,86?



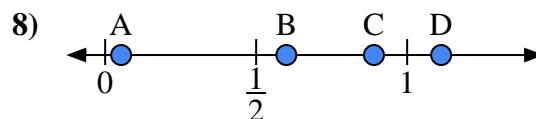
- a) Quale lettera rappresenta correttamente la posizione di 0,10?
- b) Quale lettera rappresenta correttamente la posizione di 0,52?



- a) Quale lettera rappresenta correttamente la posizione di 0,2?
- b) Quale lettera rappresenta correttamente la posizione di 0,47?



- a) Quale lettera rappresenta correttamente la posizione di 0,4?
- b) Quale lettera rappresenta correttamente la posizione di 0,24?

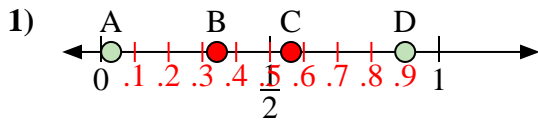


- a) Quale lettera rappresenta correttamente la posizione di 0,60?
- b) Quale lettera rappresenta correttamente la posizione di 0,89?

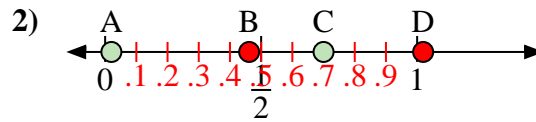
1. _____
2. _____
3. _____
4. _____
5. _____
6. _____
7. _____
8. _____



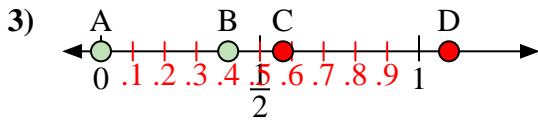
Usa la linea numerata per rispondere alle domande.

Risposte

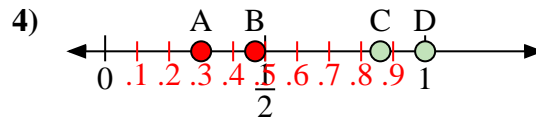
- a) Quale lettera rappresenta correttamente la posizione di 0,9?
 b) Quale lettera rappresenta correttamente la posizione di 0,03?



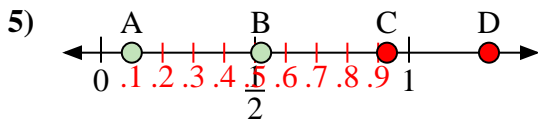
- a) Quale lettera rappresenta correttamente la posizione di 0,7?
 b) Quale lettera rappresenta correttamente la posizione di 0,02?



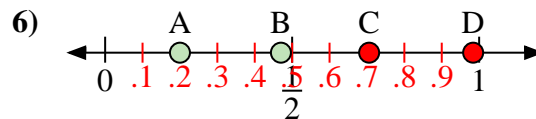
- a) Quale lettera rappresenta correttamente la posizione di 0,00?
 b) Quale lettera rappresenta correttamente la posizione di 0,40?



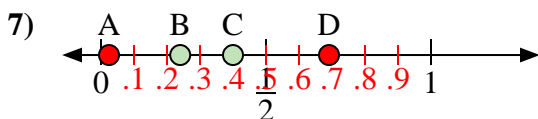
- a) Quale lettera rappresenta correttamente la posizione di 1,0?
 b) Quale lettera rappresenta correttamente la posizione di 0,86?



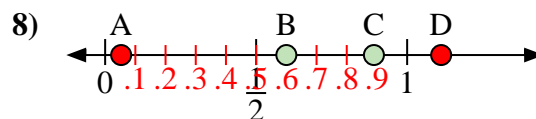
- a) Quale lettera rappresenta correttamente la posizione di 0,10?
 b) Quale lettera rappresenta correttamente la posizione di 0,52?



- a) Quale lettera rappresenta correttamente la posizione di 0,2?
 b) Quale lettera rappresenta correttamente la posizione di 0,47?



- a) Quale lettera rappresenta correttamente la posizione di 0,4?
 b) Quale lettera rappresenta correttamente la posizione di 0,24?



- a) Quale lettera rappresenta correttamente la posizione di 0,60?
 b) Quale lettera rappresenta correttamente la posizione di 0,89?

1. D A
 2. C A
 3. A B
 4. D C
 5. A B
 6. A B
 7. C B
 8. B C