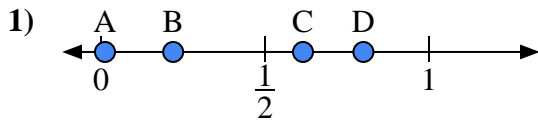
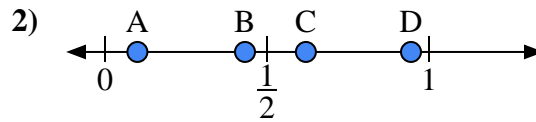




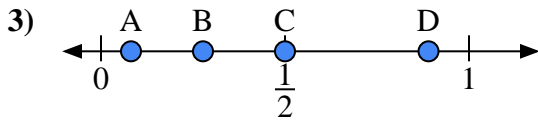
Usa la linea numerata per rispondere alle domande.

Risposte

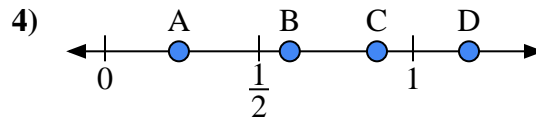
- a) Quale lettera rappresenta correttamente la posizione di 0,80?
 b) Quale lettera rappresenta correttamente la posizione di 0,22?



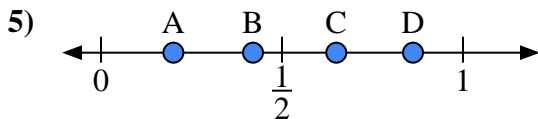
- a) Quale lettera rappresenta correttamente la posizione di 0,1?
 b) Quale lettera rappresenta correttamente la posizione di 0,62?



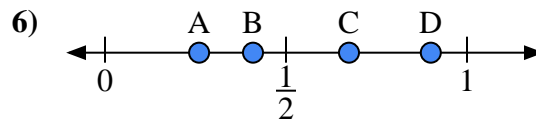
- a) Quale lettera rappresenta correttamente la posizione di 0,5?
 b) Quale lettera rappresenta correttamente la posizione di 0,89?



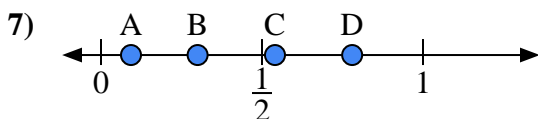
- a) Quale lettera rappresenta correttamente la posizione di 0,6?
 b) Quale lettera rappresenta correttamente la posizione di 0,24?



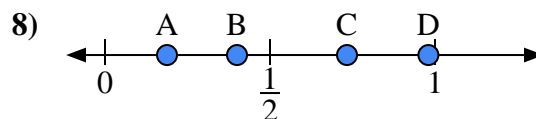
- a) Quale lettera rappresenta correttamente la posizione di 0,20?
 b) Quale lettera rappresenta correttamente la posizione di 0,65?



- a) Quale lettera rappresenta correttamente la posizione di 0,90?
 b) Quale lettera rappresenta correttamente la posizione di 0,26?



- a) Quale lettera rappresenta correttamente la posizione di 0,3?
 b) Quale lettera rappresenta correttamente la posizione di 0,78?

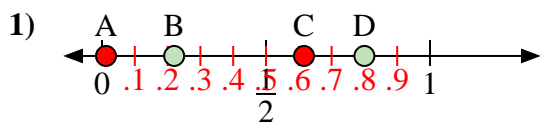


- a) Quale lettera rappresenta correttamente la posizione di 0,40?
 b) Quale lettera rappresenta correttamente la posizione di 0,98?

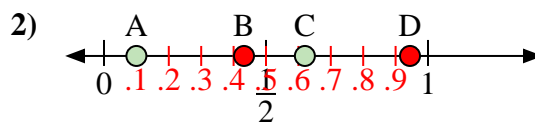
1. _____
 2. _____
 3. _____
 4. _____
 5. _____
 6. _____
 7. _____
 8. _____



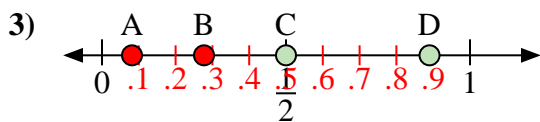
Usa la linea numerata per rispondere alle domande.

Risposte

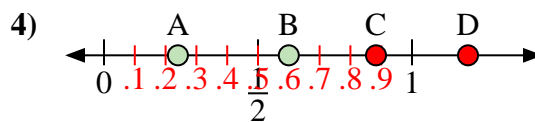
- a) Quale lettera rappresenta correttamente la posizione di 0,80?
 b) Quale lettera rappresenta correttamente la posizione di 0,22?



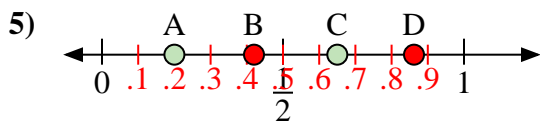
- a) Quale lettera rappresenta correttamente la posizione di 0,1?
 b) Quale lettera rappresenta correttamente la posizione di 0,62?



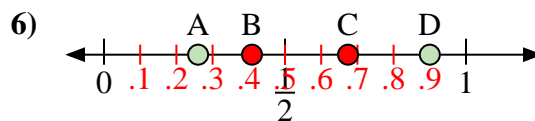
- a) Quale lettera rappresenta correttamente la posizione di 0,5?
 b) Quale lettera rappresenta correttamente la posizione di 0,89?



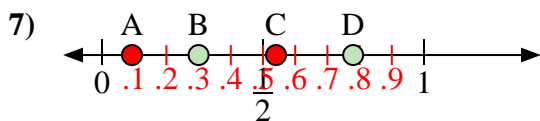
- a) Quale lettera rappresenta correttamente la posizione di 0,6?
 b) Quale lettera rappresenta correttamente la posizione di 0,24?



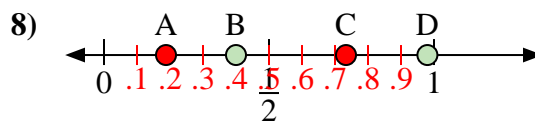
- a) Quale lettera rappresenta correttamente la posizione di 0,20?
 b) Quale lettera rappresenta correttamente la posizione di 0,65?



- a) Quale lettera rappresenta correttamente la posizione di 0,90?
 b) Quale lettera rappresenta correttamente la posizione di 0,26?



- a) Quale lettera rappresenta correttamente la posizione di 0,3?
 b) Quale lettera rappresenta correttamente la posizione di 0,78?



- a) Quale lettera rappresenta correttamente la posizione di 0,40?
 b) Quale lettera rappresenta correttamente la posizione di 0,98?

1. D B2. A C3. C D4. B A5. A C6. D A7. B D8. B D