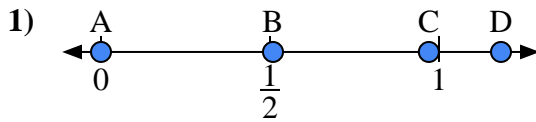
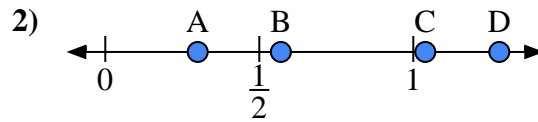




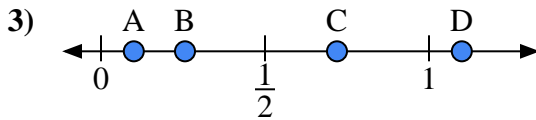
Usa la linea numerata per rispondere alle domande.

Risposte

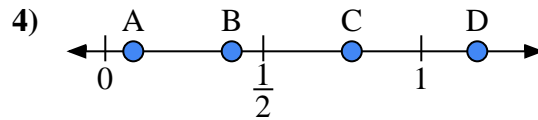
- a) Quale lettera rappresenta correttamente la posizione di 0,00?
 b) Quale lettera rappresenta correttamente la posizione di 0,97?



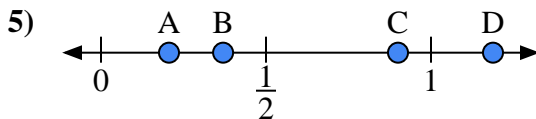
- a) Quale lettera rappresenta correttamente la posizione di 0,30?
 b) Quale lettera rappresenta correttamente la posizione di 0,57?



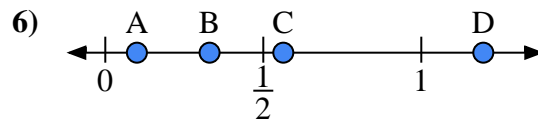
- a) Quale lettera rappresenta correttamente la posizione di 1,10?
 b) Quale lettera rappresenta correttamente la posizione di 0,10?



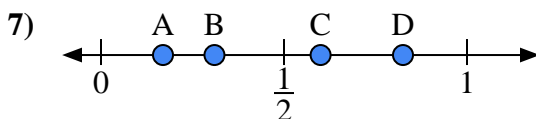
- a) Quale lettera rappresenta correttamente la posizione di 0,4?
 b) Quale lettera rappresenta correttamente la posizione di 0,78?



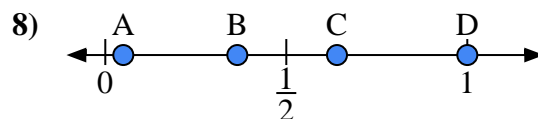
- a) Quale lettera rappresenta correttamente la posizione di 0,90?
 b) Quale lettera rappresenta correttamente la posizione di 0,37?



- a) Quale lettera rappresenta correttamente la posizione di 0,1?
 b) Quale lettera rappresenta correttamente la posizione di 0,33?



- a) Quale lettera rappresenta correttamente la posizione di 0,6?
 b) Quale lettera rappresenta correttamente la posizione di 0,31?

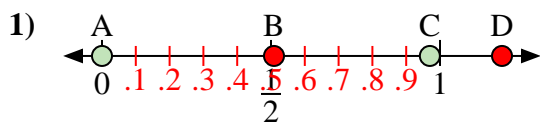


- a) Quale lettera rappresenta correttamente la posizione di 1,0?
 b) Quale lettera rappresenta correttamente la posizione di 0,64?

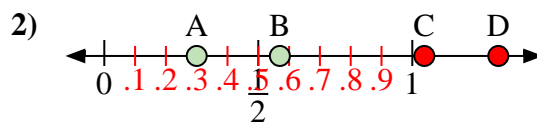
1. _____
 2. _____
 3. _____
 4. _____
 5. _____
 6. _____
 7. _____
 8. _____



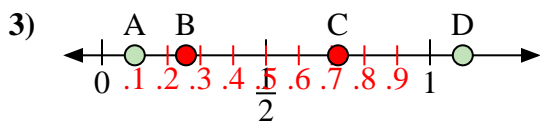
Usa la linea numerata per rispondere alle domande.

Risposte

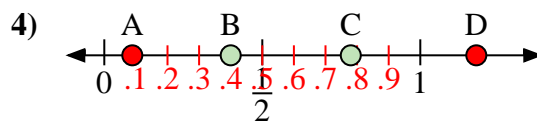
- a) Quale lettera rappresenta correttamente la posizione di 0,00?
 b) Quale lettera rappresenta correttamente la posizione di 0,97?



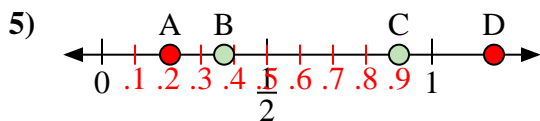
- a) Quale lettera rappresenta correttamente la posizione di 0,30?
 b) Quale lettera rappresenta correttamente la posizione di 0,57?



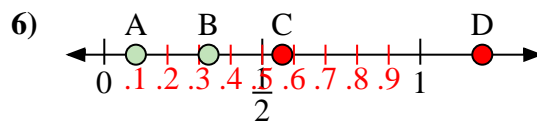
- a) Quale lettera rappresenta correttamente la posizione di 1,10?
 b) Quale lettera rappresenta correttamente la posizione di 0,10?



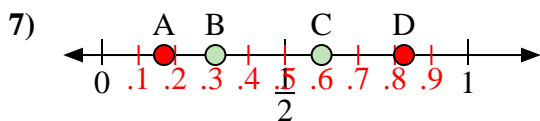
- a) Quale lettera rappresenta correttamente la posizione di 0,4?
 b) Quale lettera rappresenta correttamente la posizione di 0,78?



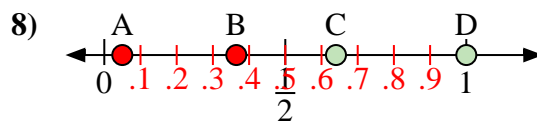
- a) Quale lettera rappresenta correttamente la posizione di 0,90?
 b) Quale lettera rappresenta correttamente la posizione di 0,37?



- a) Quale lettera rappresenta correttamente la posizione di 0,1?
 b) Quale lettera rappresenta correttamente la posizione di 0,33?



- a) Quale lettera rappresenta correttamente la posizione di 0,6?
 b) Quale lettera rappresenta correttamente la posizione di 0,31?



- a) Quale lettera rappresenta correttamente la posizione di 1,0?
 b) Quale lettera rappresenta correttamente la posizione di 0,64?

1. A C2. A B3. D A4. B C5. C B6. A B7. C B8. D C