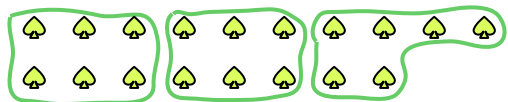




Usa le forme per risopndere alle domande.

Es) Quanti gruppi di 6 puoi fare con le 18 forme qui sotto?



2) Quanti gruppi di 6 puoi fare con le 18 forme qui sotto?




4) Quanti gruppi di 4 puoi fare con le 8 forme qui sotto?



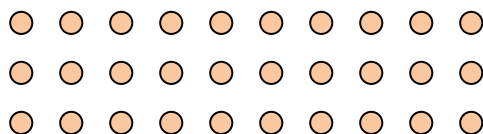
6) Quanti gruppi di 2 puoi fare con le 24 forme qui sotto?



8) Quanti gruppi di 9 puoi fare con le 27 forme qui sotto?



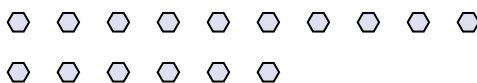
10) Quanti gruppi di 6 puoi fare con le 30 forme qui sotto?



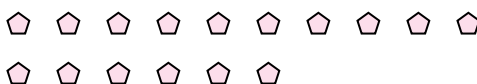
1) Quanti gruppi di 3 puoi fare con le 9 forme qui sotto?



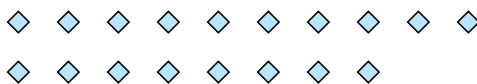
3) Quanti gruppi di 8 puoi fare con le 16 forme qui sotto?




5) Quanti gruppi di 8 puoi fare con le 16 forme qui sotto?



7) Quanti gruppi di 2 puoi fare con le 18 forme qui sotto?



9) Quanti gruppi di 9 puoi fare con le 36 forme qui sotto?



11) Quanti gruppi di 3 puoi fare con le 39 forme qui sotto?

**Risposte**Es. 31. 32. 33. 24. 25. 26. 127. 98. 39. 410. 511. 13