


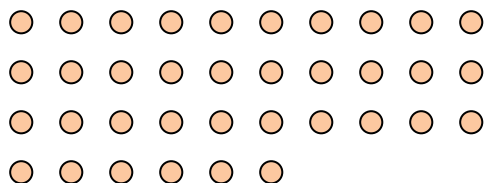


Usa le forme per rispondere alle domande.

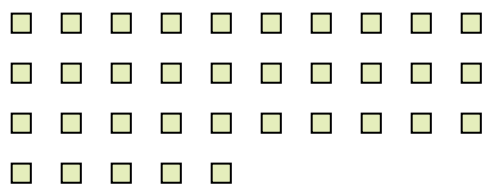
Es) Quanti gruppi di 6 puoi fare con le 18 forme qui sotto?



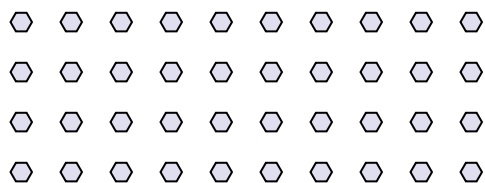
2) Quanti gruppi di 9 puoi fare con le 36 forme qui sotto?



4) Quanti gruppi di 7 puoi fare con le 35 forme qui sotto?



6) Quanti gruppi di 8 puoi fare con le 40 forme qui sotto?



8) Quanti gruppi di 4 puoi fare con le 40 forme qui sotto?




10) Quanti gruppi di 5 puoi fare con le 10 forme qui sotto?



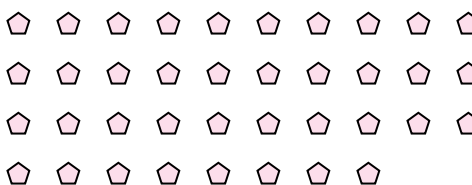
1) Quanti gruppi di 2 puoi fare con le 26 forme qui sotto?




3) Quanti gruppi di 3 puoi fare con le 24 forme qui sotto?



5) Quanti gruppi di 2 puoi fare con le 38 forme qui sotto?




7) Quanti gruppi di 9 puoi fare con le 36 forme qui sotto?



9) Quanti gruppi di 7 puoi fare con le 35 forme qui sotto?



11) Quanti gruppi di 9 puoi fare con le 27 forme qui sotto?

**Risposte**Es. 31. 132. 43. 84. 55. 196. 57. 48. 109. 510. 211. 3