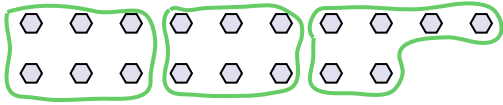


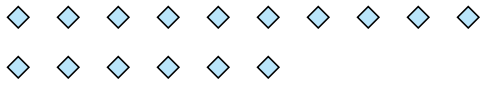


Usa le forme per risopndere alle domande.


Es) Quanti gruppi di 6 puoi fare con le 18 forme qui sotto?



2) Quanti gruppi di 4 puoi fare con le 16 forme qui sotto?



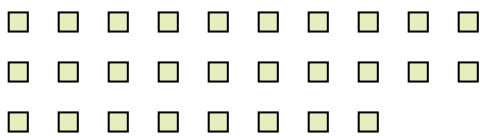
4) Quanti gruppi di 4 puoi fare con le 28 forme qui sotto?



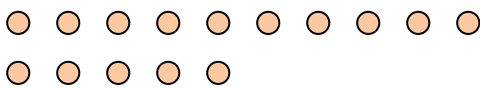
6) Quanti gruppi di 9 puoi fare con le 27 forme qui sotto?



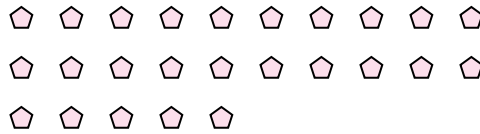
8) Quanti gruppi di 2 puoi fare con le 28 forme qui sotto?



10) Quanti gruppi di 5 puoi fare con le 15 forme qui sotto?




1) Quanti gruppi di 5 puoi fare con le 25 forme qui sotto?



3) Quanti gruppi di 2 puoi fare con le 14 forme qui sotto?



5) Quanti gruppi di 9 puoi fare con le 36 forme qui sotto?




7) Quanti gruppi di 6 puoi fare con le 30 forme qui sotto?



9) Quanti gruppi di 9 puoi fare con le 27 forme qui sotto?



11) Quanti gruppi di 4 puoi fare con le 36 forme qui sotto?



Risposte

Es. 3

1. 5

2. 4

3. 7

4. 7

5. 4

6. 3

7. 5

8. 14

9. 3

10. 3

11. 9