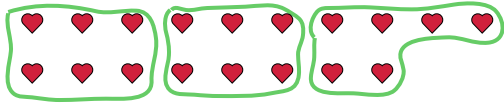


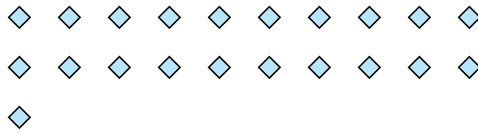


Usa le forme per risopndere alle domande.

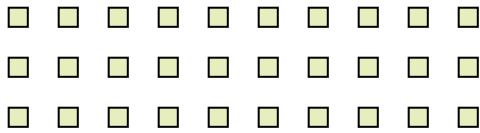
Es) Quanti gruppi di 6 puoi fare con le 18 forme qui sotto?



1) Quanti gruppi di 7 puoi fare con le 21 forme qui sotto?



2) Quanti gruppi di 6 puoi fare con le 30 forme qui sotto?



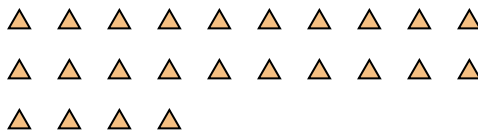
3) Quanti gruppi di 4 puoi fare con le 28 forme qui sotto?



4) Quanti gruppi di 9 puoi fare con le 27 forme qui sotto?



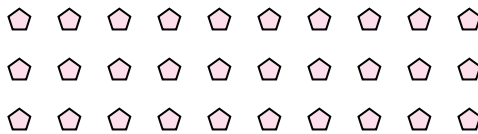
5) Quanti gruppi di 6 puoi fare con le 24 forme qui sotto?



6) Quanti gruppi di 3 puoi fare con le 30 forme qui sotto?



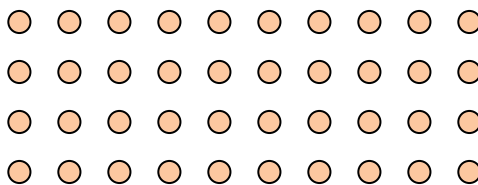
7) Quanti gruppi di 5 puoi fare con le 30 forme qui sotto?



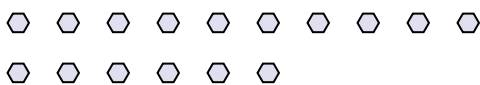
8) Quanti gruppi di 7 puoi fare con le 14 forme qui sotto?




9) Quanti gruppi di 5 puoi fare con le 40 forme qui sotto?



10) Quanti gruppi di 2 puoi fare con le 16 forme qui sotto?



11) Quanti gruppi di 5 puoi fare con le 30 forme qui sotto?



Risposte

Es. 3

1. 3

2. 5

3. 7

4. 3

5. 4

6. 10

7. 6

8. 2

9. 8

10. 8

11. 6