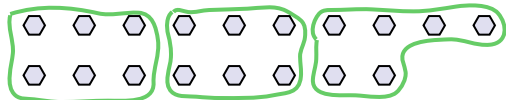





Usa le forme per risopndere alle domande.


Es) Quanti gruppi di 6 puoi fare con le 18 forme qui sotto?




2) Quanti gruppi di 3 puoi fare con le 33 forme qui sotto?




4) Quanti gruppi di 7 puoi fare con le 14 forme qui sotto?



6) Quanti gruppi di 4 puoi fare con le 40 forme qui sotto?



8) Quanti gruppi di 7 puoi fare con le 28 forme qui sotto?




10) Quanti gruppi di 4 puoi fare con le 12 forme qui sotto?



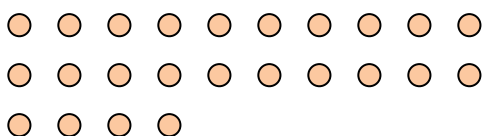
1) Quanti gruppi di 3 puoi fare con le 27 forme qui sotto?




3) Quanti gruppi di 7 puoi fare con le 21 forme qui sotto?



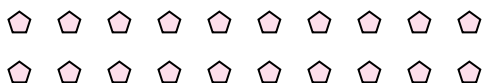
5) Quanti gruppi di 8 puoi fare con le 24 forme qui sotto?



7) Quanti gruppi di 8 puoi fare con le 32 forme qui sotto?



9) Quanti gruppi di 5 puoi fare con le 20 forme qui sotto?



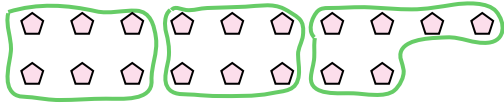
11) Quanti gruppi di 7 puoi fare con le 21 forme qui sotto?

**Risposte**Es. 31. 92. 113. 34. 25. 36. 107. 48. 49. 410. 311. 3

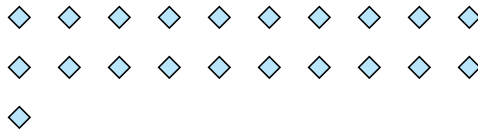


Usa le forme per risopndere alle domande.

Es) Quanti gruppi di 6 puoi fare con le 18 forme qui sotto?



1) Quanti gruppi di 7 puoi fare con le 21 forme qui sotto?



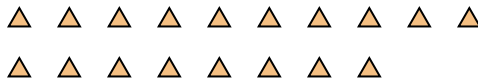
Risposte

Es. 3

2) Quanti gruppi di 3 puoi fare con le 6 forme qui sotto?



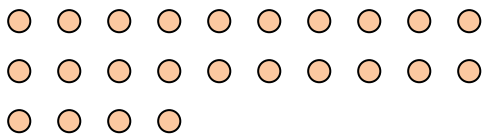
3) Quanti gruppi di 6 puoi fare con le 18 forme qui sotto?



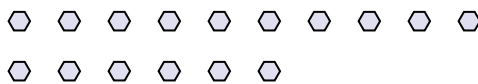
1. _____

2. _____

4) Quanti gruppi di 8 puoi fare con le 24 forme qui sotto?



5) Quanti gruppi di 8 puoi fare con le 16 forme qui sotto?




3. _____


4. _____

5. _____

6) Quanti gruppi di 4 puoi fare con le 16 forme qui sotto?



7) Quanti gruppi di 7 puoi fare con le 35 forme qui sotto?



6. _____

7. _____

8. _____

9. _____

10. _____

11. _____

8) Quanti gruppi di 3 puoi fare con le 15 forme qui sotto?



9) Quanti gruppi di 2 puoi fare con le 18 forme qui sotto?



10) Quanti gruppi di 4 puoi fare con le 8 forme qui sotto?



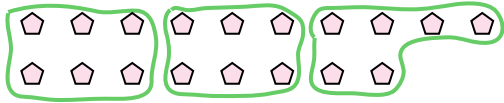
11) Quanti gruppi di 7 puoi fare con le 14 forme qui sotto?





Usa le forme per risopndere alle domande.

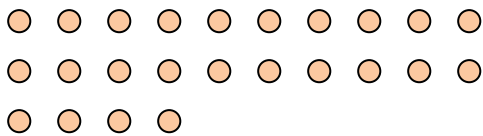
Es) Quanti gruppi di 6 puoi fare con le 18 forme qui sotto?




2) Quanti gruppi di 3 puoi fare con le 6 forme qui sotto?



4) Quanti gruppi di 8 puoi fare con le 24 forme qui sotto?



6) Quanti gruppi di 4 puoi fare con le 16 forme qui sotto?



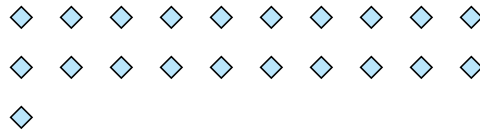
8) Quanti gruppi di 3 puoi fare con le 15 forme qui sotto?



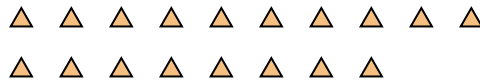
10) Quanti gruppi di 4 puoi fare con le 8 forme qui sotto?



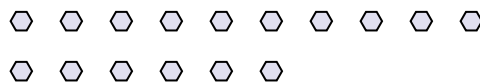
1) Quanti gruppi di 7 puoi fare con le 21 forme qui sotto?




3) Quanti gruppi di 6 puoi fare con le 18 forme qui sotto?



5) Quanti gruppi di 8 puoi fare con le 16 forme qui sotto?



7) Quanti gruppi di 7 puoi fare con le 35 forme qui sotto?



9) Quanti gruppi di 2 puoi fare con le 18 forme qui sotto?



11) Quanti gruppi di 7 puoi fare con le 14 forme qui sotto?



Risposte

Es. 3

1. 3

2. 2

3. 3

4. 3

5. 2

6. 4

7. 5

8. 5

9. 9

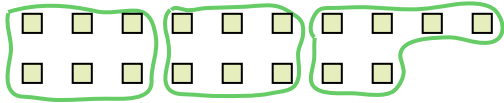
10. 2

11. 2




Usa le forme per risopndere alle domande.

Es) Quanti gruppi di 6 puoi fare con le 18 forme qui sotto?




1) Quanti gruppi di 3 puoi fare con le 30 forme qui sotto?




Risposte

Es. 3

2) Quanti gruppi di 4 puoi fare con le 28 forme qui sotto?



3) Quanti gruppi di 2 puoi fare con le 40 forme qui sotto?



1. _____

2. _____

3. _____

4. _____

5. _____

6. _____

7. _____

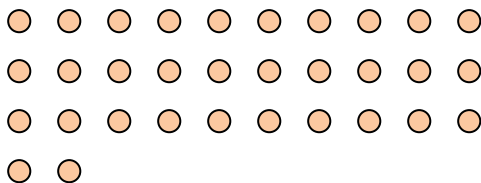
8. _____

9. _____

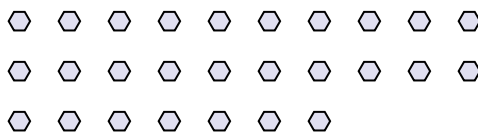
10. _____

11. _____

4) Quanti gruppi di 4 puoi fare con le 32 forme qui sotto?




5) Quanti gruppi di 9 puoi fare con le 27 forme qui sotto?




6) Quanti gruppi di 6 puoi fare con le 36 forme qui sotto?



7) Quanti gruppi di 3 puoi fare con le 36 forme qui sotto?



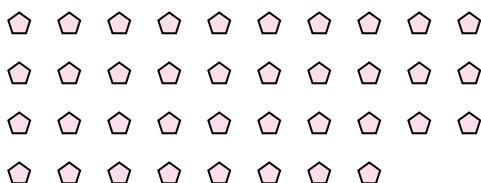
8) Quanti gruppi di 6 puoi fare con le 36 forme qui sotto?



9) Quanti gruppi di 4 puoi fare con le 36 forme qui sotto?



10) Quanti gruppi di 2 puoi fare con le 38 forme qui sotto?



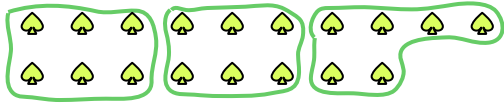
11) Quanti gruppi di 7 puoi fare con le 14 forme qui sotto?





Usa le forme per risopndere alle domande.

Es) Quanti gruppi di 6 puoi fare con le 18 forme qui sotto?



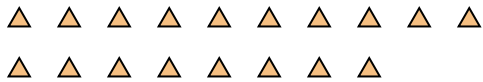
1) Quanti gruppi di 3 puoi fare con le 9 forme qui sotto?



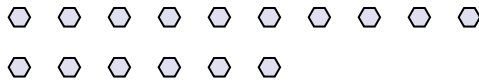
Risposte

Es. 3

2) Quanti gruppi di 6 puoi fare con le 18 forme qui sotto?



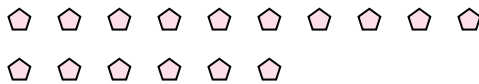
3) Quanti gruppi di 8 puoi fare con le 16 forme qui sotto?



4) Quanti gruppi di 4 puoi fare con le 8 forme qui sotto?



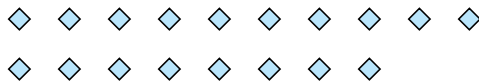
5) Quanti gruppi di 8 puoi fare con le 16 forme qui sotto?




6) Quanti gruppi di 2 puoi fare con le 24 forme qui sotto?




7) Quanti gruppi di 2 puoi fare con le 18 forme qui sotto?



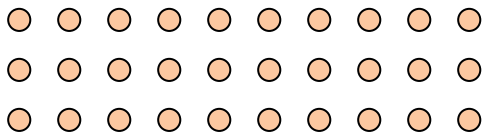
8) Quanti gruppi di 9 puoi fare con le 27 forme qui sotto?



9) Quanti gruppi di 9 puoi fare con le 36 forme qui sotto?



10) Quanti gruppi di 6 puoi fare con le 30 forme qui sotto?



11) Quanti gruppi di 3 puoi fare con le 39 forme qui sotto?



1. _____

2. _____

3. _____

4. _____

5. _____

6. _____

7. _____

8. _____

9. _____

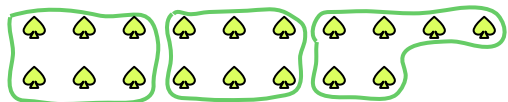
10. _____

11. _____



Usa le forme per risopndere alle domande.

Es) Quanti gruppi di 6 puoi fare con le 18 forme qui sotto?



2) Quanti gruppi di 6 puoi fare con le 18 forme qui sotto?




4) Quanti gruppi di 4 puoi fare con le 8 forme qui sotto?



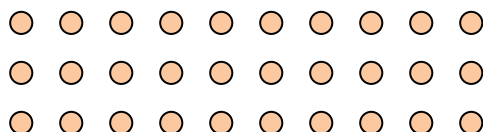
6) Quanti gruppi di 2 puoi fare con le 24 forme qui sotto?



8) Quanti gruppi di 9 puoi fare con le 27 forme qui sotto?



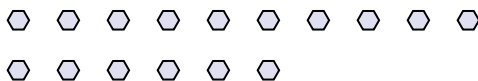
10) Quanti gruppi di 6 puoi fare con le 30 forme qui sotto?



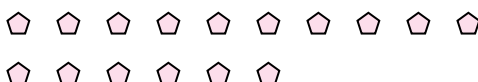
1) Quanti gruppi di 3 puoi fare con le 9 forme qui sotto?



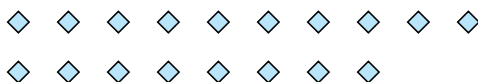
3) Quanti gruppi di 8 puoi fare con le 16 forme qui sotto?




5) Quanti gruppi di 8 puoi fare con le 16 forme qui sotto?



7) Quanti gruppi di 2 puoi fare con le 18 forme qui sotto?



9) Quanti gruppi di 9 puoi fare con le 36 forme qui sotto?



11) Quanti gruppi di 3 puoi fare con le 39 forme qui sotto?



Risposte

Es. 3

1. 3

2. 3

3. 2

4. 2

5. 2

6. 12

7. 9

8. 3

9. 4

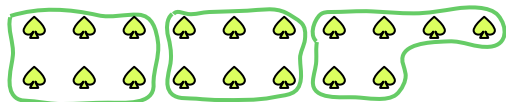
10. 5

11. 13



Usa le forme per risopndere alle domande.


Es) Quanti gruppi di 6 puoi fare con le 18 forme qui sotto?



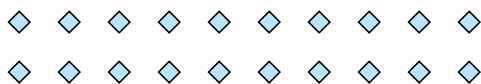
2) Quanti gruppi di 7 puoi fare con le 21 forme qui sotto?




4) Quanti gruppi di 3 puoi fare con le 24 forme qui sotto?



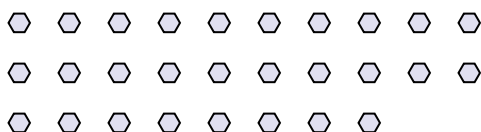
6) Quanti gruppi di 5 puoi fare con le 20 forme qui sotto?



8) Quanti gruppi di 9 puoi fare con le 36 forme qui sotto?



10) Quanti gruppi di 2 puoi fare con le 28 forme qui sotto?



1) Quanti gruppi di 5 puoi fare con le 40 forme qui sotto?



3) Quanti gruppi di 6 puoi fare con le 12 forme qui sotto?



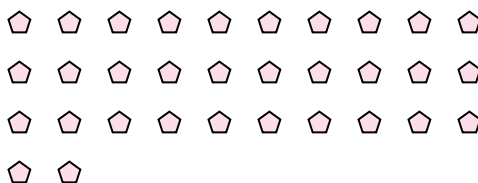
5) Quanti gruppi di 2 puoi fare con le 4 forme qui sotto?



7) Quanti gruppi di 9 puoi fare con le 18 forme qui sotto?



9) Quanti gruppi di 2 puoi fare con le 32 forme qui sotto?



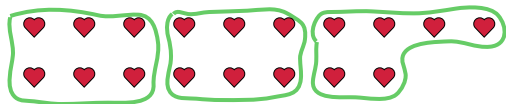
11) Quanti gruppi di 8 puoi fare con le 24 forme qui sotto?

**Risposte**Es. 31. 82. 33. 24. 85. 26. 47. 28. 49. 1610. 1411. 3

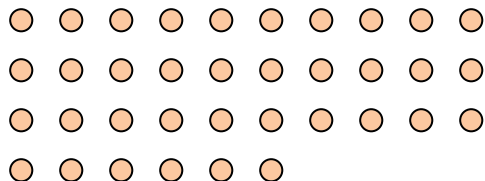


Usa le forme per rispondere alle domande.

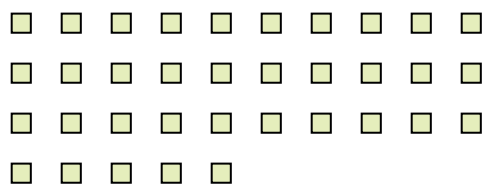
Es) Quanti gruppi di 6 puoi fare con le 18 forme qui sotto?



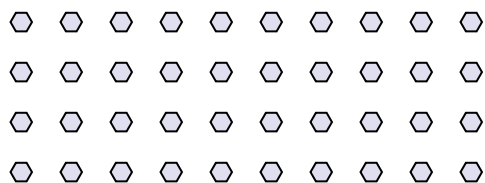
2) Quanti gruppi di 9 puoi fare con le 36 forme qui sotto?



4) Quanti gruppi di 7 puoi fare con le 35 forme qui sotto?



6) Quanti gruppi di 8 puoi fare con le 40 forme qui sotto?



8) Quanti gruppi di 4 puoi fare con le 40 forme qui sotto?




10) Quanti gruppi di 5 puoi fare con le 10 forme qui sotto?



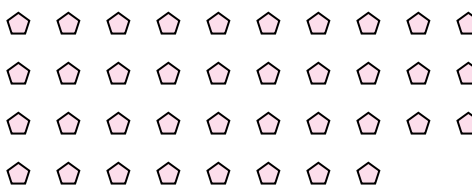
1) Quanti gruppi di 2 puoi fare con le 26 forme qui sotto?




3) Quanti gruppi di 3 puoi fare con le 24 forme qui sotto?



5) Quanti gruppi di 2 puoi fare con le 38 forme qui sotto?




7) Quanti gruppi di 9 puoi fare con le 36 forme qui sotto?



9) Quanti gruppi di 7 puoi fare con le 35 forme qui sotto?



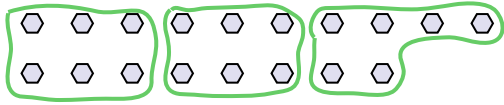
11) Quanti gruppi di 9 puoi fare con le 27 forme qui sotto?

**Risposte**Es. 31. 132. 43. 84. 55. 196. 57. 48. 109. 510. 211. 3

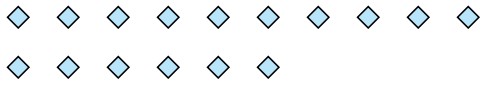


Usa le forme per risopndere alle domande.


Es) Quanti gruppi di 6 puoi fare con le 18 forme qui sotto?



2) Quanti gruppi di 4 puoi fare con le 16 forme qui sotto?



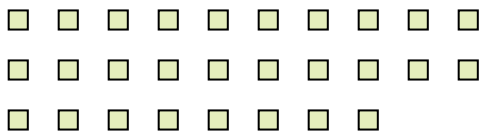
4) Quanti gruppi di 4 puoi fare con le 28 forme qui sotto?



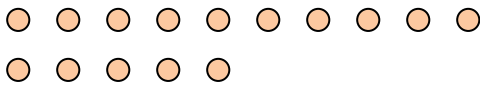
6) Quanti gruppi di 9 puoi fare con le 27 forme qui sotto?



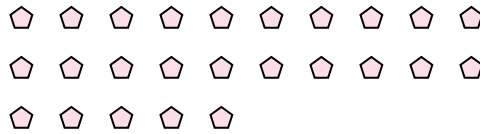
8) Quanti gruppi di 2 puoi fare con le 28 forme qui sotto?



10) Quanti gruppi di 5 puoi fare con le 15 forme qui sotto?




1) Quanti gruppi di 5 puoi fare con le 25 forme qui sotto?



3) Quanti gruppi di 2 puoi fare con le 14 forme qui sotto?




5) Quanti gruppi di 9 puoi fare con le 36 forme qui sotto?




7) Quanti gruppi di 6 puoi fare con le 30 forme qui sotto?



9) Quanti gruppi di 9 puoi fare con le 27 forme qui sotto?



11) Quanti gruppi di 4 puoi fare con le 36 forme qui sotto?



Risposte

Es. 3

1. 5

2. 4

3. 7

4. 7

5. 4

6. 3

7. 5

8. 14

9. 3


10. 3

11. 9




Usa le forme per risopndere alle domande.

Es) Quanti gruppi di 6 puoi fare con le 18 forme qui sotto?




2) Quanti gruppi di 6 puoi fare con le 30 forme qui sotto?



4) Quanti gruppi di 9 puoi fare con le 27 forme qui sotto?



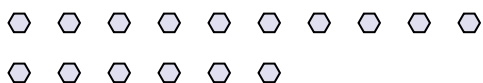
6) Quanti gruppi di 3 puoi fare con le 30 forme qui sotto?



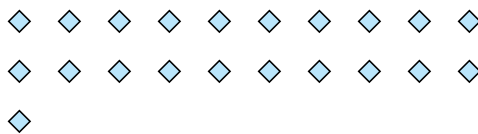
8) Quanti gruppi di 7 puoi fare con le 14 forme qui sotto?




10) Quanti gruppi di 2 puoi fare con le 16 forme qui sotto?



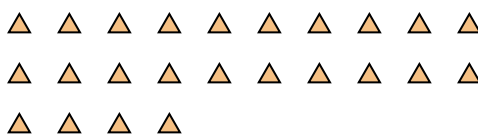
1) Quanti gruppi di 7 puoi fare con le 21 forme qui sotto?



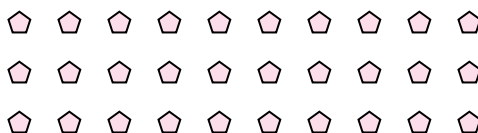
3) Quanti gruppi di 4 puoi fare con le 28 forme qui sotto?



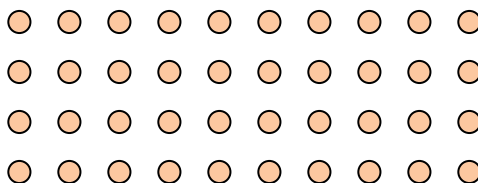
5) Quanti gruppi di 6 puoi fare con le 24 forme qui sotto?




7) Quanti gruppi di 5 puoi fare con le 30 forme qui sotto?



9) Quanti gruppi di 5 puoi fare con le 40 forme qui sotto?



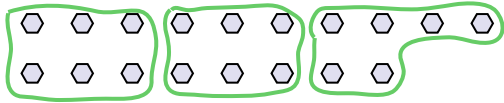
11) Quanti gruppi di 5 puoi fare con le 30 forme qui sotto?

**Risposte**Es. 31. 32. 53. 74. 35. 46. 107. 68. 29. 810. 811. 6



Usa le forme per risopndere alle domande.

Es) Quanti gruppi di 6 puoi fare con le 18 forme qui sotto?



1) Quanti gruppi di 6 puoi fare con le 12 forme qui sotto?



Risposte

Es. 3

1. _____

2. _____

3. _____

4. _____

5. _____

6. _____

7. _____

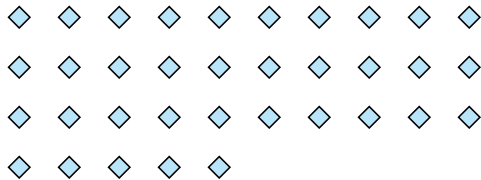
8. _____

9. _____

10. _____

11. _____


2) Quanti gruppi di 7 puoi fare con le 35 forme qui sotto?



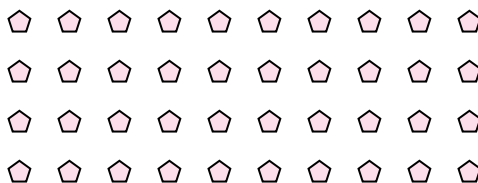
3) Quanti gruppi di 4 puoi fare con le 8 forme qui sotto?




4) Quanti gruppi di 8 puoi fare con le 24 forme qui sotto?



5) Quanti gruppi di 4 puoi fare con le 40 forme qui sotto?




6) Quanti gruppi di 6 puoi fare con le 36 forme qui sotto?



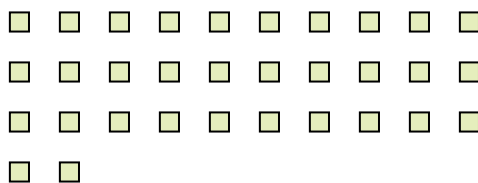
7) Quanti gruppi di 5 puoi fare con le 10 forme qui sotto?



8) Quanti gruppi di 9 puoi fare con le 27 forme qui sotto?



9) Quanti gruppi di 8 puoi fare con le 32 forme qui sotto?



10) Quanti gruppi di 6 puoi fare con le 18 forme qui sotto?



11) Quanti gruppi di 2 puoi fare con le 26 forme qui sotto?

