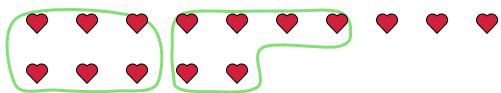


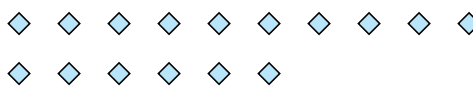


Segui l'esempio per rispondere alle domande.

Es) Ci sono 15 figure qui sotto. Quanti gruppi di 6 puoi creare con esse? Quanti ne restano fuori?



1) Ci sono 16 figure qui sotto. Quanti gruppi di 7 puoi creare con esse? Quanti ne restano fuori?



Risposte

Es. 2 3

1. _____

2. _____

3. _____

4. _____

5. _____

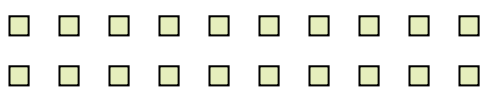
6. _____

7. _____

8. _____

9. _____

2) Ci sono 20 figure qui sotto. Quanti gruppi di 6 puoi creare con esse? Quanti ne restano fuori?



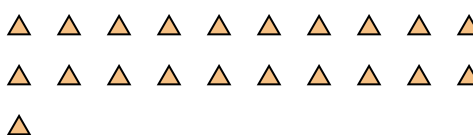
3) Ci sono 21 figure qui sotto. Quanti gruppi di 4 puoi creare con esse? Quanti ne restano fuori?



4) Ci sono 11 figure qui sotto. Quanti gruppi di 9 puoi creare con esse? Quanti ne restano fuori?



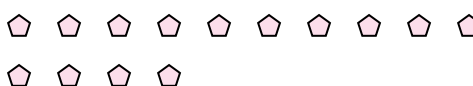
5) Ci sono 21 figure qui sotto. Quanti gruppi di 6 puoi creare con esse? Quanti ne restano fuori?



6) Ci sono 12 figure qui sotto. Quanti gruppi di 3 puoi creare con esse? Quanti ne restano fuori?



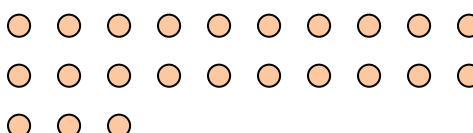
7) Ci sono 14 figure qui sotto. Quanti gruppi di 5 puoi creare con esse? Quanti ne restano fuori?



8) Ci sono 12 figure qui sotto. Quanti gruppi di 7 puoi creare con esse? Quanti ne restano fuori?



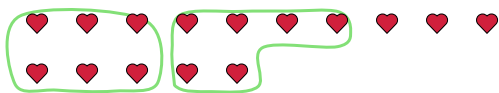
9) Ci sono 23 figure qui sotto. Quanti gruppi di 5 puoi creare con esse? Quanti ne restano fuori?



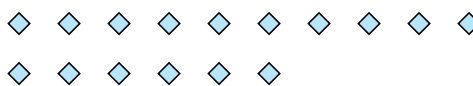


Segui l'esempio per rispondere alle domande.

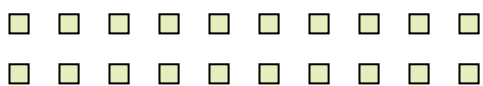
Es) Ci sono 15 figure qui sotto. Quanti gruppi di 6 puoi creare con esse? Quanti ne restano fuori?



1) Ci sono 16 figure qui sotto. Quanti gruppi di 7 puoi creare con esse? Quanti ne restano fuori?



2) Ci sono 20 figure qui sotto. Quanti gruppi di 6 puoi creare con esse? Quanti ne restano fuori?



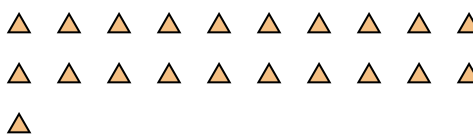
3) Ci sono 21 figure qui sotto. Quanti gruppi di 4 puoi creare con esse? Quanti ne restano fuori?



4) Ci sono 11 figure qui sotto. Quanti gruppi di 9 puoi creare con esse? Quanti ne restano fuori?



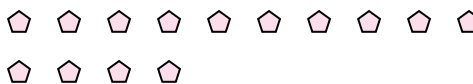
5) Ci sono 21 figure qui sotto. Quanti gruppi di 6 puoi creare con esse? Quanti ne restano fuori?



6) Ci sono 12 figure qui sotto. Quanti gruppi di 3 puoi creare con esse? Quanti ne restano fuori?



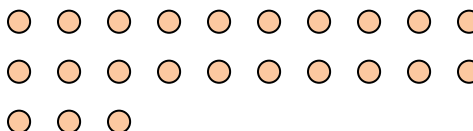
7) Ci sono 14 figure qui sotto. Quanti gruppi di 5 puoi creare con esse? Quanti ne restano fuori?



8) Ci sono 12 figure qui sotto. Quanti gruppi di 7 puoi creare con esse? Quanti ne restano fuori?



9) Ci sono 23 figure qui sotto. Quanti gruppi di 5 puoi creare con esse? Quanti ne restano fuori?



Risposte

Es.	2	3
1.	2	2
2.	3	2
3.	5	1
4.	1	2
5.	3	3
6.	4	0
7.	2	4
8.	1	5
9.	4	3