



Usa le rappresentazioni grafiche per risolvere ogni problema.

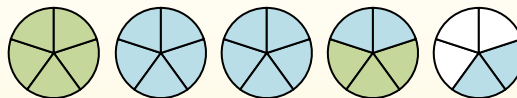
$$1\frac{3}{5} + 2\frac{4}{5} = ?$$



Para resolver un problema de suma de fracciones, una estrategia es sombrear primero las cantidades enteras (1 y 2).



A continuación, complete las cantidades de las fracciones ( $\frac{3}{5}$  &  $\frac{4}{5}$ ).



Cuando todas las piezas están llenas, podemos ver que  $1\frac{3}{5} + 2\frac{4}{5} = 4\frac{2}{5}$

**Risposte**

1. \_\_\_\_\_
2. \_\_\_\_\_
3. \_\_\_\_\_
4. \_\_\_\_\_
5. \_\_\_\_\_
6. \_\_\_\_\_
7. \_\_\_\_\_
8. \_\_\_\_\_
9. \_\_\_\_\_
10. \_\_\_\_\_

1)  $1\frac{9}{12} + 1\frac{5}{12} =$

2)  $3\frac{2}{5} + 1\frac{3}{5} =$

3)  $1\frac{5}{8} + 2\frac{1}{8} =$

4)  $1\frac{3}{12} + 3\frac{1}{12} =$

5)  $3\frac{2}{6} + 3\frac{2}{6} =$

6)  $1\frac{3}{8} + 2\frac{4}{8} =$

7)  $1\frac{3}{12} + 2\frac{7}{12} =$

8)  $3\frac{6}{12} + 1\frac{3}{12} =$

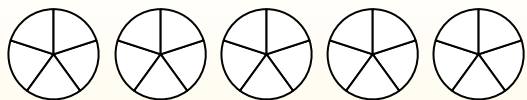
9)  $3\frac{5}{6} + 3\frac{3}{6} =$

10)  $3\frac{5}{8} + 2\frac{1}{8} =$



Usa le rappresentazioni grafiche per risolvere ogni problema.

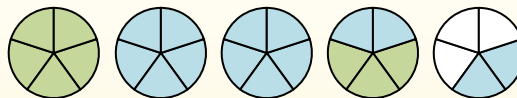
$$1\frac{3}{5} + 2\frac{4}{5} = ?$$



Para resolver un problema de suma de fracciones, una estrategia es sombrear primero las cantidades enteras (1 y 2).



A continuación, complete las cantidades de las fracciones ( $\frac{3}{5}$  &  $\frac{4}{5}$ ).



Cuando todas las piezas están llenas, podemos ver que  $1\frac{3}{5} + 2\frac{4}{5} = 4\frac{2}{5}$

1)  $1\frac{9}{12} + 1\frac{5}{12} =$

2)  $3\frac{2}{5} + 1\frac{3}{5} =$

3)  $1\frac{5}{8} + 2\frac{1}{8} =$

4)  $1\frac{3}{12} + 3\frac{1}{12} =$

5)  $3\frac{2}{6} + 3\frac{2}{6} =$

6)  $1\frac{3}{8} + 2\frac{4}{8} =$

7)  $1\frac{3}{12} + 2\frac{7}{12} =$

8)  $3\frac{6}{12} + 1\frac{3}{12} =$

9)  $3\frac{5}{6} + 3\frac{3}{6} =$

10)  $3\frac{5}{8} + 2\frac{1}{8} =$

**Risposte**

1.  $3\frac{2}{12}$

2.  $5\frac{0}{5}$

3.  $3\frac{6}{8}$

4.  $4\frac{4}{12}$

5.  $6\frac{4}{6}$

6.  $3\frac{7}{8}$

7.  $3\frac{10}{12}$

8.  $4\frac{9}{12}$

9.  $7\frac{2}{6}$

10.  $5\frac{6}{8}$