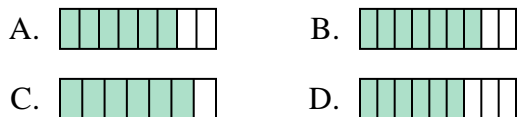




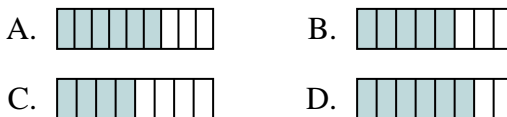
**Determina quale lettera risponde correttamente ad ogni domanda**

**Risposte**

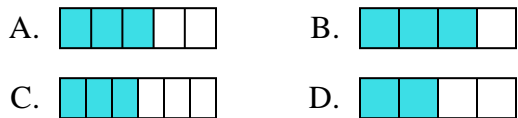
1) Quale delle seguenti figure è ombreggiata per rappresentare  $\frac{6}{8}$ ?



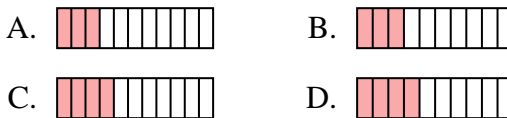
2) Quale delle seguenti figure è ombreggiata per rappresentare  $\frac{5}{8}$ ?



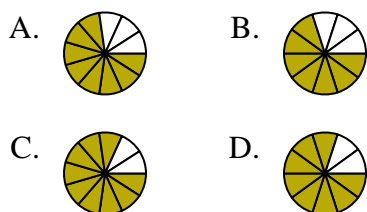
3) Quale delle seguenti figure è ombreggiata per rappresentare  $\frac{3}{5}$ ?



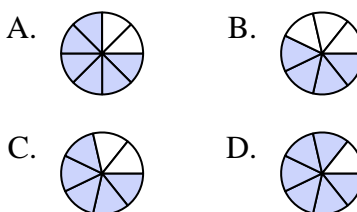
4) Quale delle seguenti figure è ombreggiata per rappresentare  $\frac{3}{10}$ ?



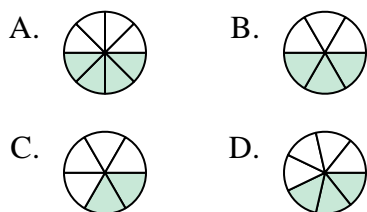
5) Quale delle seguenti figure è ombreggiata per rappresentare  $\frac{8}{10}$ ?



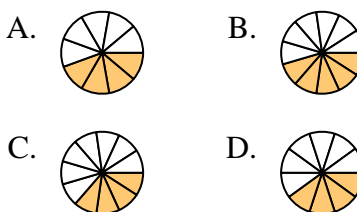
6) Quale delle seguenti figure è ombreggiata per rappresentare  $\frac{5}{7}$ ?



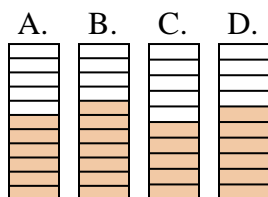
7) Quale delle seguenti figure è ombreggiata per rappresentare  $\frac{3}{7}$ ?



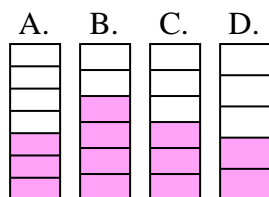
8) Quale delle seguenti figure è ombreggiata per rappresentare  $\frac{4}{10}$ ?



9) Quale delle seguenti figure è ombreggiata per rappresentare  $\frac{6}{10}$ ?



10) Quale delle seguenti figure è ombreggiata per rappresentare  $\frac{3}{6}$ ?



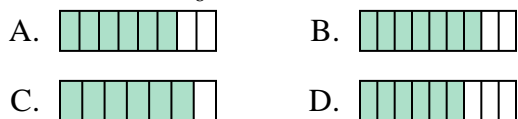
1. \_\_\_\_\_
2. \_\_\_\_\_
3. \_\_\_\_\_
4. \_\_\_\_\_
5. \_\_\_\_\_
6. \_\_\_\_\_
7. \_\_\_\_\_
8. \_\_\_\_\_
9. \_\_\_\_\_
10. \_\_\_\_\_



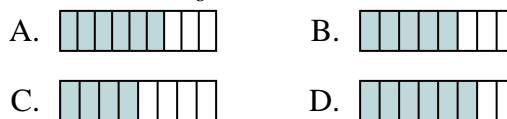
**Determina quale lettera risponde correttamente ad ogni domanda**

**Risposte**

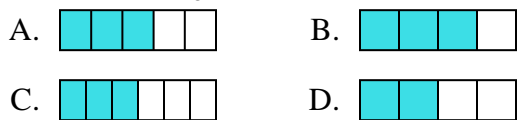
1) Quale delle seguenti figure è ombreggiata per rappresentare  $\frac{6}{8}$ ?



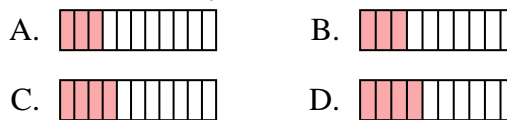
2) Quale delle seguenti figure è ombreggiata per rappresentare  $\frac{5}{8}$ ?



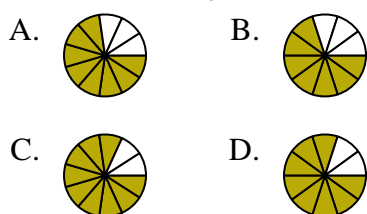
3) Quale delle seguenti figure è ombreggiata per rappresentare  $\frac{3}{5}$ ?



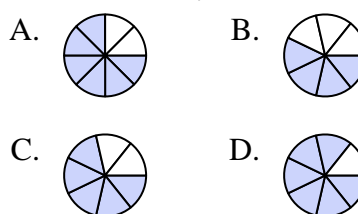
4) Quale delle seguenti figure è ombreggiata per rappresentare  $\frac{3}{10}$ ?



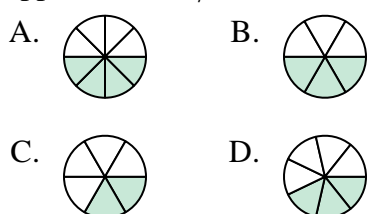
5) Quale delle seguenti figure è ombreggiata per rappresentare  $\frac{8}{10}$ ?



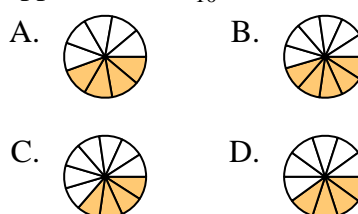
6) Quale delle seguenti figure è ombreggiata per rappresentare  $\frac{5}{7}$ ?



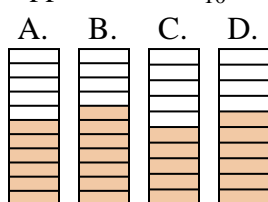
7) Quale delle seguenti figure è ombreggiata per rappresentare  $\frac{3}{7}$ ?



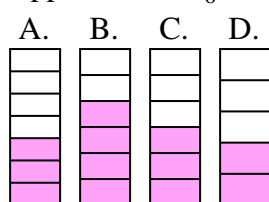
8) Quale delle seguenti figure è ombreggiata per rappresentare  $\frac{4}{10}$ ?



9) Quale delle seguenti figure è ombreggiata per rappresentare  $\frac{6}{10}$ ?



10) Quale delle seguenti figure è ombreggiata per rappresentare  $\frac{3}{6}$ ?



1.     **A**
2.     **B**
3.     **A**
4.     **B**
5.     **D**
6.     **C**
7.     **D**
8.     **D**
9.     **D**
10.     **C**