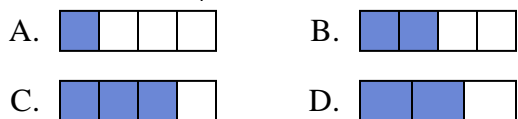




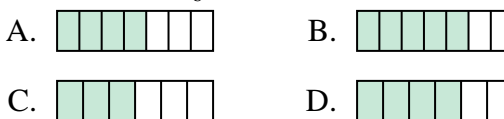
Determina quale lettera risponde correttamente ad ogni domanda

Risposte

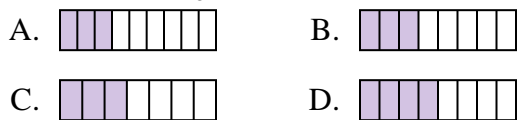
1) Quale delle seguenti figure è ombreggiata per rappresentare $\frac{2}{4}$?



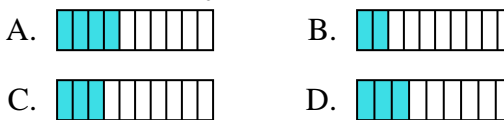
2) Quale delle seguenti figure è ombreggiata per rappresentare $\frac{4}{6}$?



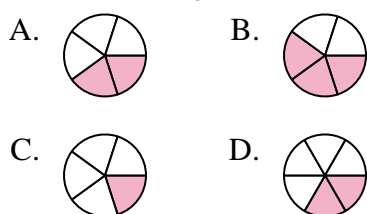
3) Quale delle seguenti figure è ombreggiata per rappresentare $\frac{3}{8}$?



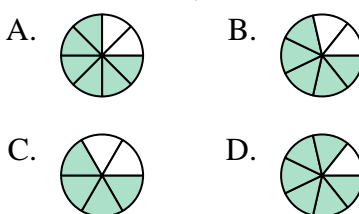
4) Quale delle seguenti figure è ombreggiata per rappresentare $\frac{3}{10}$?



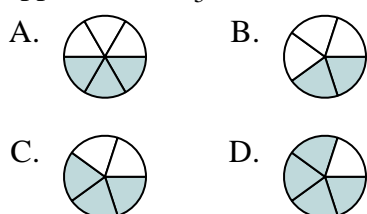
5) Quale delle seguenti figure è ombreggiata per rappresentare $\frac{2}{5}$?



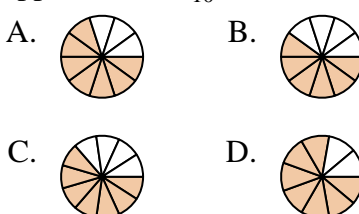
6) Quale delle seguenti figure è ombreggiata per rappresentare $\frac{5}{7}$?



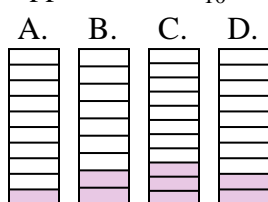
7) Quale delle seguenti figure è ombreggiata per rappresentare $\frac{3}{5}$?



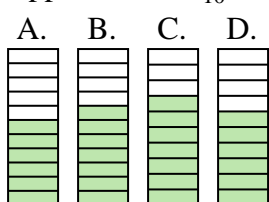
8) Quale delle seguenti figure è ombreggiata per rappresentare $\frac{7}{10}$?



9) Quale delle seguenti figure è ombreggiata per rappresentare $\frac{2}{10}$?



10) Quale delle seguenti figure è ombreggiata per rappresentare $\frac{6}{10}$?



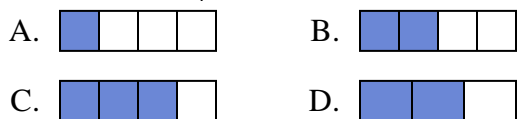
1. _____
2. _____
3. _____
4. _____
5. _____
6. _____
7. _____
8. _____
9. _____
10. _____



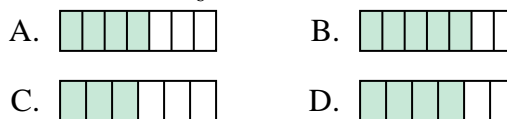
Determina quale lettera risponde correttamente ad ogni domanda

Risposte

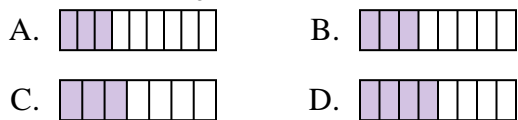
1) Quale delle seguenti figure è ombreggiata per rappresentare $\frac{2}{4}$?



2) Quale delle seguenti figure è ombreggiata per rappresentare $\frac{4}{6}$?



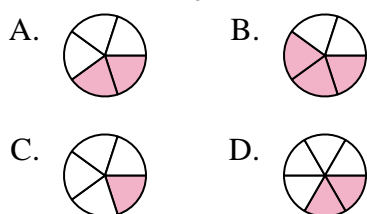
3) Quale delle seguenti figure è ombreggiata per rappresentare $\frac{3}{8}$?



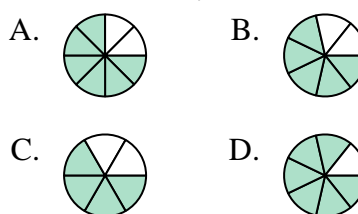
4) Quale delle seguenti figure è ombreggiata per rappresentare $\frac{3}{10}$?



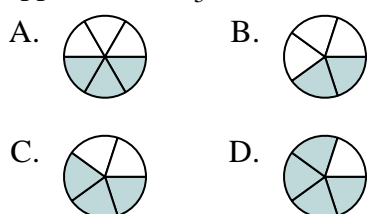
5) Quale delle seguenti figure è ombreggiata per rappresentare $\frac{2}{5}$?



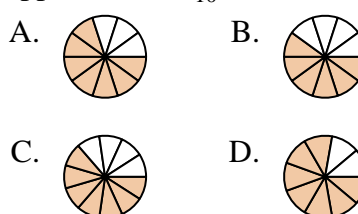
6) Quale delle seguenti figure è ombreggiata per rappresentare $\frac{5}{7}$?



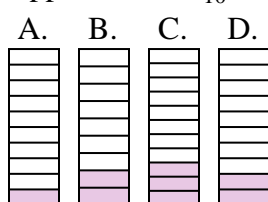
7) Quale delle seguenti figure è ombreggiata per rappresentare $\frac{3}{5}$?



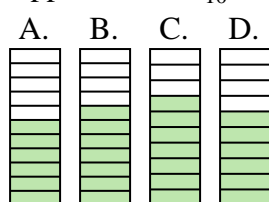
8) Quale delle seguenti figure è ombreggiata per rappresentare $\frac{7}{10}$?



9) Quale delle seguenti figure è ombreggiata per rappresentare $\frac{2}{10}$?



10) Quale delle seguenti figure è ombreggiata per rappresentare $\frac{6}{10}$?



1. **B**
2. **D**
3. **B**
4. **C**
5. **A**
6. **B**
7. **C**
8. **A**
9. **D**
10. **D**