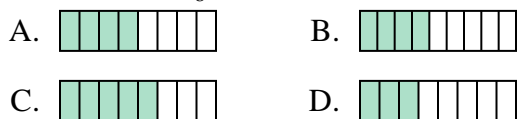




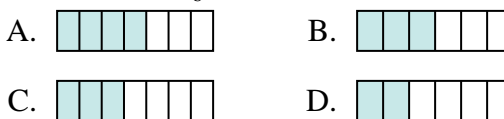
Determina quale lettera risponde correttamente ad ogni domanda

Risposte

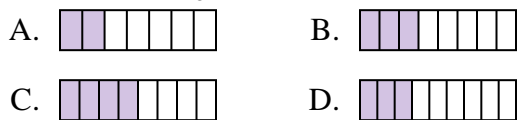
1) Quale delle seguenti figure è ombreggiata per rappresentare $\frac{4}{8}$?



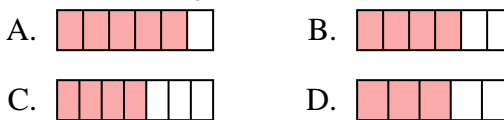
2) Quale delle seguenti figure è ombreggiata per rappresentare $\frac{3}{6}$?



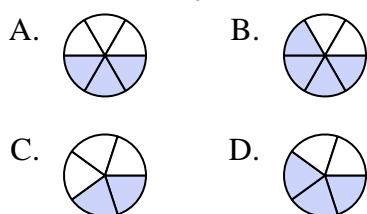
3) Quale delle seguenti figure è ombreggiata per rappresentare $\frac{3}{8}$?



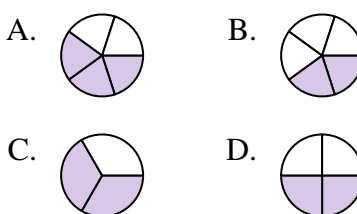
4) Quale delle seguenti figure è ombreggiata per rappresentare $\frac{4}{6}$?



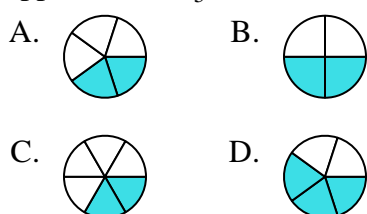
5) Quale delle seguenti figure è ombreggiata per rappresentare $\frac{3}{5}$?



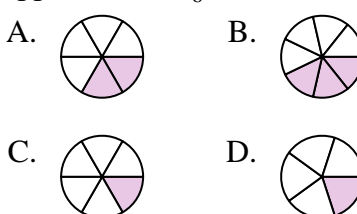
6) Quale delle seguenti figure è ombreggiata per rappresentare $\frac{2}{4}$?



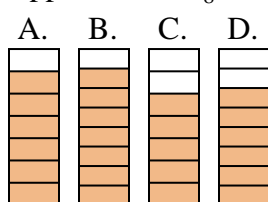
7) Quale delle seguenti figure è ombreggiata per rappresentare $\frac{2}{5}$?



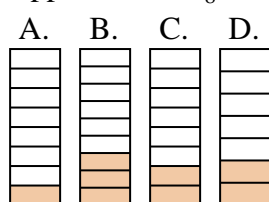
8) Quale delle seguenti figure è ombreggiata per rappresentare $\frac{2}{6}$?



9) Quale delle seguenti figure è ombreggiata per rappresentare $\frac{6}{8}$?



10) Quale delle seguenti figure è ombreggiata per rappresentare $\frac{2}{8}$?



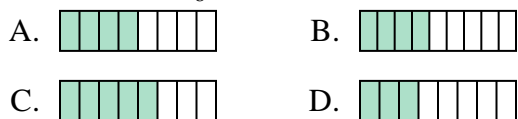
1. _____
2. _____
3. _____
4. _____
5. _____
6. _____
7. _____
8. _____
9. _____
10. _____



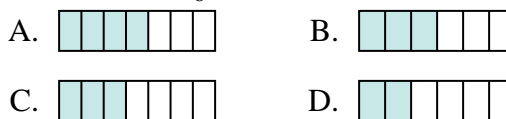
Determina quale lettera risponde correttamente ad ogni domanda

Risposte

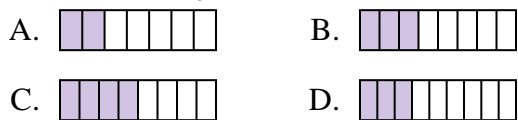
1) Quale delle seguenti figure è ombreggiata per rappresentare $\frac{4}{8}$?



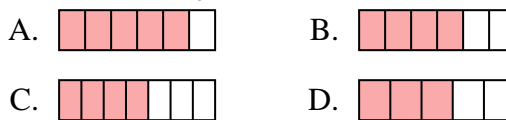
2) Quale delle seguenti figure è ombreggiata per rappresentare $\frac{3}{6}$?



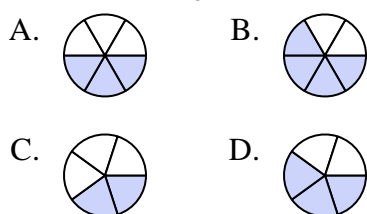
3) Quale delle seguenti figure è ombreggiata per rappresentare $\frac{3}{8}$?



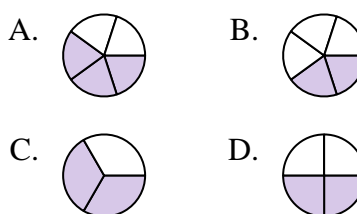
4) Quale delle seguenti figure è ombreggiata per rappresentare $\frac{4}{6}$?



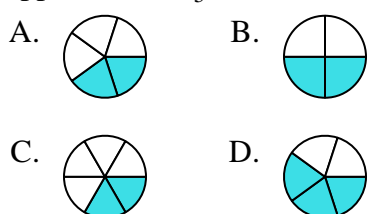
5) Quale delle seguenti figure è ombreggiata per rappresentare $\frac{3}{5}$?



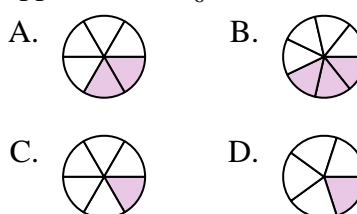
6) Quale delle seguenti figure è ombreggiata per rappresentare $\frac{2}{4}$?



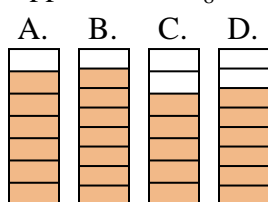
7) Quale delle seguenti figure è ombreggiata per rappresentare $\frac{2}{5}$?



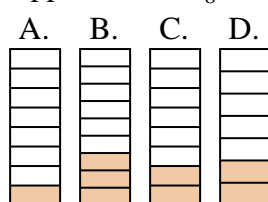
8) Quale delle seguenti figure è ombreggiata per rappresentare $\frac{2}{6}$?



9) Quale delle seguenti figure è ombreggiata per rappresentare $\frac{6}{8}$?



10) Quale delle seguenti figure è ombreggiata per rappresentare $\frac{2}{8}$?



1. **A**
2. **B**
3. **B**
4. **B**
5. **D**
6. **D**
7. **A**
8. **A**
9. **D**
10. **C**