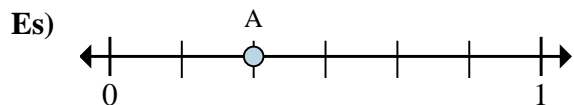
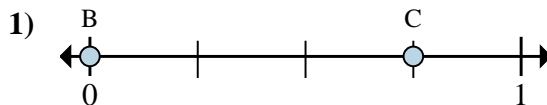




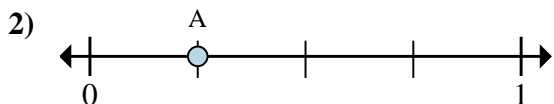
Risolvi ogni problema.



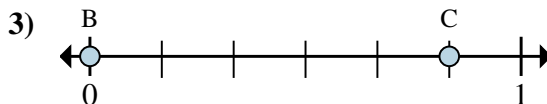
- In quante parti è divisa questa retta dei numeri reali?
- Dove si trova A (scritto come frazione)?



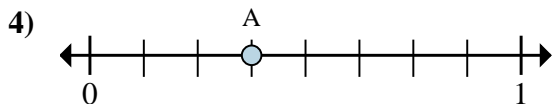
- Su questa retta dei numeri reali, qual è il valore di 1 scritto come frazione?
- Su questa retta dei numeri reali, quanto è lontano B da C (espresso come frazione)?



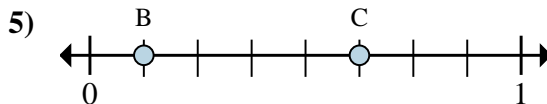
- In quante parti è divisa questa retta dei numeri reali?
- Dove si trova A (scritto come frazione)?



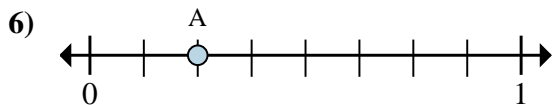
- Su questa retta dei numeri reali, qual è il valore di 1 scritto come frazione?
- Su questa retta dei numeri reali, quanto è lontano B da C (espresso come frazione)?



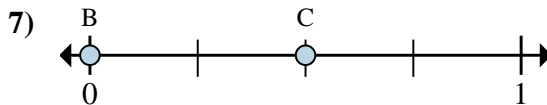
- In quante parti è divisa questa retta dei numeri reali?
- Dove si trova A (scritto come frazione)?



- Su questa retta dei numeri reali, qual è il valore di 0 scritto come frazione?
- Su questa retta dei numeri reali, quanto è lontano B da C (espresso come frazione)?



- In quante parti è divisa questa retta dei numeri reali?
- Dove si trova A (scritto come frazione)?



- Su questa retta dei numeri reali, qual è il valore di 1 scritto come frazione?
- Su questa retta dei numeri reali, quanto è lontano B da C (espresso come frazione)?

**Risposte**

Es. 6     2/6

1. \_\_\_\_\_

2. \_\_\_\_\_

3. \_\_\_\_\_

4. \_\_\_\_\_

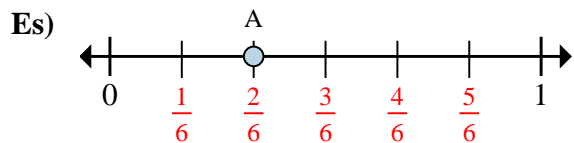
5. \_\_\_\_\_

6. \_\_\_\_\_

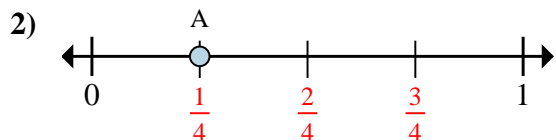
7. \_\_\_\_\_



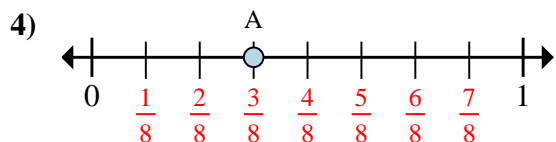
Risolvi ogni problema.



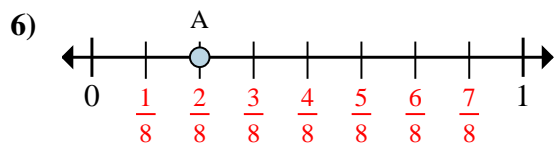
- In quante parti è divisa questa retta dei numeri reali?
- Dove si trova A (scritto come frazione)?



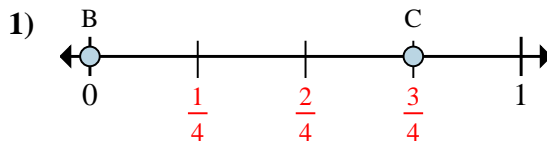
- In quante parti è divisa questa retta dei numeri reali?
- Dove si trova A (scritto come frazione)?



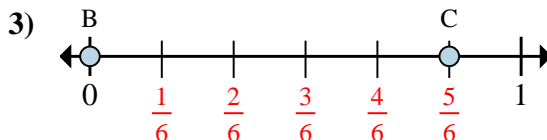
- In quante parti è divisa questa retta dei numeri reali?
- Dove si trova A (scritto come frazione)?



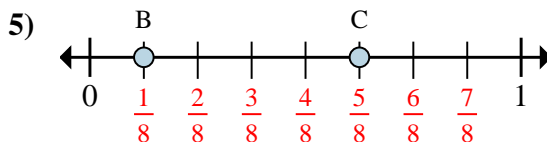
- In quante parti è divisa questa retta dei numeri reali?
- Dove si trova A (scritto come frazione)?



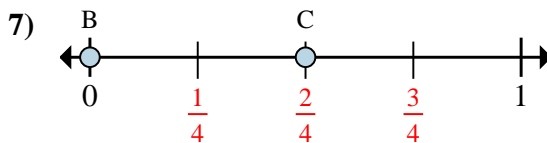
- Su questa retta dei numeri reali, qual è il valore di 1 scritto come frazione?
- Su questa retta dei numeri reali, quanto è lontano B da C (espresso come frazione)?



- Su questa retta dei numeri reali, qual è il valore di 1 scritto come frazione?
- Su questa retta dei numeri reali, quanto è lontano B da C (espresso come frazione)?



- Su questa retta dei numeri reali, qual è il valore di 0 scritto come frazione?
- Su questa retta dei numeri reali, quanto è lontano B da C (espresso come frazione)?



- Su questa retta dei numeri reali, qual è il valore di 1 scritto come frazione?
- Su questa retta dei numeri reali, quanto è lontano B da C (espresso come frazione)?

**Risposte**

Es.	<b>6</b>	$\frac{2}{6}$
1.	$\frac{4}{4}$	$\frac{3}{4}$
2.	<b>4</b>	$\frac{1}{4}$
3.	$\frac{6}{6}$	$\frac{5}{6}$
4.	<b>8</b>	$\frac{3}{8}$
5.	$\frac{0}{8}$	$\frac{4}{8}$
6.	<b>8</b>	$\frac{2}{8}$
7.	$\frac{4}{4}$	$\frac{2}{4}$