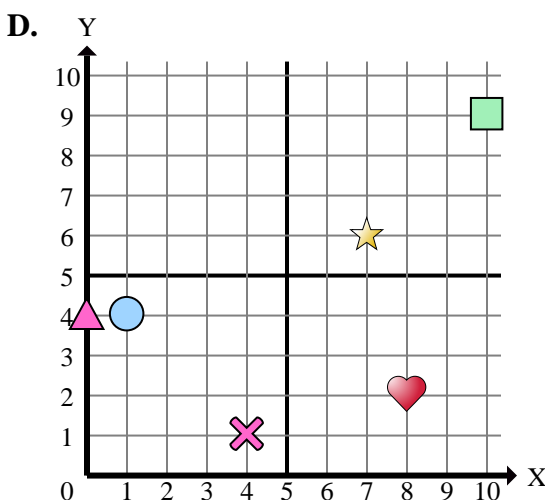
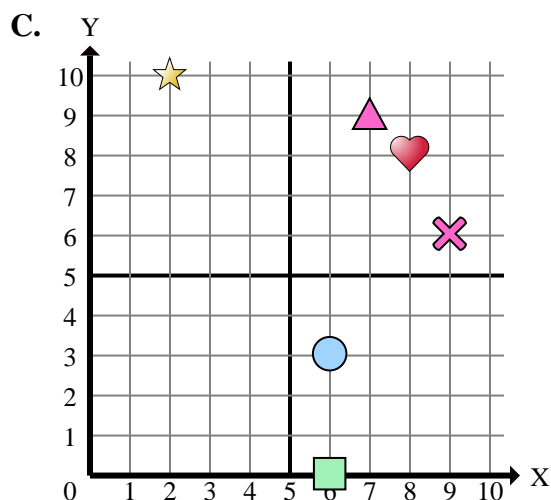
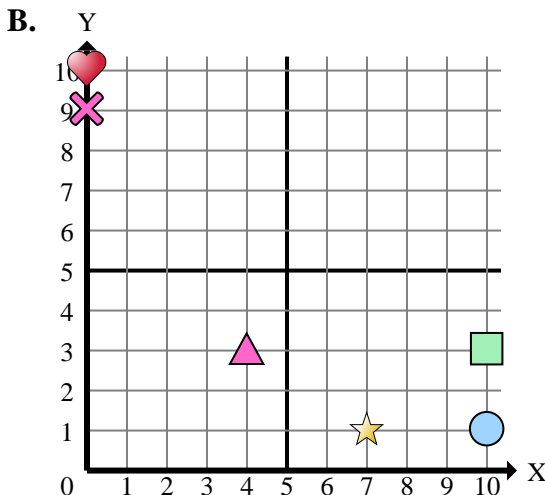
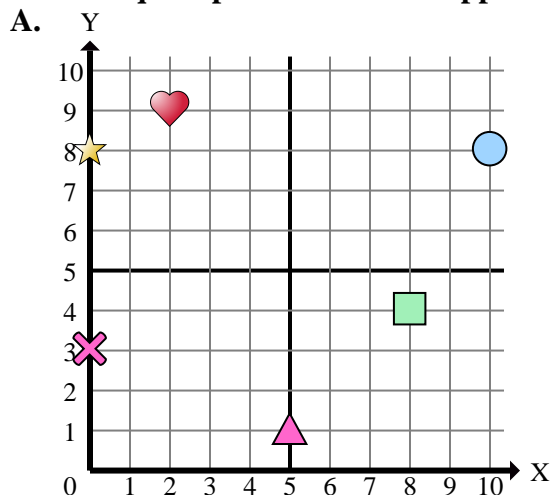




Indica a quale piano cartesiano appartengono le forme elencate nelle domande.



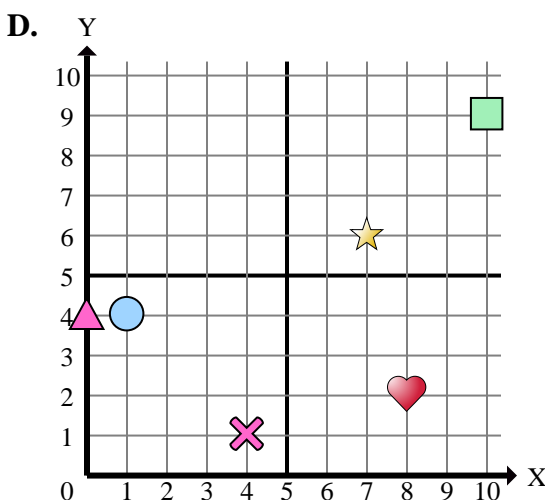
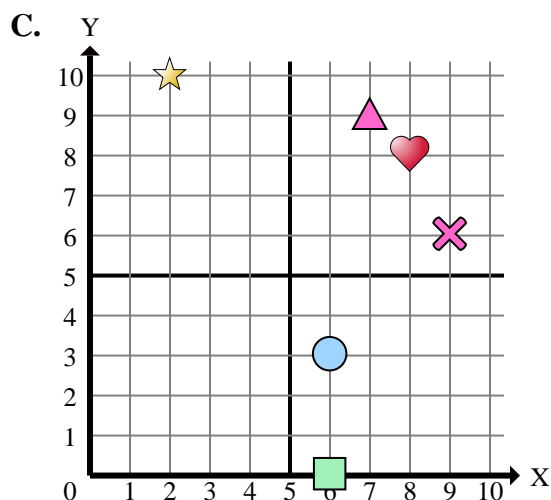
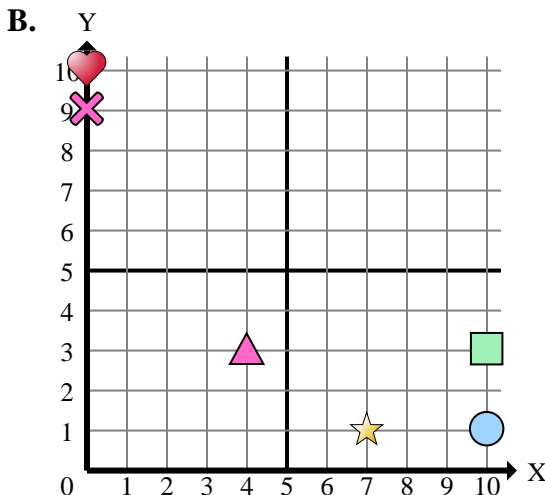
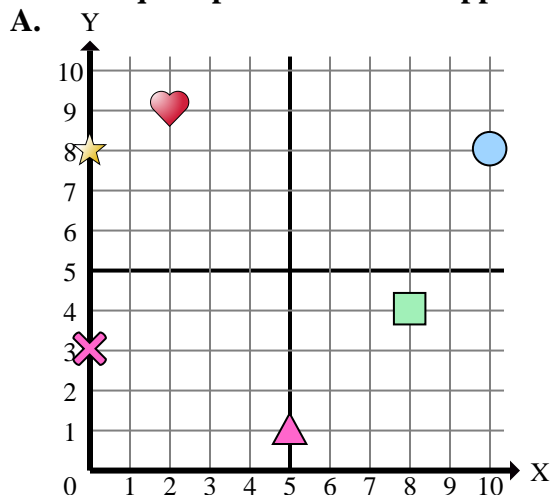
- 1) Quale sistema di riferimento ha una figura in (7 , 6)?
- 2) Quale sistema di riferimento ha una figura in (8 , 4)?
- 3) Quale sistema di riferimento ha una figura in (0 , 10)?
- 4) Quale sistema di riferimento ha una figura in (6 , 3)?
- 5) Quale sistema di riferimento ha una figura in (2 , 9)?
- 6) Quale sistema di riferimento ha una figura in (8 , 2)?
- 7) Quale sistema di riferimento ha una figura in (0 , 4)?
- 8) Quale sistema di riferimento ha una figura in (1 , 4)?
- 9) Quale sistema di riferimento ha una figura in (0 , 8)?
- 10) Quale sistema di riferimento ha una figura in (4 , 3)?
- 11) Quale sistema di riferimento ha una figura in (0 , 3)?
- 12) Quale sistema di riferimento ha una figura in (6 , 0)?
- 13) Quale sistema di riferimento ha una figura in (7 , 1)?
- 14) Quale sistema di riferimento ha una figura in (2 , 10)?
- 15) Quale sistema di riferimento ha una figura in (10 , 9)?

**Risposte**

1. \_\_\_\_\_
2. \_\_\_\_\_
3. \_\_\_\_\_
4. \_\_\_\_\_
5. \_\_\_\_\_
6. \_\_\_\_\_
7. \_\_\_\_\_
8. \_\_\_\_\_
9. \_\_\_\_\_
10. \_\_\_\_\_
11. \_\_\_\_\_
12. \_\_\_\_\_
13. \_\_\_\_\_
14. \_\_\_\_\_
15. \_\_\_\_\_



Indica a quale piano cartesiano appartengono le forme elencate nelle domande.



- 1) Quale sistema di riferimento ha una figura in (7 , 6)?
- 2) Quale sistema di riferimento ha una figura in (8 , 4)?
- 3) Quale sistema di riferimento ha una figura in (0 , 10)?
- 4) Quale sistema di riferimento ha una figura in (6 , 3)?
- 5) Quale sistema di riferimento ha una figura in (2 , 9)?
- 6) Quale sistema di riferimento ha una figura in (8 , 2)?
- 7) Quale sistema di riferimento ha una figura in (0 , 4)?
- 8) Quale sistema di riferimento ha una figura in (1 , 4)?
- 9) Quale sistema di riferimento ha una figura in (0 , 8)?
- 10) Quale sistema di riferimento ha una figura in (4 , 3)?
- 11) Quale sistema di riferimento ha una figura in (0 , 3)?
- 12) Quale sistema di riferimento ha una figura in (6 , 0)?
- 13) Quale sistema di riferimento ha una figura in (7 , 1)?
- 14) Quale sistema di riferimento ha una figura in (2 , 10)?
- 15) Quale sistema di riferimento ha una figura in (10 , 9)?

**Risposte**

1.           **D**
2.           **A**
3.           **B**
4.           **C**
5.           **A**
6.           **D**
7.           **D**
8.           **D**
9.           **A**
10.          **B**
11.          **A**
12.          **C**
13.          **B**
14.          **C**
15.          **D**