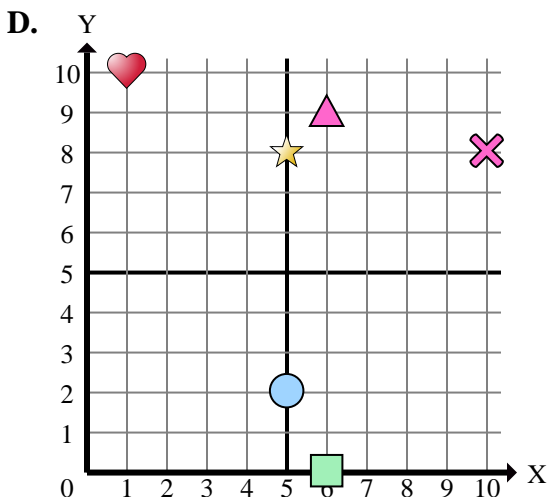
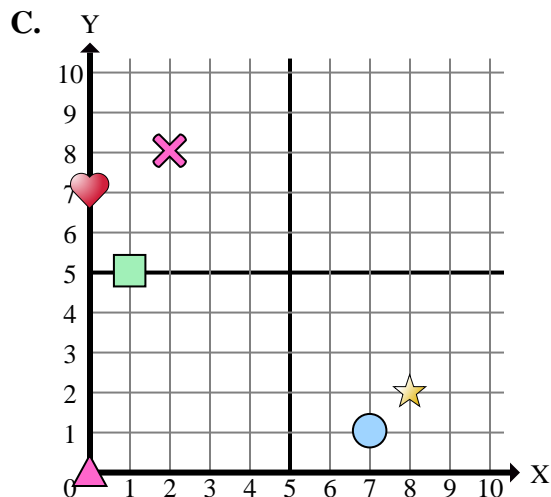
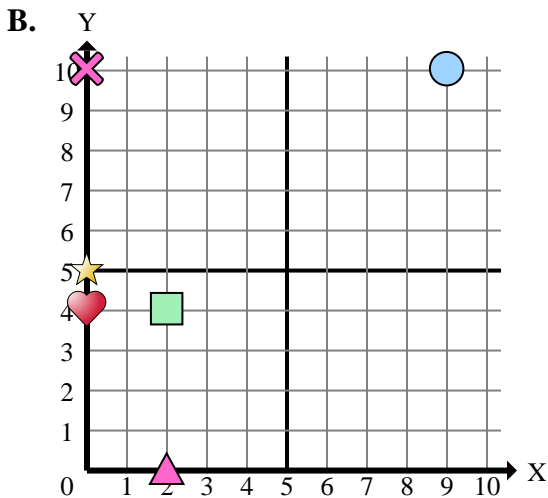
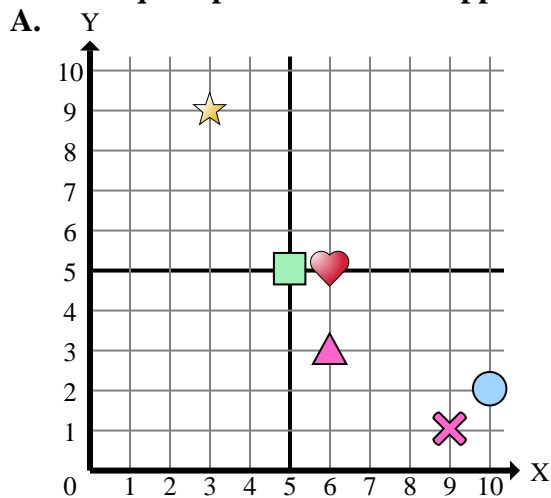




Indica a quale piano cartesiano appartengono le forme elencate nelle domande.



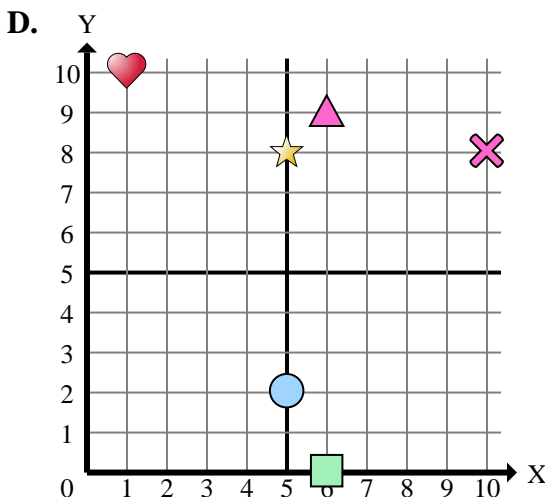
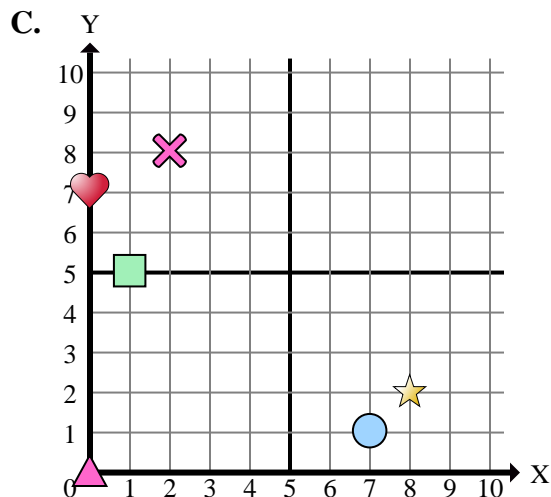
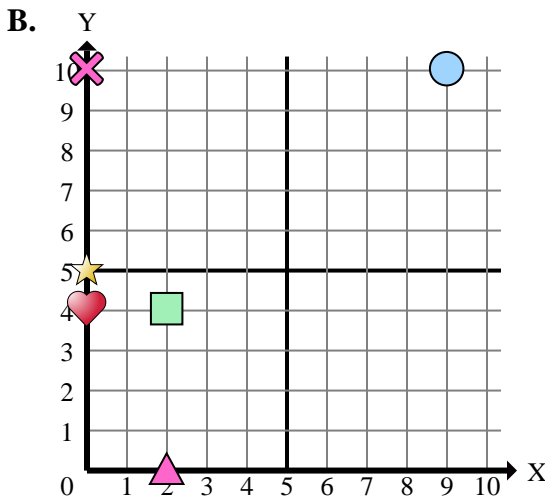
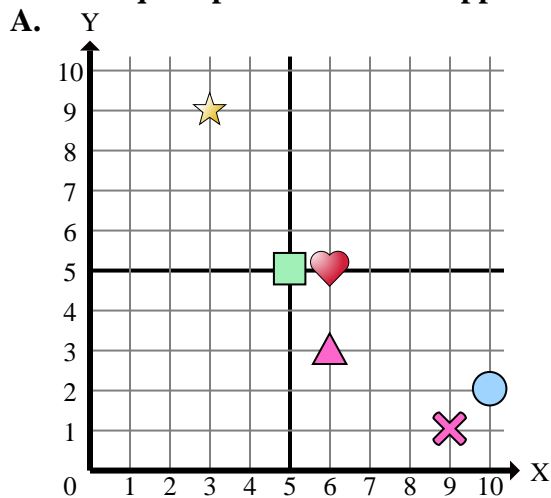
- 1) Quale sistema di riferimento ha una figura in (0 , 5)?
- 2) Quale sistema di riferimento ha una figura in (2 , 0)?
- 3) Quale sistema di riferimento ha una figura in (5 , 5)?
- 4) Quale sistema di riferimento ha una figura in (3 , 9)?
- 5) Quale sistema di riferimento ha una figura in (0 , 7)?
- 6) Quale sistema di riferimento ha una figura in (6 , 9)?
- 7) Quale sistema di riferimento ha una figura in (6 , 5)?
- 8) Quale sistema di riferimento ha una figura in (8 , 2)?
- 9) Quale sistema di riferimento ha una figura in (5 , 8)?
- 10) Quale sistema di riferimento ha una figura in (9 , 10)?
- 11) Quale sistema di riferimento ha una figura in (0 , 0)?
- 12) Quale sistema di riferimento ha una figura in (2 , 4)?
- 13) Quale sistema di riferimento ha una figura in (0 , 10)?
- 14) Quale sistema di riferimento ha una figura in (6 , 0)?
- 15) Quale sistema di riferimento ha una figura in (10 , 8)?

**Risposte**

1. \_\_\_\_\_
2. \_\_\_\_\_
3. \_\_\_\_\_
4. \_\_\_\_\_
5. \_\_\_\_\_
6. \_\_\_\_\_
7. \_\_\_\_\_
8. \_\_\_\_\_
9. \_\_\_\_\_
10. \_\_\_\_\_
11. \_\_\_\_\_
12. \_\_\_\_\_
13. \_\_\_\_\_
14. \_\_\_\_\_
15. \_\_\_\_\_



Indica a quale piano cartesiano appartengono le forme elencate nelle domande.



- 1) Quale sistema di riferimento ha una figura in (0 , 5)?
- 2) Quale sistema di riferimento ha una figura in (2 , 0)?
- 3) Quale sistema di riferimento ha una figura in (5 , 5)?
- 4) Quale sistema di riferimento ha una figura in (3 , 9)?
- 5) Quale sistema di riferimento ha una figura in (0 , 7)?
- 6) Quale sistema di riferimento ha una figura in (6 , 9)?
- 7) Quale sistema di riferimento ha una figura in (6 , 5)?
- 8) Quale sistema di riferimento ha una figura in (8 , 2)?
- 9) Quale sistema di riferimento ha una figura in (5 , 8)?
- 10) Quale sistema di riferimento ha una figura in (9 , 10)?
- 11) Quale sistema di riferimento ha una figura in (0 , 0)?
- 12) Quale sistema di riferimento ha una figura in (2 , 4)?
- 13) Quale sistema di riferimento ha una figura in (0 , 10)?
- 14) Quale sistema di riferimento ha una figura in (6 , 0)?
- 15) Quale sistema di riferimento ha una figura in (10 , 8)?

**Risposte**

1.     **B**
2.     **B**
3.     **A**
4.     **A**
5.     **C**
6.     **D**
7.     **A**
8.     **C**
9.     **D**
10.     **B**
11.     **C**
12.     **B**
13.     **B**
14.     **D**
15.     **D**