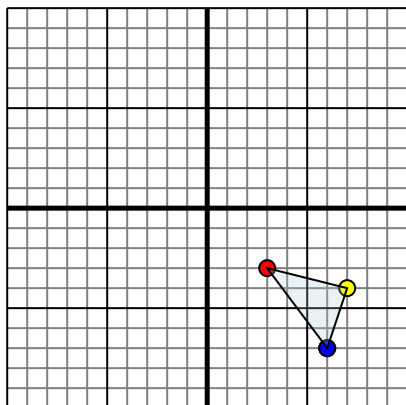




Specchia la forma come descritto

1)

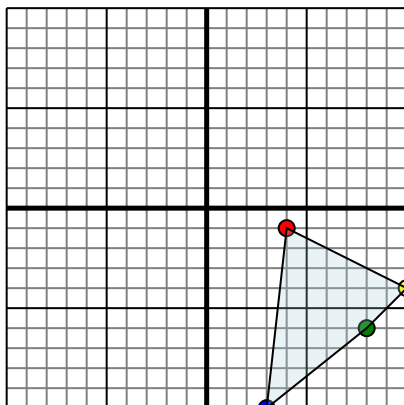


La figura qui sopra ha le seguenti coordinate:

- A. (3,-3)
- B. (7,-4)
- C. (6,-7)

Specchia la figura rispetto all'asse x.

2)

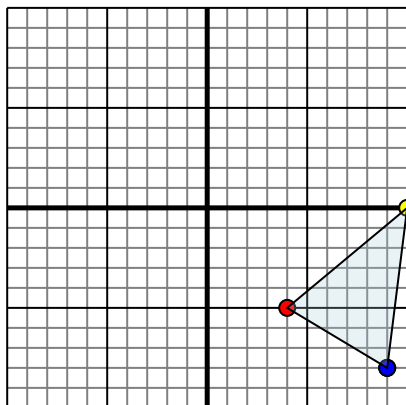


La figura qui sopra ha le seguenti coordinate:

- A. (4,-1)
- B. (10,-4)
- C. (8,-6)
- D. (3,-10)

Specchia la figura rispetto all'asse x.

3)

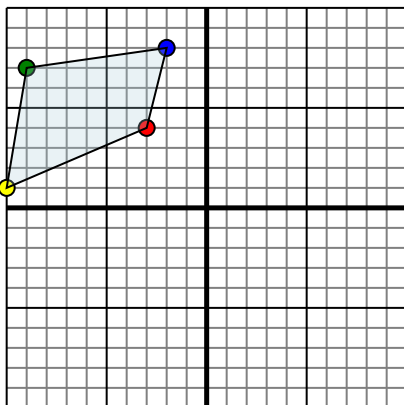


La figura qui sopra ha le seguenti coordinate:

- A. (4,-5)
- B. (10,0)
- C. (9,-8)

Specchia la figura rispetto all'asse y.

4)



La figura qui sopra ha le seguenti coordinate:

- A. (-3,4)
- B. (-10,1)
- C. (-9,7)
- D. (-2,8)

Specchia la figura rispetto all'asse x.

Risposte

1. _____

2. _____

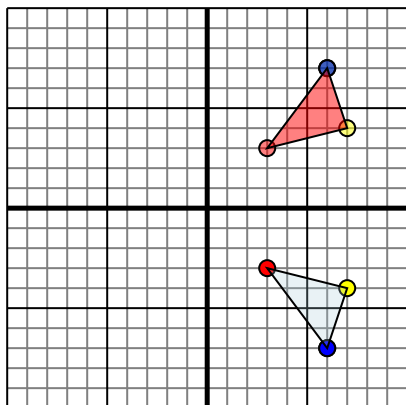
3. _____

4. _____



Specchia la forma come descritto

1)

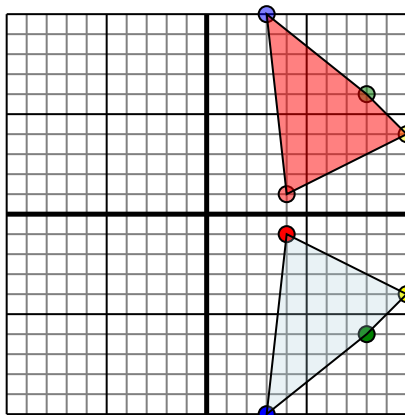


La figura qui sopra ha le seguenti coordinate:

- A. (3,-3)
- B. (7,-4)
- C. (6,-7)

Specchia la figura rispetto all'asse x.

2)

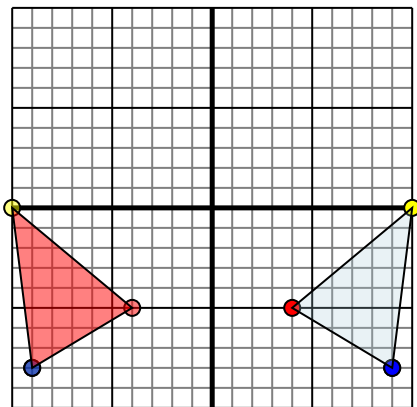


La figura qui sopra ha le seguenti coordinate:

- A. (4,-1)
- B. (10,-4)
- C. (8,-6)
- D. (3,-10)

Specchia la figura rispetto all'asse x.

3)

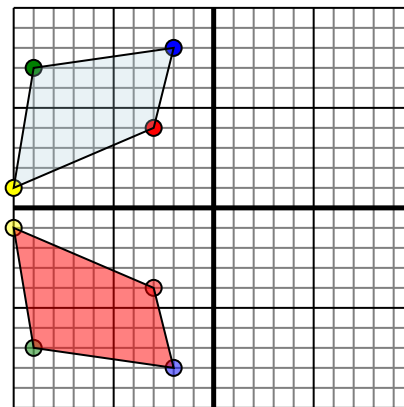


La figura qui sopra ha le seguenti coordinate:

- A. (4,-5)
- B. (10,0)
- C. (9,-8)

Specchia la figura rispetto all'asse y.

4)



La figura qui sopra ha le seguenti coordinate:

- A. (-3,4)
- B. (-10,1)
- C. (-9,7)
- D. (-2,8)

Specchia la figura rispetto all'asse x.

Risposte

1. **3.3** **7.4** **6.7** Graph
2. **4.1** **10.4** **8.6** **3.10** Graph
3. **-4.-5** **-10.0** **-9.-8** Graph
4. **-3.-4** **-10.-1** **-9.-7** **-2.-8** Graph