



Misura le barre qui sotto (in centimetri) e crea un grafico a linee basandoti sulle informazioni

Risposte



1. _____



2. _____



3. _____



4. _____



5. _____



6. _____



7. _____



8. _____



9. _____



10. _____



11. _____



12. _____



13. _____



14. _____


















15. _____

Line Plot



Misura le barre qui sotto (in centimetri) e crea un grafico a linee basandoti sulle informazioni

- 1)  3
- 2)  3
- 3)  3
- 4)  3
- 5)  4
- 6)  3
- 7)  3
- 8)  5
- 9)  3
- 10)  3
- 11)  6
- 12)  3
- 13)  3
- 14)  3
- 15)  4

Risposte

- 1. 3
- 2. 3
- 3. 3
- 4. 3
- 5. 4
- 6. 3
- 7. 3
- 8. 5
- 9. 3
- 10. 3
- 11. 6
- 12. 3
- 13. 3
- 14. 3
- 15. 4

Line Plot

