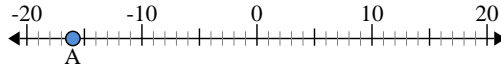




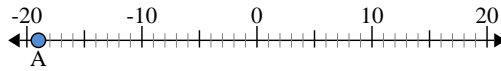
Usa la linea numerata per trovare il valore assoluto.

1) a. Qual è il valore di 'A'?



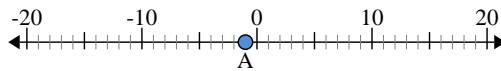
b. Quanto è distante 'A' da 0 (valore assoluto)?

2) a. Qual è il valore di 'A'?



b. Quanto è distante 'A' da 0 (valore assoluto)?

3) a. Qual è il valore di 'A'?



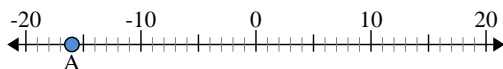
Risposte

1. _____
2. _____
3. _____
4. _____
5. _____
6. _____
7. _____
8. _____
9. _____
10. _____



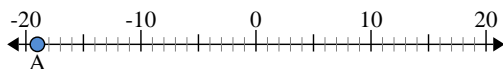
Usa la linea numerata per trovare il valore assoluto.

1) a. Qual è il valore di 'A'?



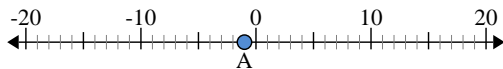
b. Quanto è distante 'A' da 0 (valore assoluto)?

2) a. Qual è il valore di 'A'?



b. Quanto è distante 'A' da 0 (valore assoluto)?

3) a. Qual è il valore di 'A'?



Risposte

1.	<u>-16</u>	<u>16</u>
2.	<u>-19</u>	<u>19</u>
3.	<u>-1</u>	<u>1</u>
4.	<u>7</u>	<u>7</u>
5.	<u>-8</u>	<u>8</u>
6.	<u>-10</u>	<u>10</u>
7.	<u>20</u>	<u>20</u>
8.	<u>2</u>	<u>2</u>
9.	<u>-6</u>	<u>6</u>
10.	<u>9</u>	<u>9</u>