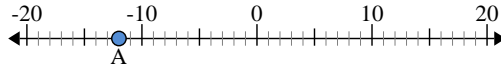




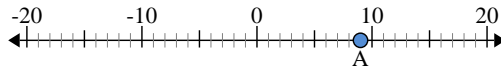
Usa la linea numerata per trovare il valore assoluto.

1) a. Qual è il valore di 'A'?



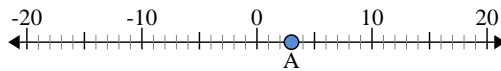
b. Quanto è distante 'A' da 0 (valore assoluto)?

2) a. Qual è il valore di 'A'?



b. Quanto è distante 'A' da 0 (valore assoluto)?

3) a. Qual è il valore di 'A'?



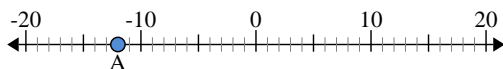
Risposte

- 1. _____
- 2. _____
- 3. _____
- 4. _____
- 5. _____
- 6. _____
- 7. _____
- 8. _____
- 9. _____
- 10. _____



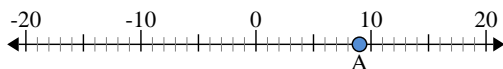
Usa la linea numerata per trovare il valore assoluto.

1) a. Qual è il valore di 'A'?



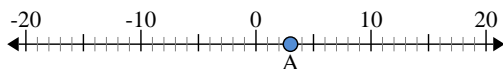
b. Quanto è distante 'A' da 0 (valore assoluto)?

2) a. Qual è il valore di 'A'?



b. Quanto è distante 'A' da 0 (valore assoluto)?

3) a. Qual è il valore di 'A'?



Risposte

1.	-12	12
2.	9	9
3.	3	3
4.	-18	18
5.	-8	8
6.	-4	4
7.	2	2
8.	20	20
9.	-1	1
10.	6	6