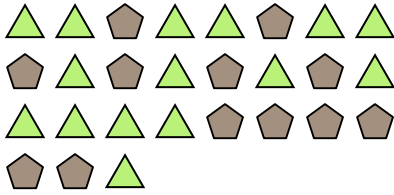





Risolvi ogni problema.

Risposte

Es) Qual è il rapporto tra pentagoni e triangoli?



1) Qual è il rapporto tra cerchi e moons?

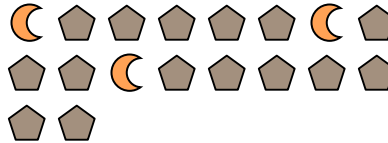


Es. **12:15**

2) Qual è il rapporto tra stelle e quadrati?



3) Qual è il rapporto tra moons e pentagoni?



1. _____

2. _____

3. _____

4. _____

5. _____

6. _____

7. _____

8. _____

9. _____

10. _____

11. _____

4) Qual è il rapporto tra hearts e moons?




5) Qual è il rapporto tra stelle e triangoli?



6) Qual è il rapporto tra moons e stelle?




7) Qual è il rapporto tra pentagoni e hearts?



8) Qual è il rapporto tra pentagoni e stelle?



9) Qual è il rapporto tra cerchi e moons?



10) Qual è il rapporto tra stelle e moons?



11) Qual è il rapporto tra triangoli e pentagoni?



