




Risolvi ogni problema.

**Risposte**


Es) Qual è il rapporto tra moons e stelle?




1) Qual è il rapporto tra moons e triangoli?



2) Qual è il rapporto tra hearts e quadrati?



3) Qual è il rapporto tra triangoli e hearts?



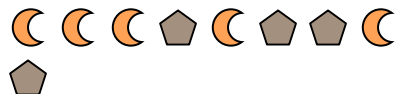
4) Qual è il rapporto tra stelle e hearts?



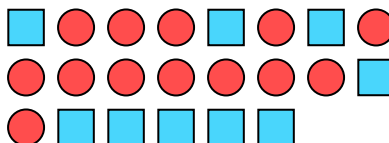
5) Qual è il rapporto tra stelle e triangoli?



6) Qual è il rapporto tra pentagoni e moons?



7) Qual è il rapporto tra cerchi e quadrati?



8) Qual è il rapporto tra stelle e pentagoni?



9) Qual è il rapporto tra triangoli e stelle?



10) Qual è il rapporto tra stelle e cerchi?



11) Qual è il rapporto tra stelle e hearts?

Es. **5:10**

1. \_\_\_\_\_

2. \_\_\_\_\_

3. \_\_\_\_\_

4. \_\_\_\_\_

5. \_\_\_\_\_

6. \_\_\_\_\_

7. \_\_\_\_\_

8. \_\_\_\_\_

9. \_\_\_\_\_

10. \_\_\_\_\_

11. \_\_\_\_\_




Risolvi ogni problema.


Es) Qual è il rapporto tra moons e stelle?




1) Qual è il rapporto tra moons e triangoli?



2) Qual è il rapporto tra hearts e quadrati?



3) Qual è il rapporto tra triangoli e hearts?



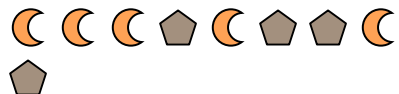
4) Qual è il rapporto tra stelle e hearts?



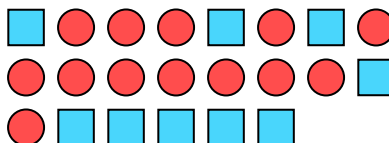
5) Qual è il rapporto tra stelle e triangoli?



6) Qual è il rapporto tra pentagoni e moons?



7) Qual è il rapporto tra cerchi e quadrati?



8) Qual è il rapporto tra stelle e pentagoni?



9) Qual è il rapporto tra triangoli e stelle?



10) Qual è il rapporto tra stelle e cerchi?



11) Qual è il rapporto tra stelle e hearts?

**Risposte**Es. 5:101. 14:132. 11:73. 14:154. 8:35. 2:36. 4:57. 13:98. 15:79. 10:810. 2:411. 2:11