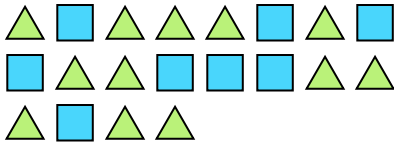




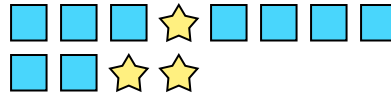
Risolvi ogni problema.

Risposte

Es) Qual è il rapporto tra triangoli e quadrati?



1) Qual è il rapporto tra stelle e quadrati?

Es. **12:8**

2) Qual è il rapporto tra moons e stelle?



3) Qual è il rapporto tra moons e stelle?



1. _____

2. _____

3. _____

4. _____

5. _____

6. _____

7. _____


8. _____

9. _____


10. _____

11. _____

4) Qual è il rapporto tra stelle e hearts?



5) Qual è il rapporto tra triangoli e hearts?




6) Qual è il rapporto tra hearts e moons?



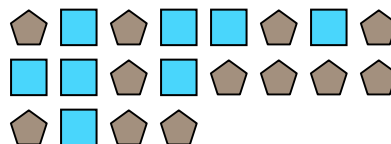
7) Qual è il rapporto tra hearts e stelle?



8) Qual è il rapporto tra hearts e cerchi?




9) Qual è il rapporto tra quadrati e pentagoni?



10) Qual è il rapporto tra hearts e pentagoni?




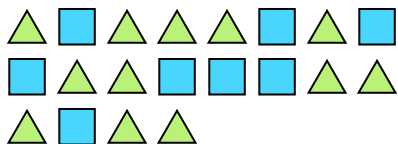
11) Qual è il rapporto tra quadrati e stelle?





Risolvi ogni problema.

Es) Qual è il rapporto tra triangoli e quadrati? 1) Qual è il rapporto tra stelle e quadrati?




2) Qual è il rapporto tra moons e stelle?




3) Qual è il rapporto tra moons e stelle?



4) Qual è il rapporto tra stelle e hearts?



5) Qual è il rapporto tra triangoli e hearts?




6) Qual è il rapporto tra hearts e moons?



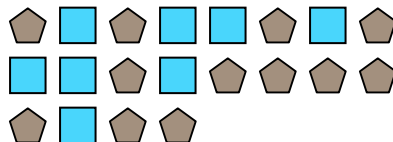
7) Qual è il rapporto tra hearts e stelle?




8) Qual è il rapporto tra hearts e cerchi?



9) Qual è il rapporto tra quadrati e pentagoni?



10) Qual è il rapporto tra hearts e pentagoni? 11) Qual è il rapporto tra quadrati e stelle?

**Risposte**Es. 12:81. 3:92. 11:23. 10:44. 8:115. 8:66. 2:107. 9:138. 9:79. 8:1210. 4:211. 13:14