



Risolvi ogni problema.

Risposte

Es) Qual è il rapporto tra moons e hearts?

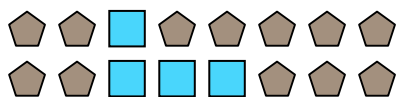


1) Qual è il rapporto tra stelle e hearts?




Es. **15:7**

2) Qual è il rapporto tra quadrati e pentagoni?



3) Qual è il rapporto tra hearts e quadrati?



1. _____

2. _____

3. _____

4. _____

5. _____

6. _____

7. _____


8. _____

9. _____


10. _____

11. _____

4) Qual è il rapporto tra stelle e cerchi?



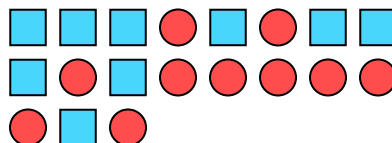
5) Qual è il rapporto tra hearts e moons?



6) Qual è il rapporto tra moons e triangoli?




7) Qual è il rapporto tra quadrati e cerchi?



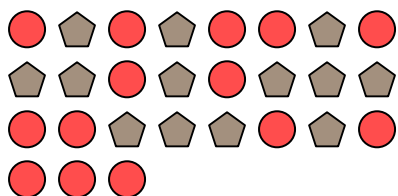
8) Qual è il rapporto tra stelle e hearts?




9) Qual è il rapporto tra triangoli e hearts?



10) Qual è il rapporto tra cerchi e pentagoni?



11) Qual è il rapporto tra stelle e quadrati?





Risolvi ogni problema.


Es) Qual è il rapporto tra moons e hearts?



2) Qual è il rapporto tra quadrati e pentagoni?



4) Qual è il rapporto tra stelle e cerchi?



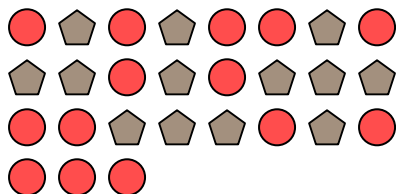
6) Qual è il rapporto tra moons e triangoli?



8) Qual è il rapporto tra stelle e hearts?




10) Qual è il rapporto tra cerchi e pentagoni?




1) Qual è il rapporto tra stelle e hearts?



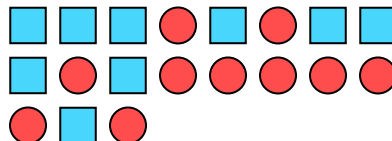
3) Qual è il rapporto tra hearts e quadrati?



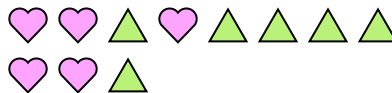
5) Qual è il rapporto tra hearts e moons?




7) Qual è il rapporto tra quadrati e cerchi?



9) Qual è il rapporto tra triangoli e hearts?



11) Qual è il rapporto tra stelle e quadrati?

**Risposte**Es. 15:71. 3:102. 4:123. 6:34. 2:155. 9:106. 4:87. 9:108. 2:89. 6:510. 14:1311. 7:10