

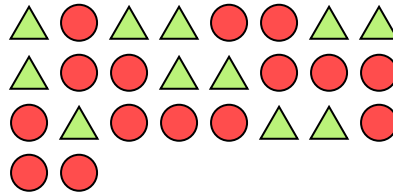


Risolvi ogni problema.

Es) Qual è il rapporto tra triangoli e stelle?



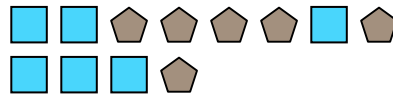
1) Qual è il rapporto tra cerchi e triangoli?




2) Qual è il rapporto tra pentagoni e moons?



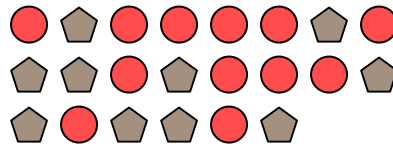
3) Qual è il rapporto tra quadrati e pentagoni?



4) Qual è il rapporto tra moons e hearts?




5) Qual è il rapporto tra cerchi e pentagoni?




6) Qual è il rapporto tra triangoli e stelle?




7) Qual è il rapporto tra hearts e cerchi?




8) Qual è il rapporto tra hearts e cerchi?



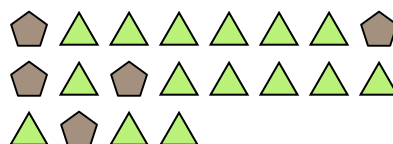
9) Qual è il rapporto tra hearts e cerchi?



10) Qual è il rapporto tra quadrati e moons?



11) Qual è il rapporto tra triangoli e pentagoni?

**Risposte**Es. 3:91. 15:112. 4:113. 6:64. 8:145. 12:106. 6:47. 8:118. 15:89. 5:910. 6:1311. 15:5