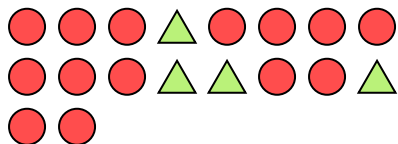






Risolvi ogni problema.

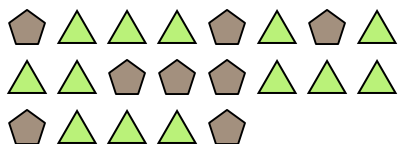
Es) Qual è il rapporto tra triangoli e cerchi?



2) Qual è il rapporto tra cerchi e stelle?



4) Qual è il rapporto tra triangoli e pentagoni?




6) Qual è il rapporto tra moons e cerchi?




8) Qual è il rapporto tra moons e stelle?



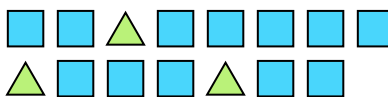
10) Qual è il rapporto tra cerchi e moons?




1) Qual è il rapporto tra moons e pentagoni?




3) Qual è il rapporto tra quadrati e triangoli?



5) Qual è il rapporto tra triangoli e hearts?



7) Qual è il rapporto tra cerchi e moons?



9) Qual è il rapporto tra stelle e pentagoni?



11) Qual è il rapporto tra pentagoni e moons?

**Risposte**Es. 4:141. 15:82. 9:73. 12:34. 13:85. 4:106. 5:47. 11:128. 7:59. 6:1310. 8:1511. 2:3