



Risolvi ogni problema.

Es) Qual è il rapporto tra triangoli e pentagoni?



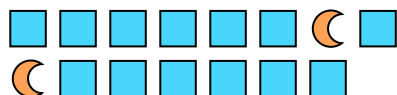
1) Qual è il rapporto tra stelle e moons?




Risposte

Es. **4:12**

2) Qual è il rapporto tra moons e quadrati?



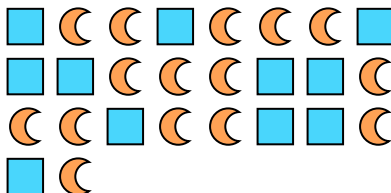
3) Qual è il rapporto tra pentagoni e moons?



4) Qual è il rapporto tra stelle e pentagoni?




5) Qual è il rapporto tra moons e quadrati?



6) Qual è il rapporto tra stelle e cerchi?



7) Qual è il rapporto tra cerchi e stelle?



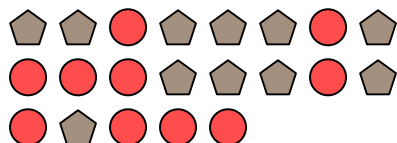
8) Qual è il rapporto tra cerchi e moons?




9) Qual è il rapporto tra pentagoni e stelle?



10) Qual è il rapporto tra pentagoni e cerchi?



11) Qual è il rapporto tra quadrati e hearts?

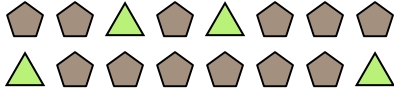


- 1. _____
- 2. _____
- 3. _____
- 4. _____
- 5. _____
- 6. _____
- 7. _____
- 8. _____
- 9. _____
- 10. _____
- 11. _____

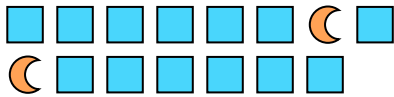


Risolvi ogni problema.

Es) Qual è il rapporto tra triangoli e pentagoni?



2) Qual è il rapporto tra moons e quadrati?




4) Qual è il rapporto tra stelle e pentagoni?



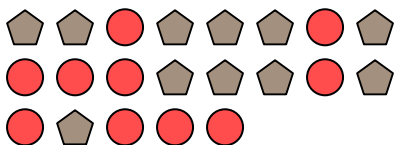
6) Qual è il rapporto tra stelle e cerchi?



8) Qual è il rapporto tra cerchi e moons?




10) Qual è il rapporto tra pentagoni e cerchi?




1) Qual è il rapporto tra stelle e moons?




3) Qual è il rapporto tra pentagoni e moons?



5) Qual è il rapporto tra moons e quadrati?




7) Qual è il rapporto tra cerchi e stelle?



9) Qual è il rapporto tra pentagoni e stelle?



11) Qual è il rapporto tra quadrati e hearts?

**Risposte**Es. 4:121. 9:122. 2:133. 10:134. 12:55. 15:116. 7:97. 12:78. 8:159. 7:410. 11:1011. 4:6