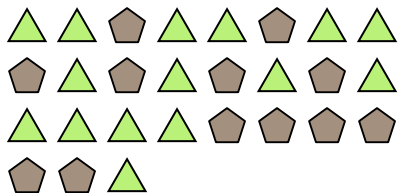




Risolvi ogni problema.

Risposte

Es) Qual è il rapporto tra pentagoni e triangoli?



2) Qual è il rapporto tra stelle e quadrati?



4) Qual è il rapporto tra hearts e moons?



6) Qual è il rapporto tra moons e stelle?




8) Qual è il rapporto tra pentagoni e stelle?




10) Qual è il rapporto tra stelle e moons?



1) Qual è il rapporto tra cerchi e moons?




3) Qual è il rapporto tra moons e pentagoni?




5) Qual è il rapporto tra stelle e triangoli?



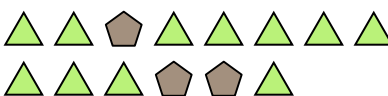
7) Qual è il rapporto tra pentagoni e hearts?



9) Qual è il rapporto tra cerchi e moons?



11) Qual è il rapporto tra triangoli e pentagoni?



Es. **12:15**

1. _____

2. _____

3. _____

4. _____

5. _____

6. _____

7. _____

8. _____

9. _____

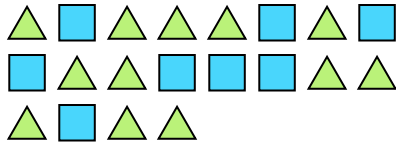
10. _____

11. _____

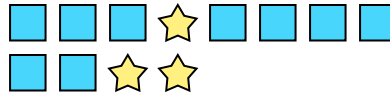


Risolvi ogni problema.

Es) Qual è il rapporto tra triangoli e quadrati?



1) Qual è il rapporto tra stelle e quadrati?



Risposte

Es. **12:8**

2) Qual è il rapporto tra moons e stelle?




3) Qual è il rapporto tra moons e stelle?



4) Qual è il rapporto tra stelle e hearts?



5) Qual è il rapporto tra triangoli e hearts?




6) Qual è il rapporto tra hearts e moons?



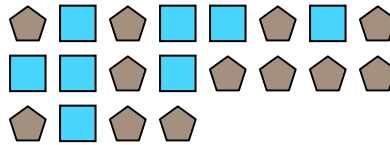
7) Qual è il rapporto tra hearts e stelle?



8) Qual è il rapporto tra hearts e cerchi?




9) Qual è il rapporto tra quadrati e pentagoni?



10) Qual è il rapporto tra hearts e pentagoni?



11) Qual è il rapporto tra quadrati e stelle?

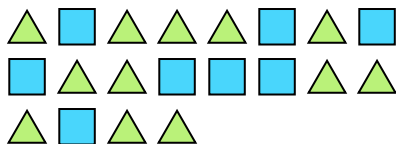


- 1. _____
- 2. _____
- 3. _____
- 4. _____
- 5. _____
- 6. _____
- 7. _____
- 8. _____
- 9. _____
- 10. _____
- 11. _____



Risolvi ogni problema.

Es) Qual è il rapporto tra triangoli e quadrati? 1) Qual è il rapporto tra stelle e quadrati?

Es. 12:8


2) Qual è il rapporto tra moons e stelle?



3) Qual è il rapporto tra moons e stelle?

1. 3:92. 11:2

4) Qual è il rapporto tra stelle e hearts?



5) Qual è il rapporto tra triangoli e hearts?

3. 10:44. 8:115. 8:66. 2:107. 9:138. 9:7


6) Qual è il rapporto tra hearts e moons?



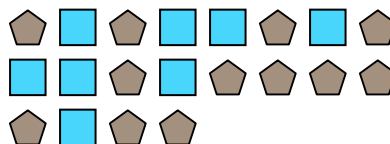
7) Qual è il rapporto tra hearts e stelle?

9. 8:1210. 4:211. 13:14


8) Qual è il rapporto tra hearts e cerchi?



9) Qual è il rapporto tra quadrati e pentagoni?



10) Qual è il rapporto tra hearts e pentagoni? 11) Qual è il rapporto tra quadrati e stelle?



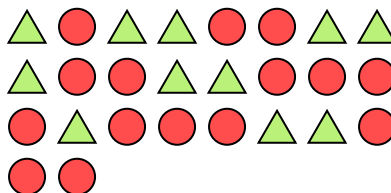


Risolvi ogni problema.

Es) Qual è il rapporto tra triangoli e stelle?



1) Qual è il rapporto tra cerchi e triangoli?



2) Qual è il rapporto tra pentagoni e moons?



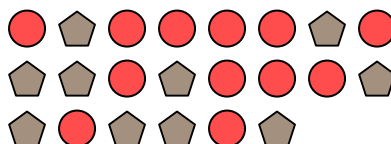
3) Qual è il rapporto tra quadrati e pentagoni?



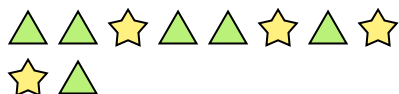
4) Qual è il rapporto tra moons e hearts?




5) Qual è il rapporto tra cerchi e pentagoni?




6) Qual è il rapporto tra triangoli e stelle?




7) Qual è il rapporto tra hearts e cerchi?




8) Qual è il rapporto tra hearts e cerchi?



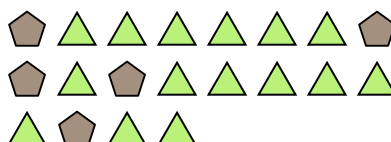
9) Qual è il rapporto tra hearts e cerchi?



10) Qual è il rapporto tra quadrati e moons?




11) Qual è il rapporto tra triangoli e pentagoni?

**Risposte**Es. 3:91. 15:112. 4:113. 6:64. 8:145. 12:106. 6:47. 8:118. 15:89. 5:910. 6:1311. 15:5



Risolvi ogni problema.

Es) Qual è il rapporto tra stelle e pentagoni?



1) Qual è il rapporto tra pentagoni e stelle?




2) Qual è il rapporto tra hearts e quadrati?



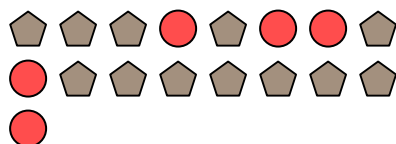
3) Qual è il rapporto tra pentagoni e stelle?




4) Qual è il rapporto tra stelle e cerchi?



5) Qual è il rapporto tra cerchi e pentagoni?



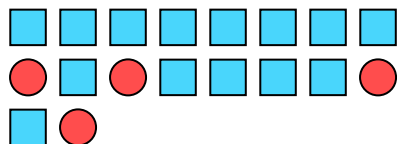
6) Qual è il rapporto tra pentagoni e hearts?



7) Qual è il rapporto tra triangoli e pentagoni?



8) Qual è il rapporto tra quadrati e cerchi?



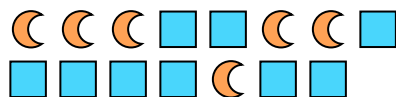
9) Qual è il rapporto tra stelle e pentagoni?



10) Qual è il rapporto tra moons e hearts?



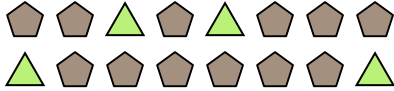
11) Qual è il rapporto tra moons e quadrati?

**Risposte**Es. **15:10**1. **8:12**2. **10:2**3. **11:5**4. **3:10**5. **5:12**6. **14:15**7. **8:6**8. **14:4**9. **7:5**10. **8:5**11. **6:9**

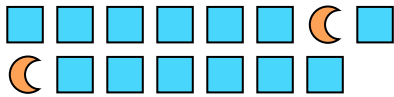


Risolvi ogni problema.

Es) Qual è il rapporto tra triangoli e pentagoni?



2) Qual è il rapporto tra moons e quadrati?




4) Qual è il rapporto tra stelle e pentagoni?



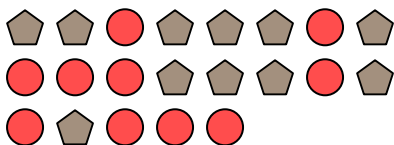
6) Qual è il rapporto tra stelle e cerchi?



8) Qual è il rapporto tra cerchi e moons?




10) Qual è il rapporto tra pentagoni e cerchi?




1) Qual è il rapporto tra stelle e moons?




3) Qual è il rapporto tra pentagoni e moons?



5) Qual è il rapporto tra moons e quadrati?




7) Qual è il rapporto tra cerchi e stelle?



9) Qual è il rapporto tra pentagoni e stelle?



11) Qual è il rapporto tra quadrati e hearts?

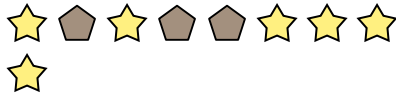
**Risposte**Es. 4:121. 9:122. 2:133. 10:134. 12:55. 15:116. 7:97. 12:78. 8:159. 7:410. 11:1011. 4:6



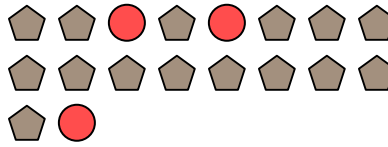
Risolvi ogni problema.

Risposte

Es) Qual è il rapporto tra stelle e pentagoni?



1) Qual è il rapporto tra cerchi e pentagoni?




Es. **6:3**

2) Qual è il rapporto tra cerchi e moons?



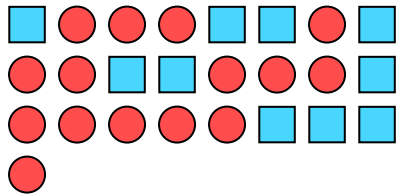
3) Qual è il rapporto tra triangoli e moons?



1. _____

2. _____

4) Qual è il rapporto tra cerchi e quadrati?



5) Qual è il rapporto tra hearts e stelle?



3. _____

4. _____

5. _____

6. _____

7. _____


8. _____

9. _____

6) Qual è il rapporto tra cerchi e triangoli?



7) Qual è il rapporto tra hearts e pentagoni?




10. _____

11. _____


8) Qual è il rapporto tra pentagoni e stelle?




9) Qual è il rapporto tra stelle e triangoli?



10) Qual è il rapporto tra quadrati e moons?



11) Qual è il rapporto tra stelle e cerchi?



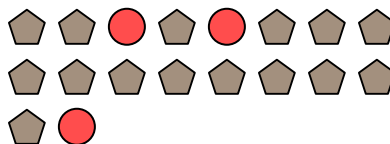


Risolvi ogni problema.

Es) Qual è il rapporto tra stelle e pentagoni?




1) Qual è il rapporto tra cerchi e pentagoni?



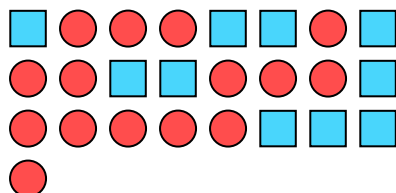
2) Qual è il rapporto tra cerchi e moons?



3) Qual è il rapporto tra triangoli e moons?



4) Qual è il rapporto tra cerchi e quadrati?



5) Qual è il rapporto tra hearts e stelle?



6) Qual è il rapporto tra cerchi e triangoli?



7) Qual è il rapporto tra hearts e pentagoni?




8) Qual è il rapporto tra pentagoni e stelle?




9) Qual è il rapporto tra stelle e triangoli?



10) Qual è il rapporto tra quadrati e moons?



11) Qual è il rapporto tra stelle e cerchi?

**Risposte**Es. 6:31. 3:152. 4:53. 4:134. 15:105. 2:136. 3:47. 5:68. 5:49. 5:1510. 8:1511. 13:6




Risolvi ogni problema.


Es) Qual è il rapporto tra moons e stelle?




1) Qual è il rapporto tra moons e triangoli?



2) Qual è il rapporto tra hearts e quadrati?



3) Qual è il rapporto tra triangoli e hearts?



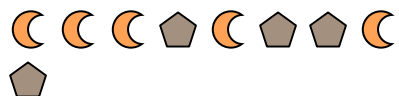
4) Qual è il rapporto tra stelle e hearts?



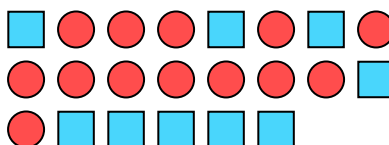
5) Qual è il rapporto tra stelle e triangoli?



6) Qual è il rapporto tra pentagoni e moons?



7) Qual è il rapporto tra cerchi e quadrati?



8) Qual è il rapporto tra stelle e pentagoni?



9) Qual è il rapporto tra triangoli e stelle?



10) Qual è il rapporto tra stelle e cerchi?



11) Qual è il rapporto tra stelle e hearts?

**Risposte**Es. 5:101. 14:132. 11:73. 14:154. 8:35. 2:36. 4:57. 13:98. 15:79. 10:810. 2:411. 2:11