



Usa la linea numerata per arrotondare ogni numero al centinaio più vicino.

Es)

612



Es. 600

1)

9.223



1. \_\_\_\_\_

2)

17.922



2. \_\_\_\_\_

3)

87.465



3. \_\_\_\_\_

4)

653



4. \_\_\_\_\_

5)

3.616



5. \_\_\_\_\_

6)

6.677



6. \_\_\_\_\_

7)

22.598



7. \_\_\_\_\_

8)

1.241



8. \_\_\_\_\_

9)

960



9. \_\_\_\_\_

10)

873

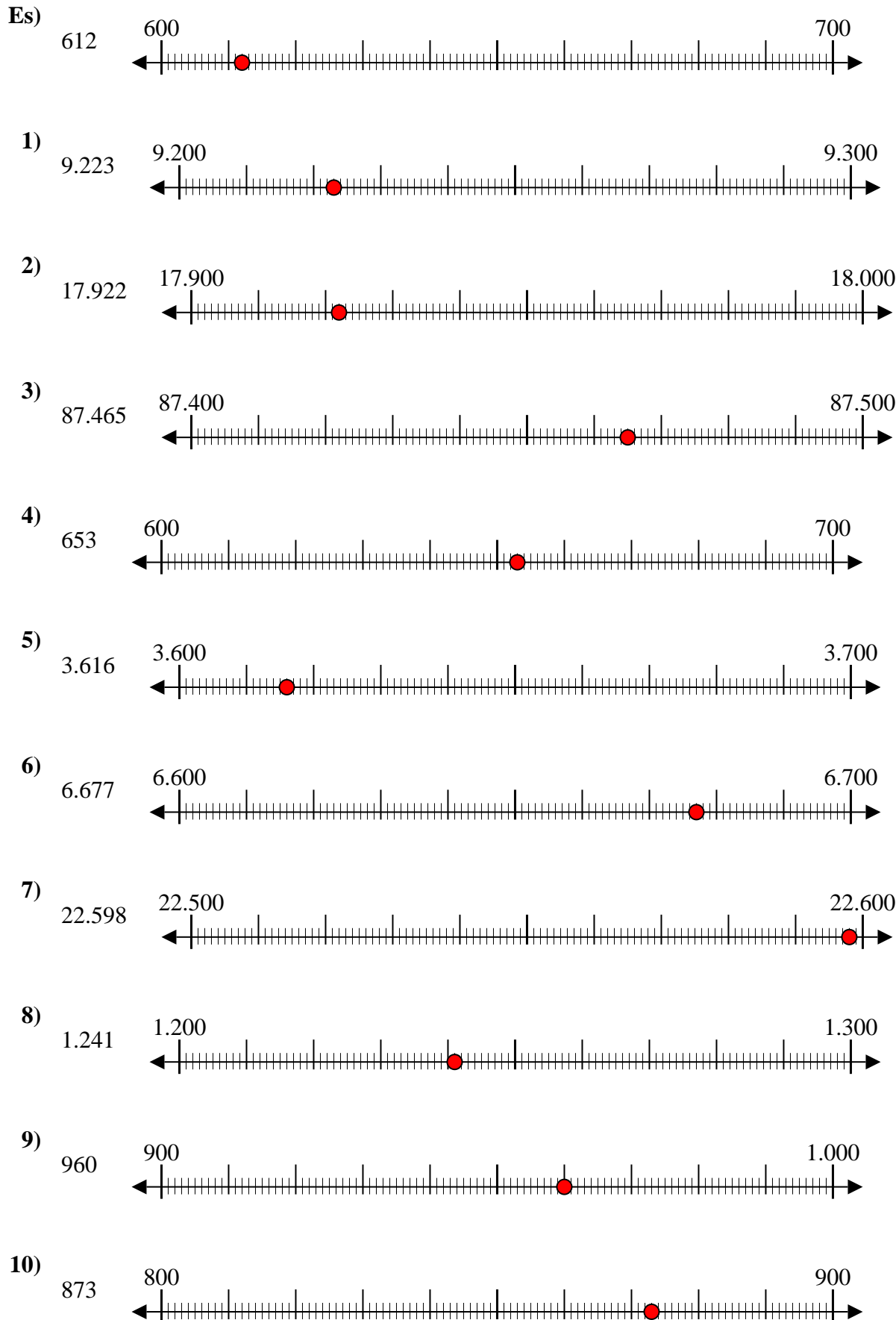


10. \_\_\_\_\_

**Risposte**



Usa la linea numerata per arrotondare ogni numero al centinaio più vicino.



**Risposte**

- Es. 600
- 1. 9.200
- 2. 17.900
- 3. 87.500
- 4. 700
- 5. 3.600
- 6. 6.700
- 7. 22.600
- 8. 1.200
- 9. 1.000
- 10. 900



Usa la linea numerata per arrotondare ogni numero al centinaio più vicino.

Es)

356



1)

1.360



2)

7.216



3)

51.669



4)

670



5)

171



6)

80.458



7)

9.425



8)

616



9)

88.299



10)

5.076



**Risposte**

Es. 400

1. \_\_\_\_\_

2. \_\_\_\_\_

3. \_\_\_\_\_

4. \_\_\_\_\_

5. \_\_\_\_\_

6. \_\_\_\_\_

7. \_\_\_\_\_

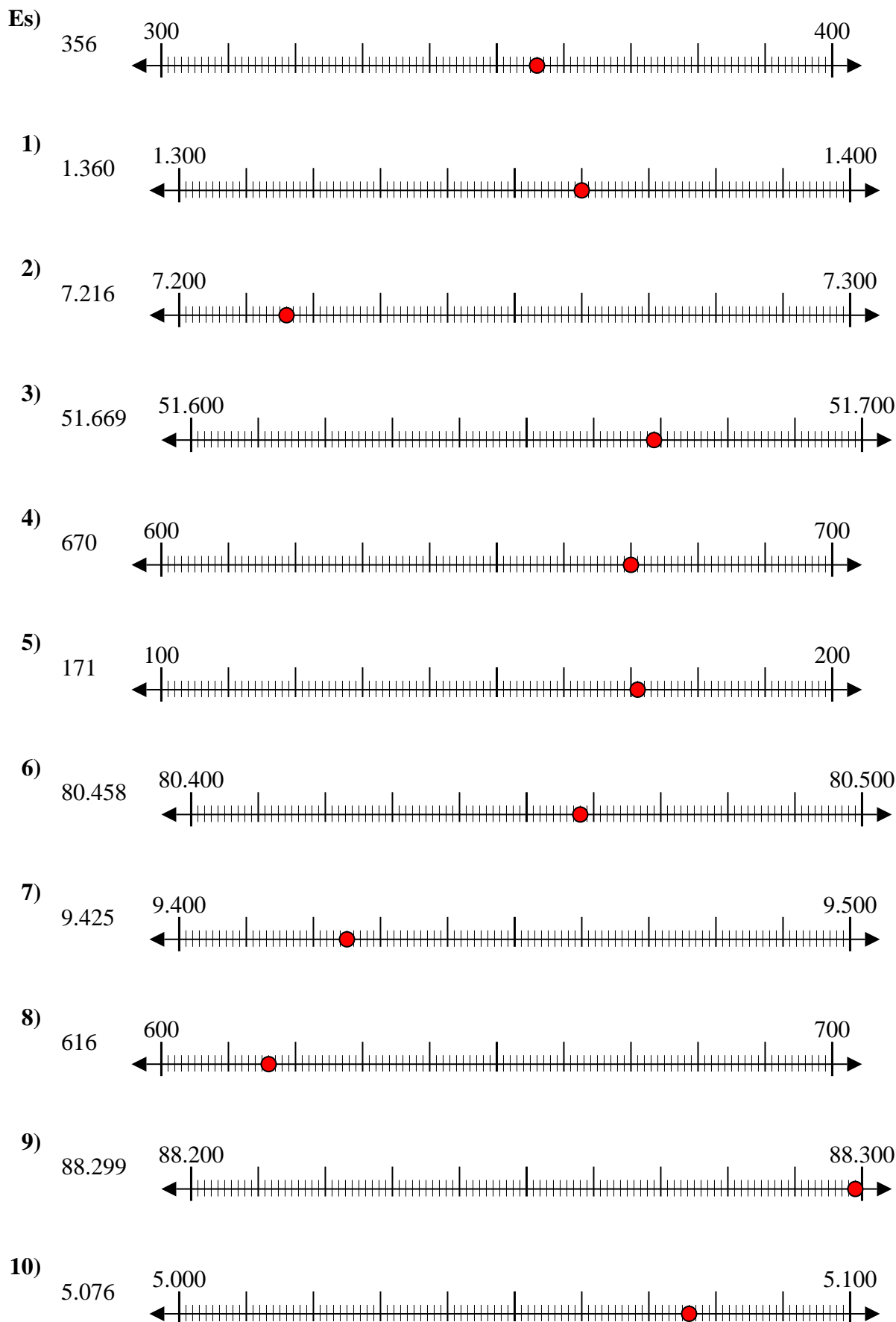
8. \_\_\_\_\_

9. \_\_\_\_\_

10. \_\_\_\_\_



Usa la linea numerata per arrotondare ogni numero al centinaio più vicino.



**Risposte**

- Es. 400
1. 1.400
2. 7.200
3. 51.700
4. 700
5. 200
6. 80.500
7. 9.400
8. 600
9. 88.300
10. 5.100



Usa la linea numerata per arrotondare ogni numero al centinaio più vicino.

**Risposte**

Es)

908



Es. 900

1)

257



1. \_\_\_\_\_

2)

8.566



2. \_\_\_\_\_

3)

18.478



3. \_\_\_\_\_

4)

84.766



4. \_\_\_\_\_

5)

991



5. \_\_\_\_\_

6)

76.319



6. \_\_\_\_\_

7)

759



7. \_\_\_\_\_

8)

4.490



8. \_\_\_\_\_

9)

70.699



9. \_\_\_\_\_

10)

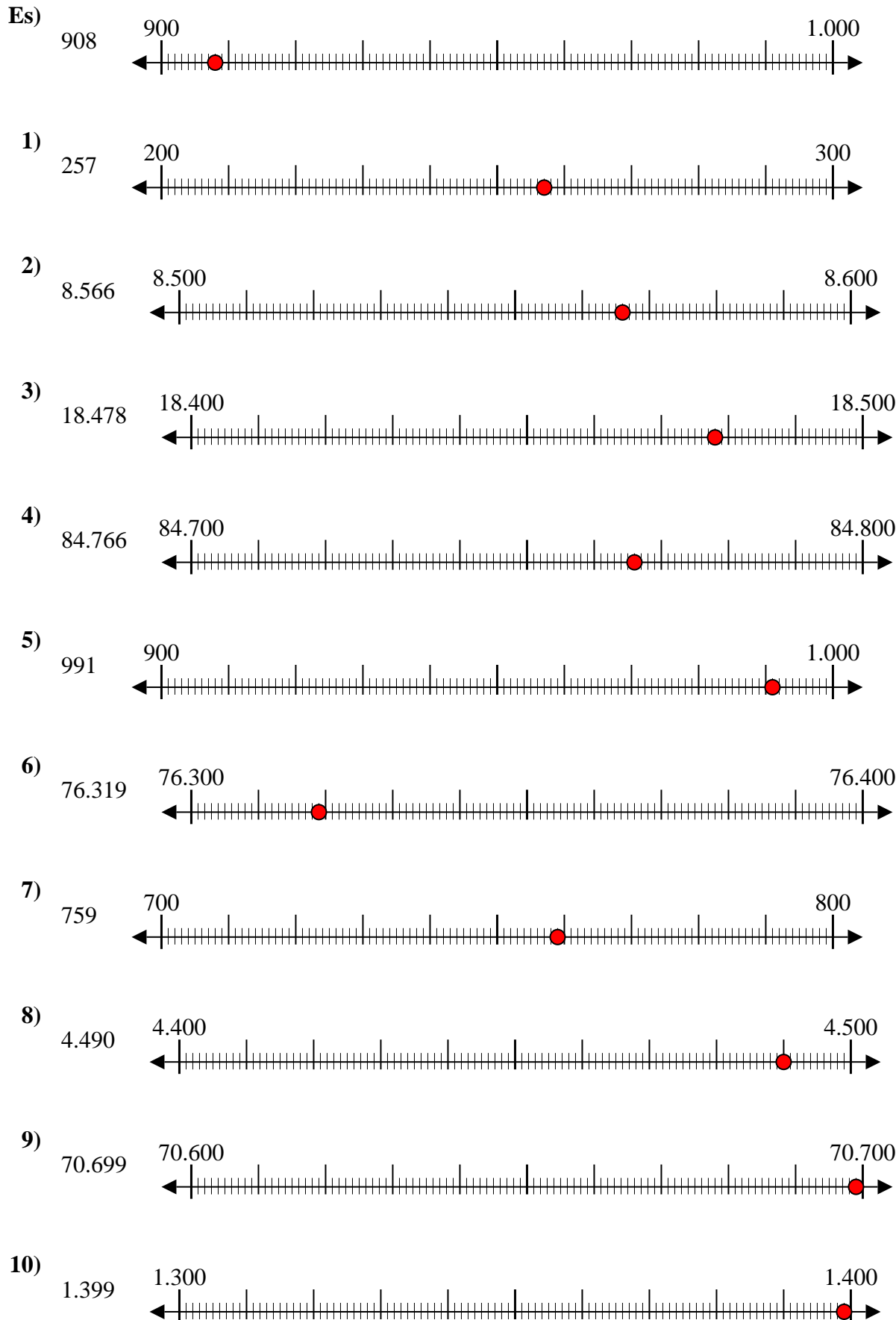
1.399



10. \_\_\_\_\_



Usa la linea numerata per arrotondare ogni numero al centinaio più vicino.



**Risposte**

- Es. 900
1. 300
2. 8.600
3. 18.500
4. 84.800
5. 1.000
6. 76.300
7. 800
8. 4.500
9. 70.700
10. 1.400



Usa la linea numerata per arrotondare ogni numero al centinaio più vicino.

Es)

4.410



Es. 4.400

1)

853



1. \_\_\_\_\_

2)

783



2. \_\_\_\_\_

3)

9.697



3. \_\_\_\_\_

4)

8.980



4. \_\_\_\_\_

5)

569



5. \_\_\_\_\_

6)

9.924



6. \_\_\_\_\_

7)

99.310



7. \_\_\_\_\_

8)

90.005



8. \_\_\_\_\_

9)

17.192



9. \_\_\_\_\_

10)

60.453

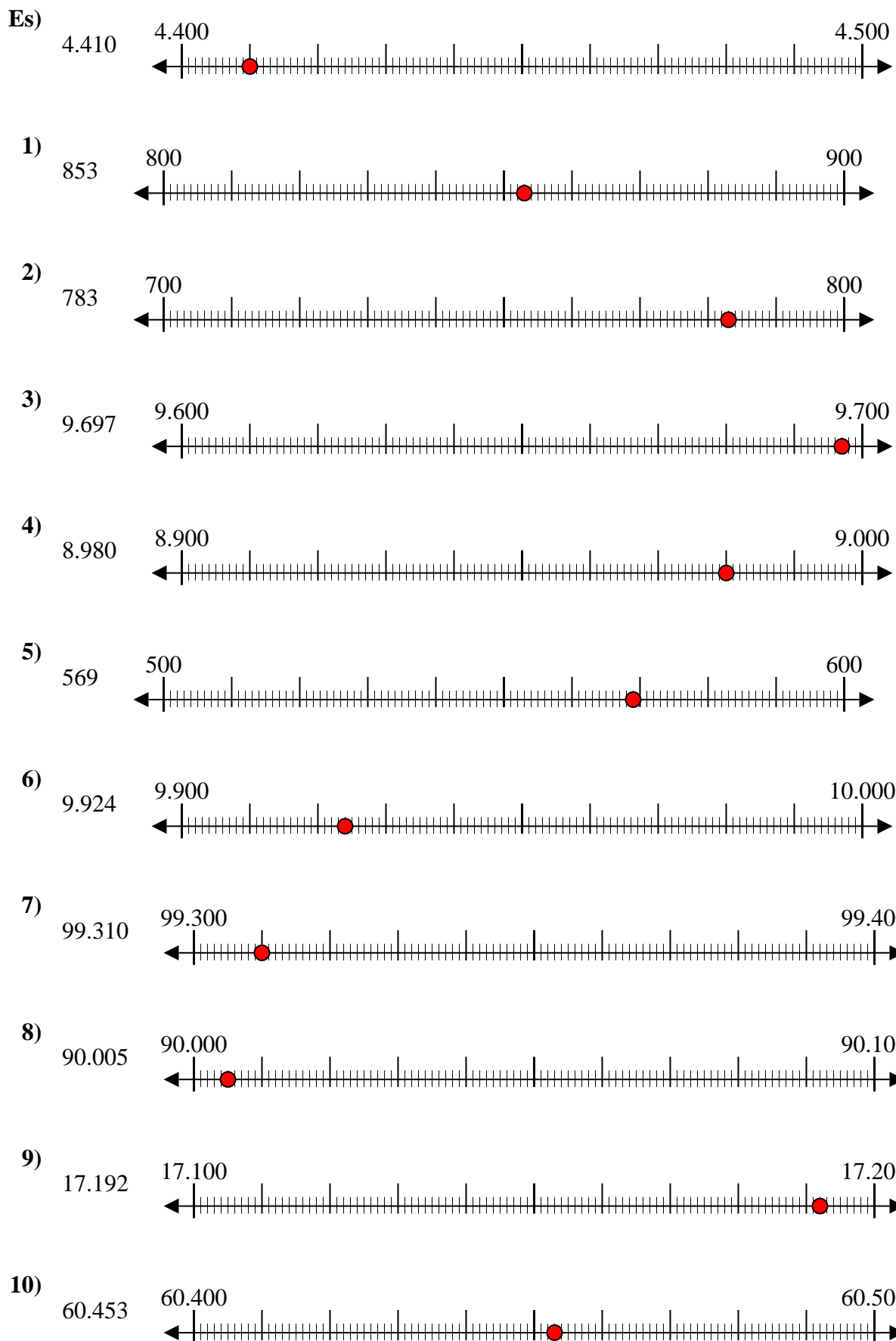


10. \_\_\_\_\_

**Risposte**



Usa la linea numerata per arrotondare ogni numero al centinaio più vicino.



**Risposte**

- Es. 4.400
- 1. 900
- 2. 800
- 3. 9.700
- 4. 9.000
- 5. 600
- 6. 9.900
- 7. 99.300
- 8. 90.000
- 9. 17.200
- 10. 60.500





Usa la linea numerata per arrotondare ogni numero al centinaio più vicino.

Es)

1.224



Es. **1.200**

1)

9.937



1. \_\_\_\_\_

2)

81.895



2. \_\_\_\_\_

3)

791



3. \_\_\_\_\_

4)

3.821



4. \_\_\_\_\_

5)

216



5. \_\_\_\_\_

6)

45.078



6. \_\_\_\_\_

7)

21.436



7. \_\_\_\_\_

8)

85.063



8. \_\_\_\_\_

9)

232



9. \_\_\_\_\_

10)

608

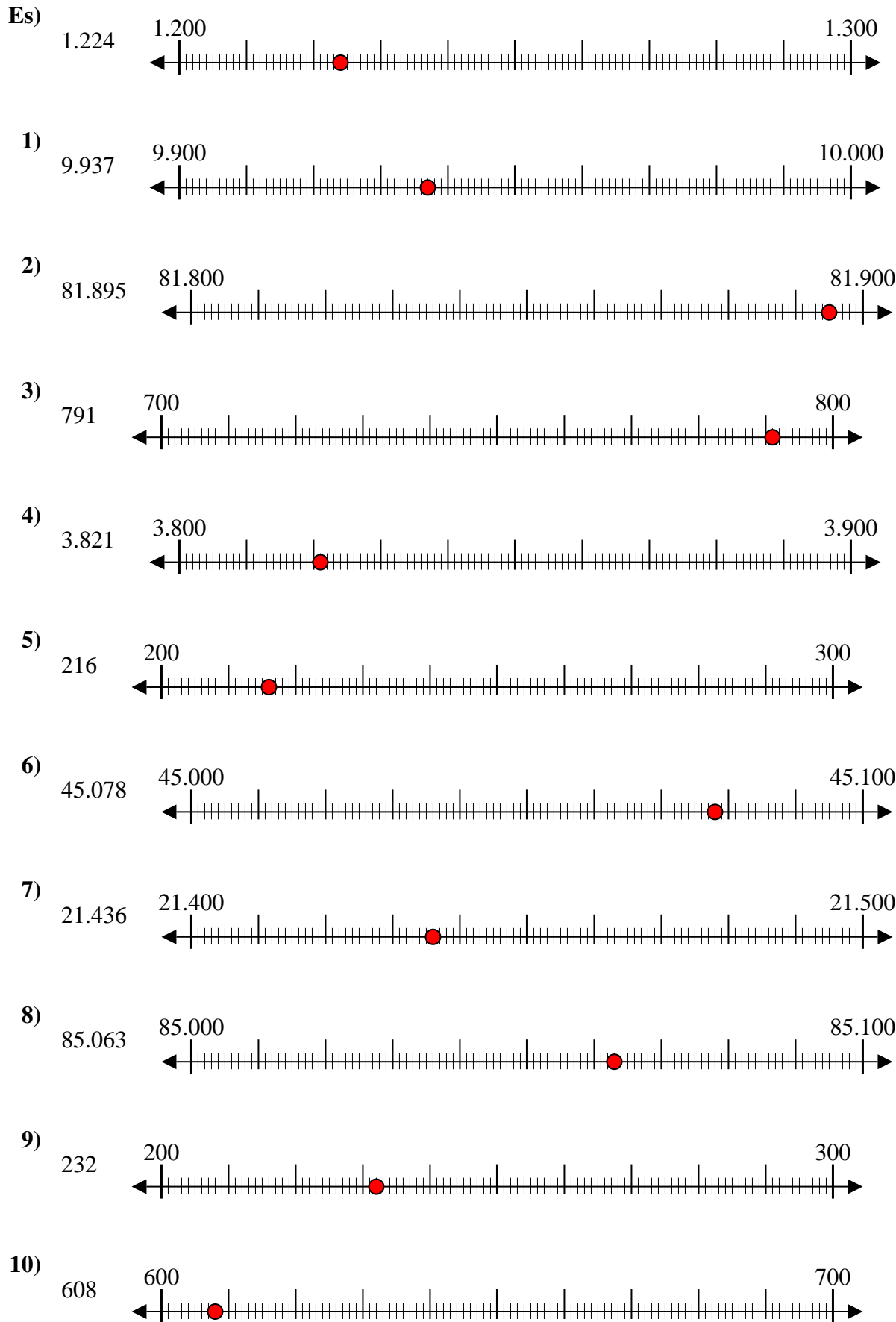


10. \_\_\_\_\_

**Risposte**



Usa la linea numerata per arrotondare ogni numero al centinaio più vicino.



**Risposte**

- Es. 1.200
- 1. 9.900
- 2. 81.900
- 3. 800
- 4. 3.800
- 5. 200
- 6. 45.100
- 7. 21.400
- 8. 85.100
- 9. 200
- 10. 600



Usa la linea numerata per arrotondare ogni numero al centinaio più vicino.

Es)

25.932



1)

28.551



2)

854



3)

831



4)

274



5)

12.793



6)

5.558



7)

5.688



8)

134



9)

9.335



10)

36.045



**Risposte**

Es. 25.900

1. \_\_\_\_\_

2. \_\_\_\_\_

3. \_\_\_\_\_

4. \_\_\_\_\_

5. \_\_\_\_\_

6. \_\_\_\_\_

7. \_\_\_\_\_

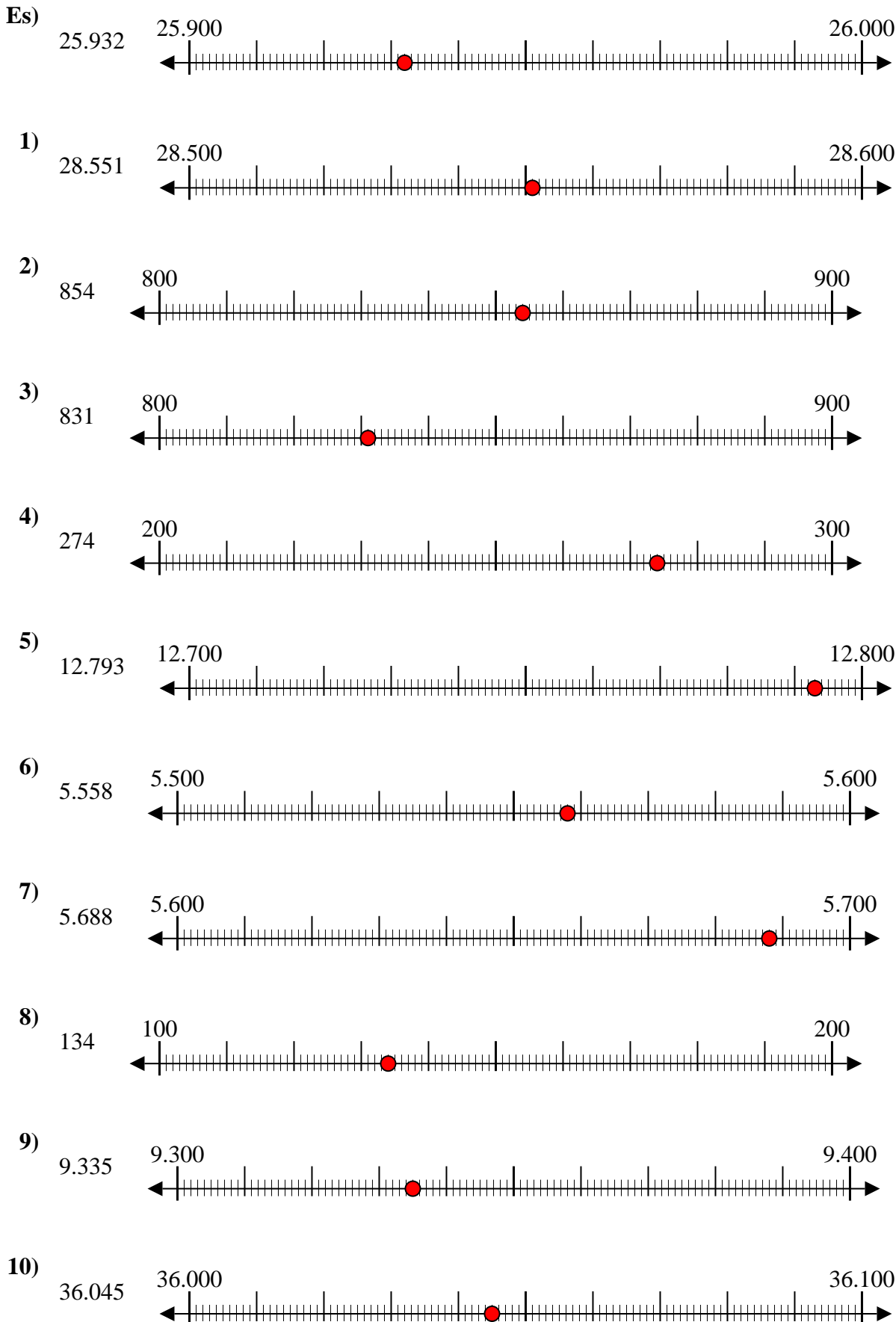
8. \_\_\_\_\_

9. \_\_\_\_\_

10. \_\_\_\_\_



Usa la linea numerata per arrotondare ogni numero al centinaio più vicino.



**Risposte**

- Es. 25.900
- 1. 28.600
- 2. 900
- 3. 800
- 4. 300
- 5. 12.800
- 6. 5.600
- 7. 5.700
- 8. 100
- 9. 9.300
- 10. 36.000



Usa la linea numerata per arrotondare ogni numero al centinaio più vicino.

Es)

803



Es. 800

1)

589



1. \_\_\_\_\_

2)

35.102



2. \_\_\_\_\_

3)

6.126



3. \_\_\_\_\_

4)

5.531



4. \_\_\_\_\_

5)

5.313



5. \_\_\_\_\_

6)

951



6. \_\_\_\_\_

7)

8.816



7. \_\_\_\_\_

8)

152



8. \_\_\_\_\_

9)

62.481



9. \_\_\_\_\_

10)

59.409

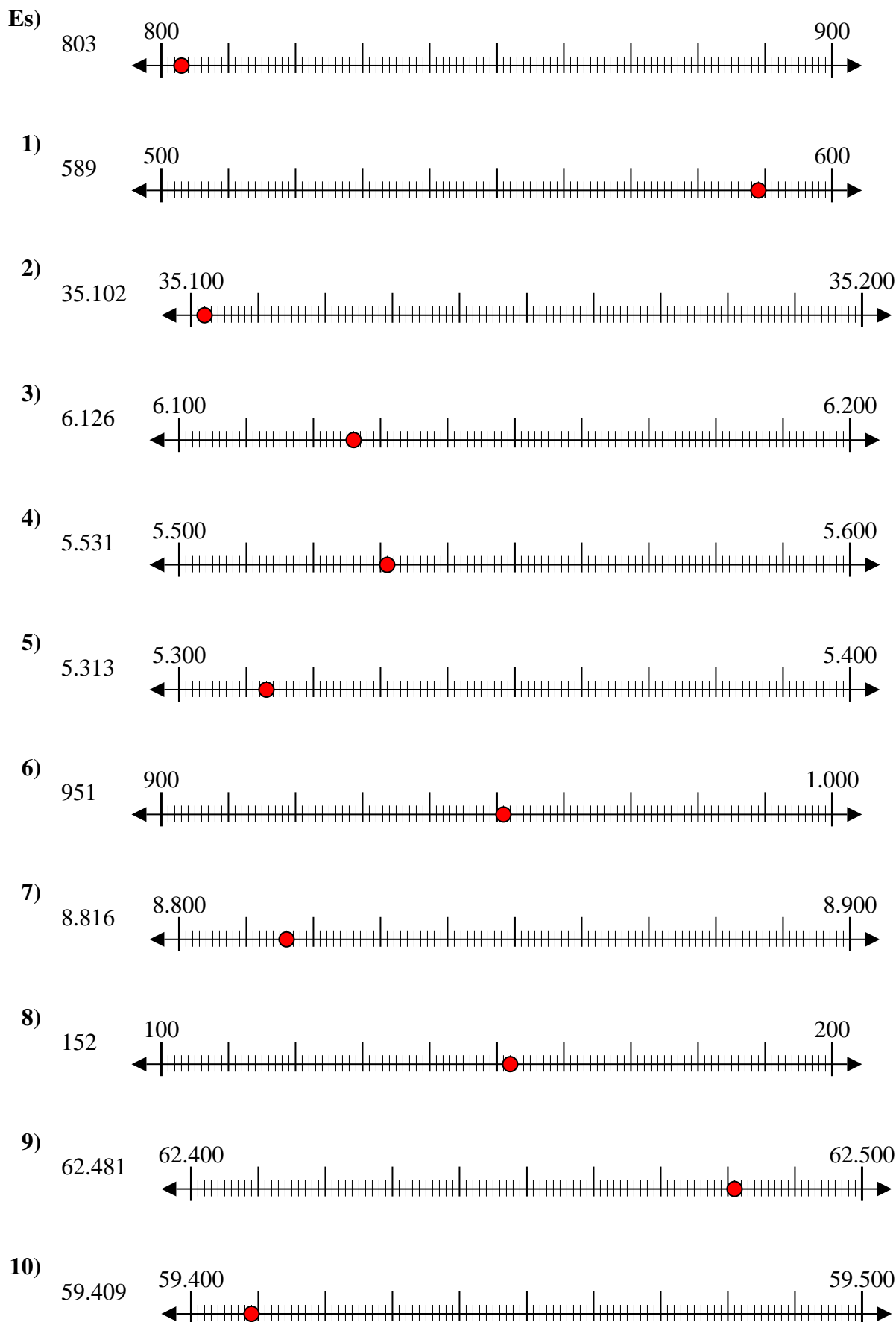


10. \_\_\_\_\_

**Risposte**



Usa la linea numerata per arrotondare ogni numero al centinaio più vicino.

**Risposte**

- Es. 800
1. 600
2. 35.100
3. 6.100
4. 5.500
5. 5.300
6. 1.000
7. 8.800
8. 200
9. 62.500
10. 59.400



Usa la linea numerata per arrotondare ogni numero al centinaio più vicino.

Es)

842



Es. 800

1)

777



1. \_\_\_\_\_

2)

395



2. \_\_\_\_\_

3)

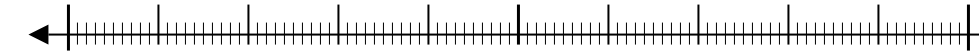
856



3. \_\_\_\_\_

4)

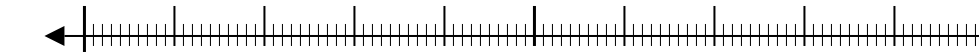
7.693



4. \_\_\_\_\_

5)

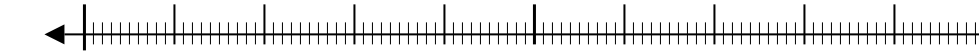
22.440



5. \_\_\_\_\_

6)

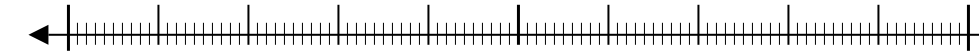
52.709



6. \_\_\_\_\_

7)

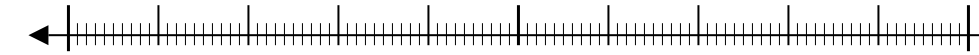
5.550



7. \_\_\_\_\_

8)

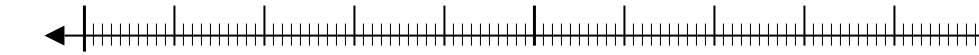
6.348



8. \_\_\_\_\_

9)

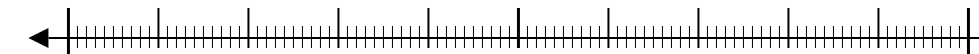
76.807



9. \_\_\_\_\_

10)

1.323

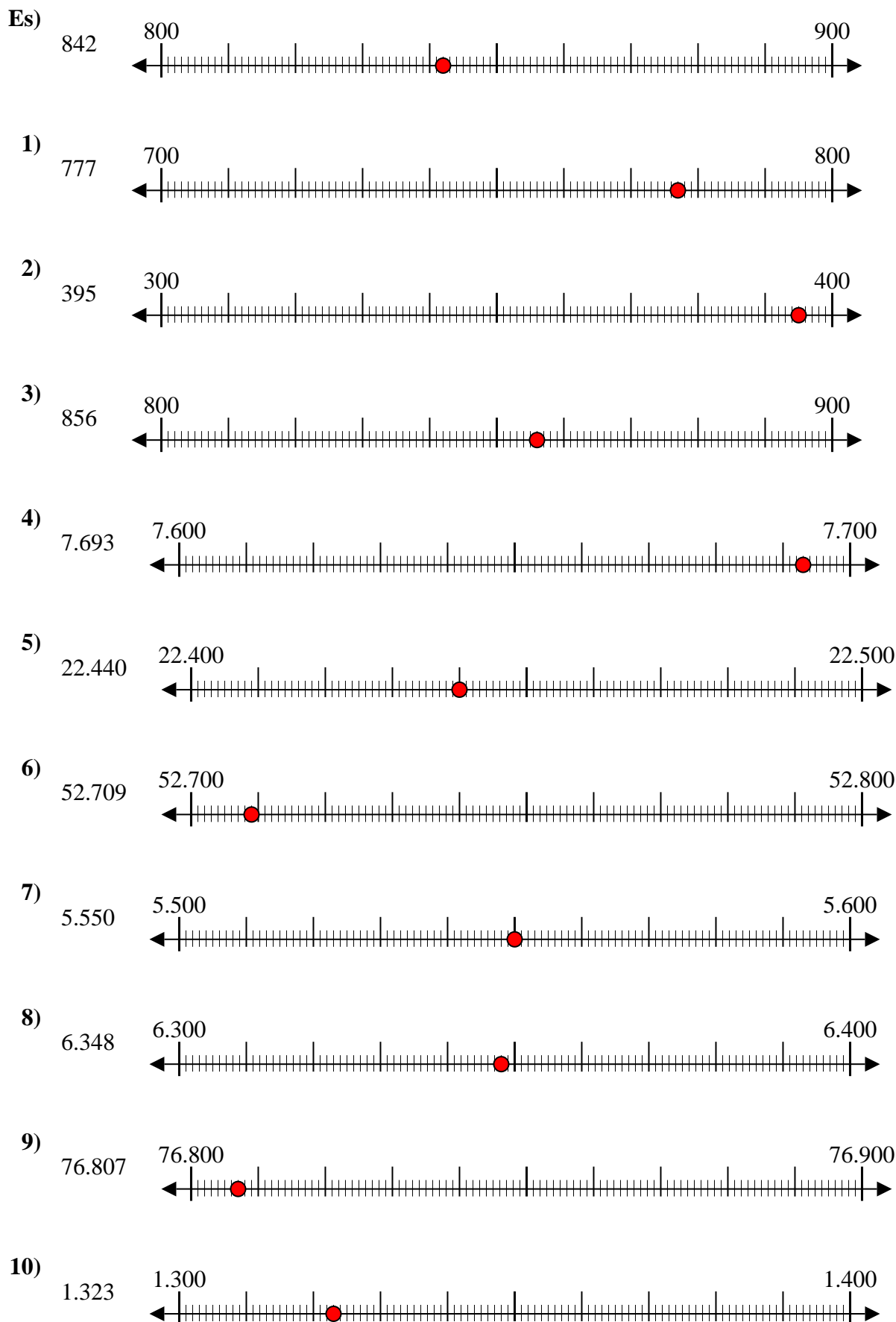


10. \_\_\_\_\_

**Risposte**



Usa la linea numerata per arrotondare ogni numero al centinaio più vicino.

**Risposte**

- Es. 800
1. 800
2. 400
3. 900
4. 7.700
5. 22.400
6. 52.700
7. 5.600
8. 6.300
9. 76.800
10. 1.300





Usa la linea numerata per arrotondare ogni numero al centinaio più vicino.

Es)

22.128



Es. 22.100

1)

7.798



1. \_\_\_\_\_

2)

73.791



2. \_\_\_\_\_

3)

48.807



3. \_\_\_\_\_

4)

1.381



4. \_\_\_\_\_

5)

746



5. \_\_\_\_\_

6)

140



6. \_\_\_\_\_

7)

904



7. \_\_\_\_\_

8)

93.445



8. \_\_\_\_\_

9)

4.176



9. \_\_\_\_\_

10)

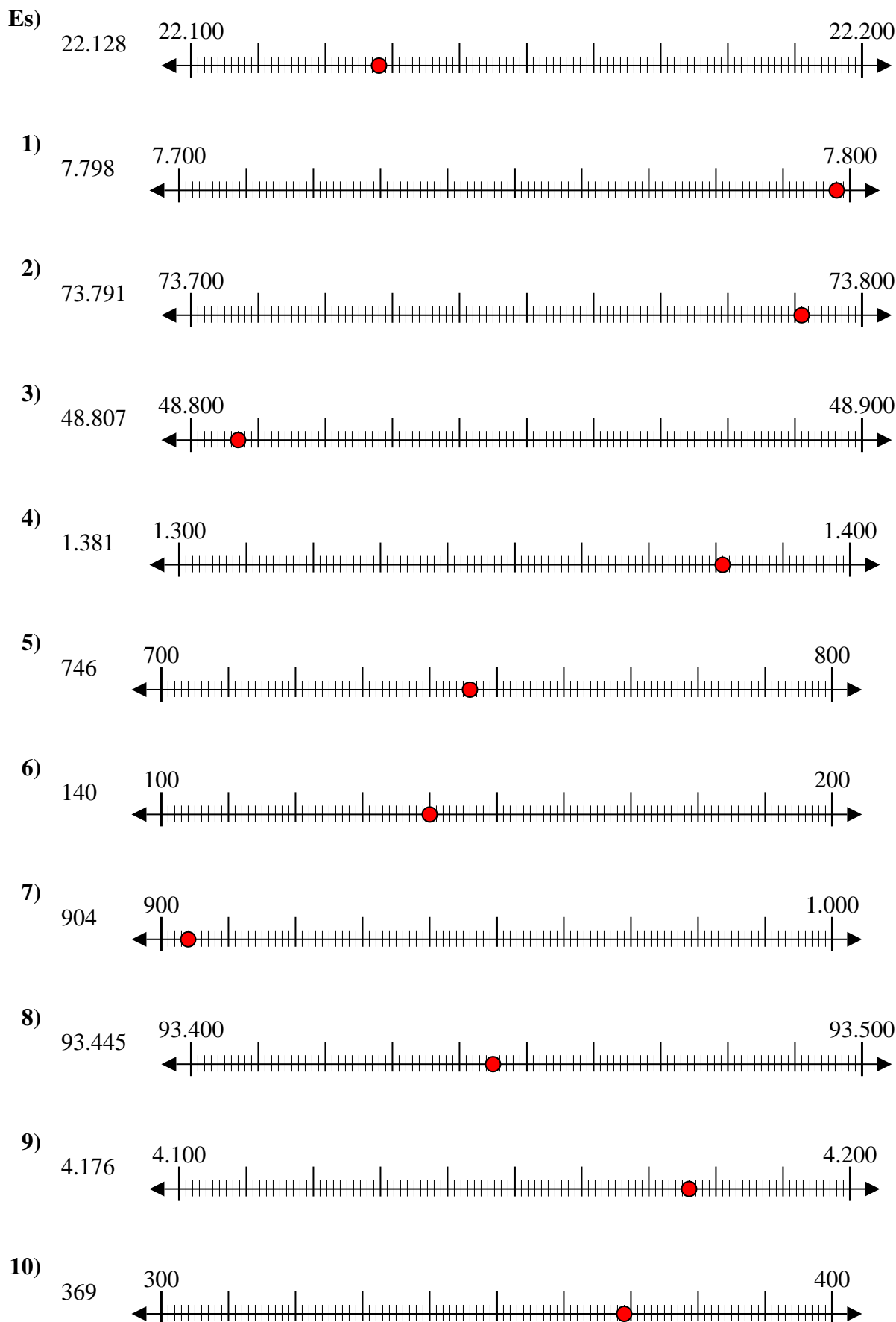
369



10. \_\_\_\_\_



Usa la linea numerata per arrotondare ogni numero al centinaio più vicino.



**Risposte**

- Es. 22.100
1. 7.800
2. 73.800
3. 48.800
4. 1.400
5. 700
6. 100
7. 900
8. 93.400
9. 4.200
10. 400



Usa la linea numerata per arrotondare ogni numero al centinaio più vicino.

Es)

4.028



Es. **4.000**

1)

905



1. \_\_\_\_\_

2)

4.915



2. \_\_\_\_\_

3)

984



3. \_\_\_\_\_

4)

6.410



4. \_\_\_\_\_

5)

43.902



5. \_\_\_\_\_

6)

20.088



6. \_\_\_\_\_

7)

59.370



7. \_\_\_\_\_

8)

815



8. \_\_\_\_\_

9)

38.901



9. \_\_\_\_\_

10)

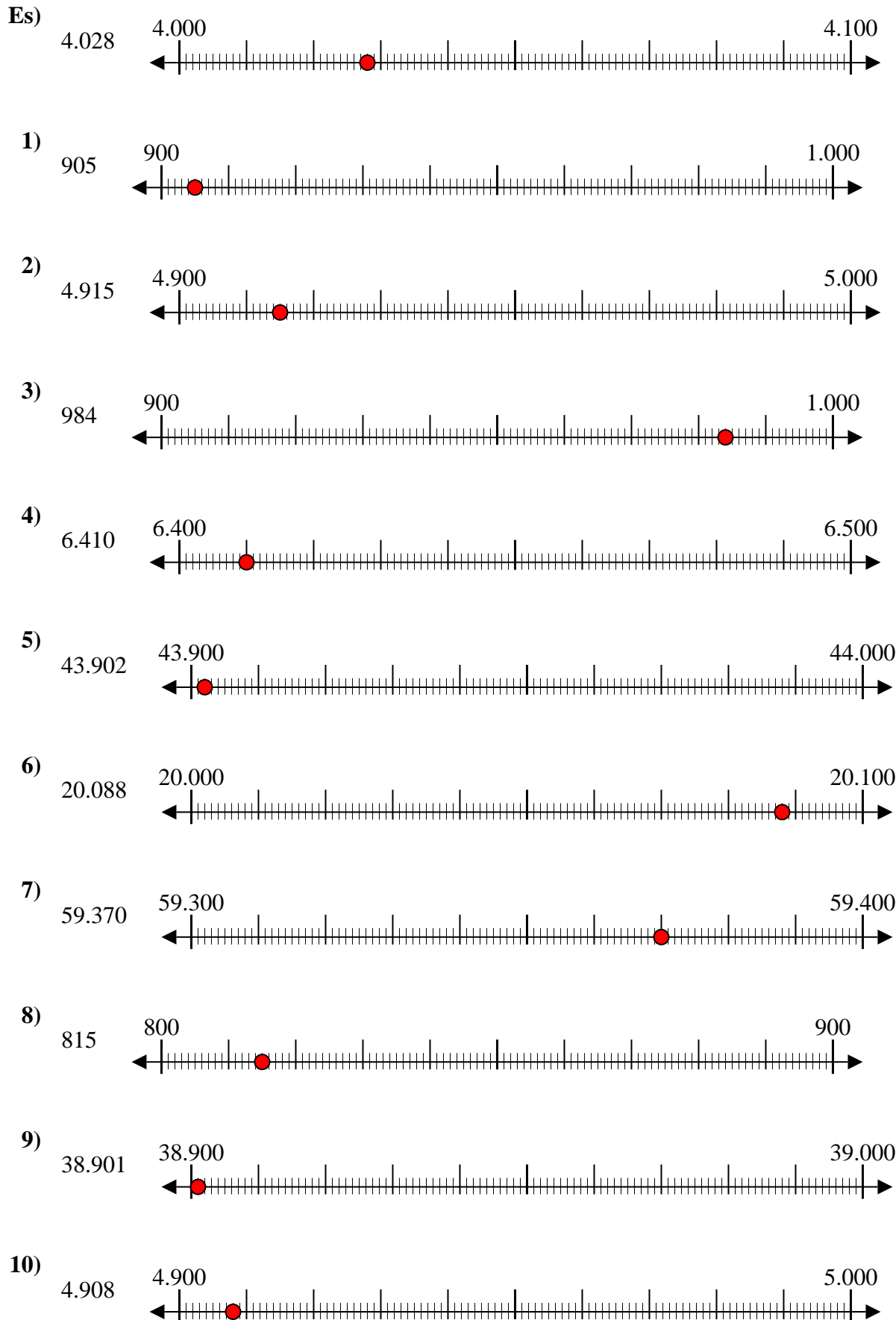
4.908



10. \_\_\_\_\_



Usa la linea numerata per arrotondare ogni numero al centinaio più vicino.



**Risposte**

- Es. 4.000
1. 900
2. 4.900
3. 1.000
4. 6.400
5. 43.900
6. 20.100
7. 59.400
8. 800
9. 38.900
10. 4.900