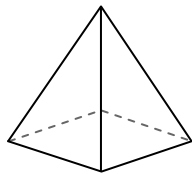




Usa il diagramma per identificare le facce, i vertici e le superfici delle forme

Risposte


1)



piramide rettangolare

facce: _____
vertici: _____
spigoli: _____

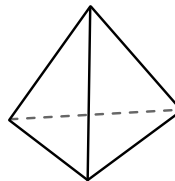
2)



sfera

facce: _____
vertici: _____
spigoli: _____

3)

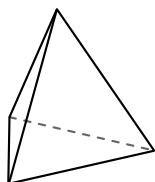


piramide triangolare

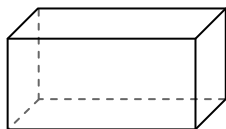
facce: _____
vertici: _____
spigoli: _____

1. _____
2. _____
3. _____
4. _____
5. _____
6. _____

4)



piramide triangolare

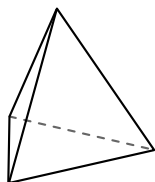


prisma rettangolare

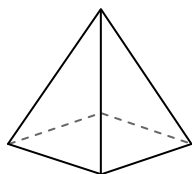
Quale forma ha più facce?

- A.piramide triangolare
- B.prisma rettangolare
- C.Entrambi hanno lo stesso numero di facce.

5)



piramide triangolare

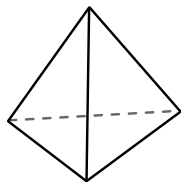


piramide rettangolare

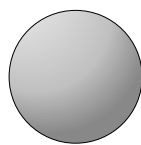
Quale forma ha più vertici?

- A.piramide triangolare
- B.piramide rettangolare
- C.Entrambi hanno lo stesso numero di vertici.

6)



piramide triangolare



sfera

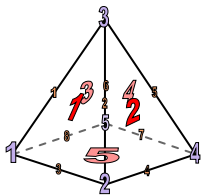
Quale forma ha più spigoli?

- A.piramide triangolare
- B.sfera
- C.Entrambi hanno lo stesso numero di spigoli.



Usa il diagramma per identificare le facce, i vertici e le superfici delle forme


1)



piramide rettangolare

facce: 5
 vertici: 5
 spigoli: 8

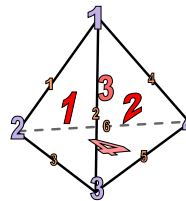
2)



sfera

facce: 1
 vertici: 0
 spigoli: 0

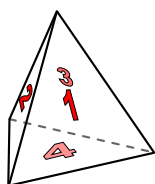
3)



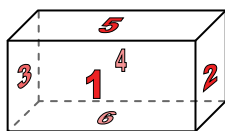
piramide triangolare

facce: 4
 vertici: 4
 spigoli: 6

4)



piramide triangolare

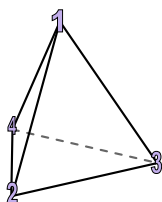


prisma rettangolare

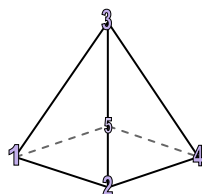
Quale forma ha più facce?

- A.piramide triangolare
- B.prisma rettangolare
- C.Entrambi hanno lo stesso numero di facce.

5)



piramide triangolare

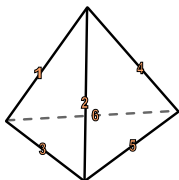


piramide rettangolare


Quale forma ha più vertici?

- A.piramide triangolare
- B.piramide rettangolare
- C.Entrambi hanno lo stesso numero di vertici.

6)



piramide triangolare



sfera

Quale forma ha più spigoli?

- A.piramide triangolare
- B.sfera
- C.Entrambi hanno lo stesso numero di spigoli.

Risposte

- 1. 5, 5, 8
- 2. 1, 0, 0
- 3. 4, 4, 6
- 4. B
- 5. B
- 6. A