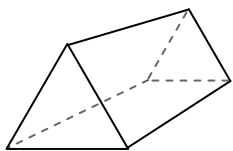




Usa il diagramma per identificare le facce, i vertici e le superfici delle forme

Risposte

1)



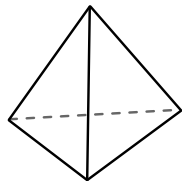
prisma triangolare

facce: _____

vertici: _____

spigoli: _____

2)



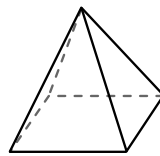
piramide triangolare

facce: _____

vertici: _____

spigoli: _____

3)



piramide rettangolare

facce: _____

vertici: _____

spigoli: _____

1. _____

2. _____


3. _____

4. _____

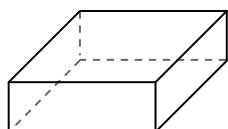
5. _____

6. _____

4)



sfera



prisma rettangolare

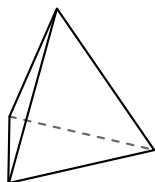
Quale forma ha più facce?

A.sfera

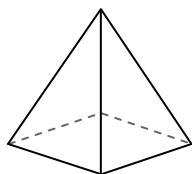
B.prisma rettangolare

C.Entrambi hanno lo stesso numero di facce.

5)



piramide triangolare



piramide rettangolare

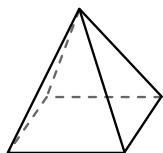
Quale forma ha più vertici?

A.piramide triangolare

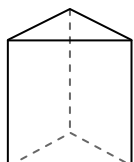
B.piramide rettangolare

C.Entrambi hanno lo stesso numero di vertici.

6)



piramide rettangolare



prisma triangolare

Quale forma ha più spigoli?

A.piramide rettangolare

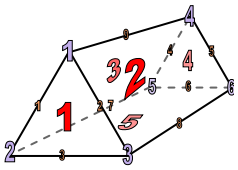
B.prisma triangolare

C.Entrambi hanno lo stesso numero di spigoli.



Usa il diagramma per identificare le facce, i vertici e le superfici delle forme

1)



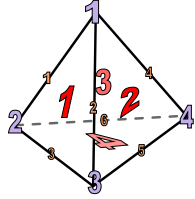
prisma triangolare

facce: 5

vertici: 6

spigoli: 9

2)



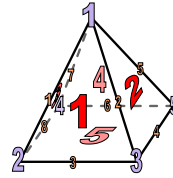
piramide triangolare

facce: 4

vertici: 4

spigoli: 6

3)




piramide rettangolare

facce: 5

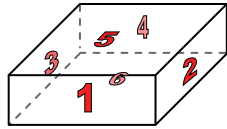
vertici: 5

spigoli: 8

4)



sfera



prisma rettangolare

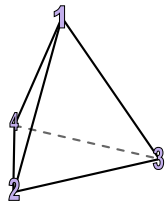
Quale forma ha più facce?

A.sfera

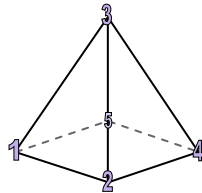
B.prisma rettangolare

C.Entrambi hanno lo stesso numero di facce.

5)



piramide triangolare



piramide rettangolare

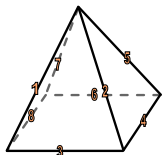
Quale forma ha più vertici?

A.piramide triangolare

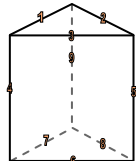
B.piramide rettangolare

C.Entrambi hanno lo stesso numero di vertici.

6)



piramide rettangolare



prisma triangolare

Quale forma ha più spigoli?

A.piramide rettangolare

B.prisma triangolare

C.Entrambi hanno lo stesso numero di spigoli.

Risposte

1. 5, 6, 9

2. 4, 4, 6

3. 5, 5, 8

4. B

5. B

6. B