




Usa il diagramma per identificare le facce, i vertici e le superfici delle forme

Risposte

1)



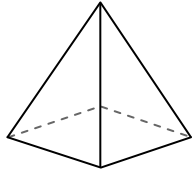
sfera

facce: _____

vertici: _____

spigoli: _____

2)



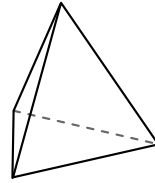
piramide rettangolare

facce: _____

vertici: _____

spigoli: _____

3)



piramide triangolare

facce: _____

vertici: _____

spigoli: _____

1. _____

2. _____

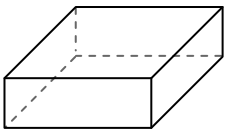
3. _____

4. _____


5. _____

6. _____

4)



prisma rettangolare



sfera

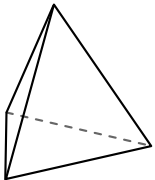
Quale forma ha più facce?

A. prisma rettangolare

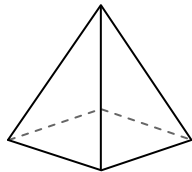
B. sfera

C. Entrambi hanno lo stesso numero di facce.

5)



piramide triangolare



piramide rettangolare

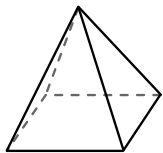
Quale forma ha più vertici?

A. piramide triangolare

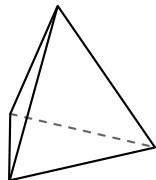
B. piramide rettangolare

C. Entrambi hanno lo stesso numero di vertici.

6)



piramide rettangolare



piramide triangolare

Quale forma ha più spigoli?

A. piramide rettangolare


B. piramide triangolare

C. Entrambi hanno lo stesso numero di spigoli.



Usa il diagramma per identificare le facce, i vertici e le superfici delle forme

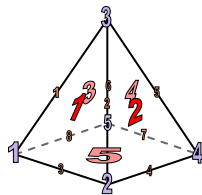
1)



sfera

facce: 1
 vertici: 0
 spigoli: 0

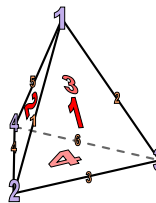
2)



piramide rettangolare

facce: 5
 vertici: 5
 spigoli: 8

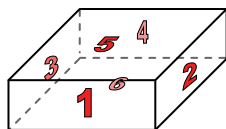
3)



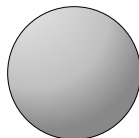
piramide triangolare

facce: 4
 vertici: 4
 spigoli: 6

4)



prisma rettangolare

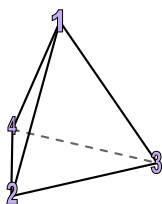


sfera

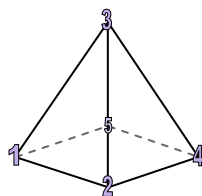
Quale forma ha più facce?

- A. prisma rettangolare
- B. sfera
- C. Entrambi hanno lo stesso numero di facce.

5)



piramide triangolare

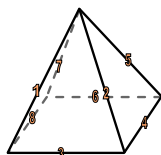


piramide rettangolare

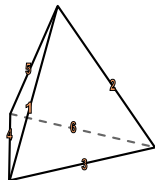
Quale forma ha più vertici?

- A. piramide triangolare
- B. piramide rettangolare
- C. Entrambi hanno lo stesso numero di vertici.

6)



piramide rettangolare



piramide triangolare

Quale forma ha più spigoli?

- A. piramide rettangolare
- B. piramide triangolare
- C. Entrambi hanno lo stesso numero di spigoli.

Risposte

1. 1, 0, 0

2. 5, 5, 8

3. 4, 4, 6

4. A

5. B

6. A