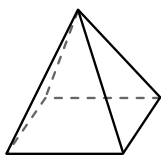




Usa il diagramma per identificare le facce, i vertici e le superfici delle forme

Risposte

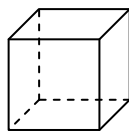
1)



piramide rettangolare

facce: _____
 vertici: _____
 spigoli: _____

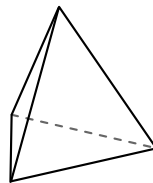
2)



cube

facce: _____
 vertici: _____
 spigoli: _____

3)



piramide triangolare

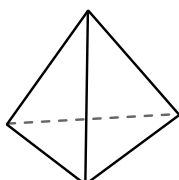
facce: _____
 vertici: _____
 spigoli: _____

1. _____
2. _____
3. _____
4. _____
5. _____
6. _____

4)



piramide rettangolare

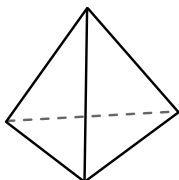


piramide triangolare

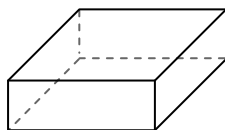
Quale forma ha più facce?

- A.piramide rettangolare
- B.piramide triangolare
- C.Entrambi hanno lo stesso numero di facce.

5)



piramide triangolare

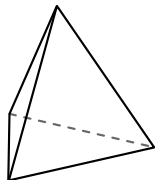


prisma rettangolare


Quale forma ha più vertici?

- A.piramide triangolare
- B.prisma rettangolare
- C.Entrambi hanno lo stesso numero di vertici.

6)



piramide triangolare



sfera

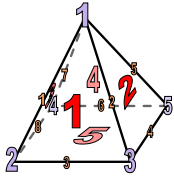
Quale forma ha più spigoli?

- A.piramide triangolare
- B.sfera
- C.Entrambi hanno lo stesso numero di spigoli.



Usa il diagramma per identificare le facce, i vertici e le superfici delle forme

1)



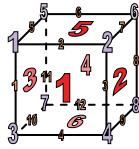
piramide rettangolare

facce: 5

vertici: 5

spigoli: 8

2)



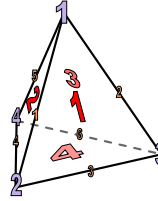
cube

facce: 6

vertici: 8

spigoli: 12

3)



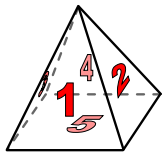
piramide triangolare

facce: 4

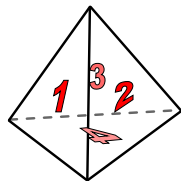
vertici: 4

spigoli: 6

4)



piramide rettangolare



piramide triangolare

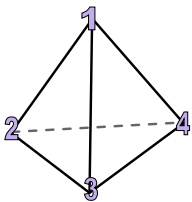
Quale forma ha più facce?

A.piramide rettangolare

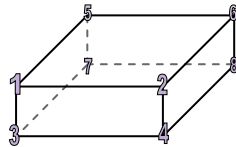
B.piramide triangolare

C.Entrambi hanno lo stesso numero di facce.

5)



piramide triangolare



prisma rettangolare

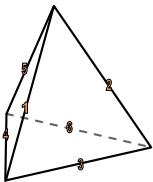
Quale forma ha più vertici?

A.piramide triangolare

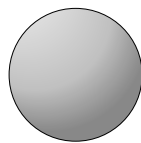
B.prisma rettangolare

C.Entrambi hanno lo stesso numero di vertici.

6)



piramide triangolare



sfera

Quale forma ha più spigoli?

A.piramide triangolare

B.sfera

C.Entrambi hanno lo stesso numero di spigoli.

Risposte

1. 5, 5, 8

2. 6, 8, 12

3. 4, 4, 6

4. A

5. B

6. A