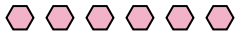




Usa il modello grafico per risolvere ogni problema.

Risposte


1) Ci sono 6 esagoni qui sotto.



Togliendo 1, quante ne rimangono?

$6 - 1 = ?$

2) Ci sono 9 quadrati qui sotto.



Togliendo 7, quante ne rimangono?

$9 - 7 = ?$

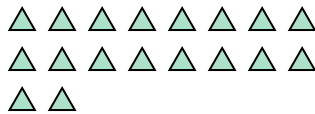
3) Ci sono 2 cerchi qui sotto.



Togliendo 1, quante ne rimangono?

$2 - 1 = ?$

4) Ci sono 18 triangoli qui sotto.



Togliendo 5, quante ne rimangono?

$18 - 5 = ?$

5) Ci sono 5 rettangoli qui sotto.



Togliendo 4, quante ne rimangono?

$5 - 4 = ?$

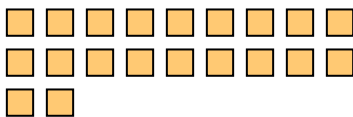
6) Ci sono 3 stelle qui sotto.



Togliendo 1, quante ne rimangono?

$3 - 1 = ?$

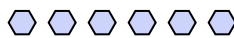
7) Ci sono 20 quadrati qui sotto.



Togliendo 16, quante ne rimangono?

$20 - 16 = ?$

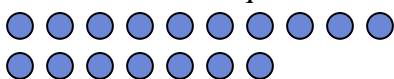
8) Ci sono 6 esagoni qui sotto.



Togliendo 4, quante ne rimangono?

$6 - 4 = ?$

9) Ci sono 17 cerchi qui sotto.



Togliendo 10, quante ne rimangono?

$17 - 10 = ?$

10) Ci sono 7 rettangoli qui sotto.



Togliendo 6, quante ne rimangono?

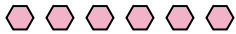
$7 - 6 = ?$

1. _____
2. _____
3. _____
4. _____
5. _____
6. _____
7. _____
8. _____
9. _____
10. _____



Usa il modello grafico per risolvere ogni problema.


1) Ci sono 6 esagoni qui sotto.



Togliendo 1, quante ne rimangono?

$6 - 1 = ?$

2) Ci sono 9 quadrati qui sotto.



Togliendo 7, quante ne rimangono?

$9 - 7 = ?$

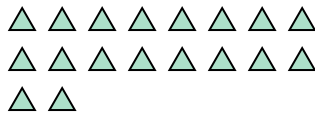
3) Ci sono 2 cerchi qui sotto.



Togliendo 1, quante ne rimangono?

$2 - 1 = ?$

4) Ci sono 18 triangoli qui sotto.



Togliendo 5, quante ne rimangono?

$18 - 5 = ?$

5) Ci sono 5 rettangoli qui sotto.



Togliendo 4, quante ne rimangono?

$5 - 4 = ?$


6) Ci sono 3 stelle qui sotto.



Togliendo 1, quante ne rimangono?

$3 - 1 = ?$

7) Ci sono 20 quadrati qui sotto.



Togliendo 16, quante ne rimangono?

$20 - 16 = ?$

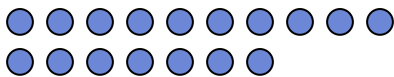
8) Ci sono 6 esagoni qui sotto.



Togliendo 4, quante ne rimangono?

$6 - 4 = ?$

9) Ci sono 17 cerchi qui sotto.



Togliendo 10, quante ne rimangono?

$17 - 10 = ?$

10) Ci sono 7 rettangoli qui sotto.



Togliendo 6, quante ne rimangono?

$7 - 6 = ?$

Risposte

1. 5

2. 2

3. 1

4. 13

5. 1

6. 2

7. 4

8. 2

9. 7

10. 1