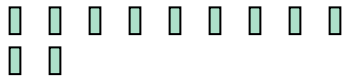




Usa il modello grafico per risolvere ogni problema.

Risposte

1) Ci sono 11 rettangoli qui sotto.



Togliendo 2, quante ne rimangono?

$11 - 2 = ?$

2) Ci sono 12 quadrati qui sotto.



Togliendo 8, quante ne rimangono?

$12 - 8 = ?$

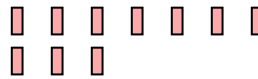
3) Ci sono 11 stelle qui sotto.



Togliendo 10, quante ne rimangono?

$11 - 10 = ?$

4) Ci sono 10 rettangoli qui sotto.



Togliendo 3, quante ne rimangono?

$10 - 3 = ?$

5) Ci sono 15 stelle qui sotto.



Togliendo 2, quante ne rimangono?

$15 - 2 = ?$

6) Ci sono 12 triangoli qui sotto.



Togliendo 7, quante ne rimangono?

$12 - 7 = ?$

7) Ci sono 3 quadrati qui sotto.



Togliendo 2, quante ne rimangono?

$3 - 2 = ?$

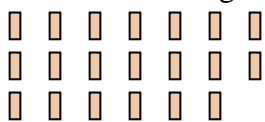
8) Ci sono 11 quadrati qui sotto.



Togliendo 1, quante ne rimangono?

$11 - 1 = ?$

9) Ci sono 20 rettangoli qui sotto.



Togliendo 9, quante ne rimangono?

$20 - 9 = ?$

10) Ci sono 11 rettangoli qui sotto.



Togliendo 9, quante ne rimangono?

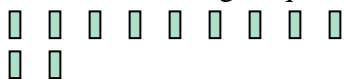
$11 - 9 = ?$

1. _____
2. _____
3. _____
4. _____
5. _____
6. _____
7. _____
8. _____
9. _____
10. _____



Usa il modello grafico per risolvere ogni problema.

1) Ci sono 11 rettangoli qui sotto.



Togliendo 2, quante ne rimangono?

$11 - 2 = ?$

2) Ci sono 12 quadrati qui sotto.



Togliendo 8, quante ne rimangono?

$12 - 8 = ?$

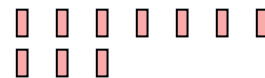
3) Ci sono 11 stelle qui sotto.



Togliendo 10, quante ne rimangono?

$11 - 10 = ?$

4) Ci sono 10 rettangoli qui sotto.



Togliendo 3, quante ne rimangono?

$10 - 3 = ?$

5) Ci sono 15 stelle qui sotto.



Togliendo 2, quante ne rimangono?

$15 - 2 = ?$

6) Ci sono 12 triangoli qui sotto.



Togliendo 7, quante ne rimangono?

$12 - 7 = ?$

7) Ci sono 3 quadrati qui sotto.



Togliendo 2, quante ne rimangono?

$3 - 2 = ?$

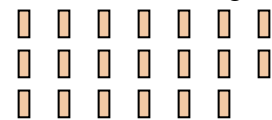
8) Ci sono 11 quadrati qui sotto.



Togliendo 1, quante ne rimangono?

$11 - 1 = ?$

9) Ci sono 20 rettangoli qui sotto.



Togliendo 9, quante ne rimangono?

$20 - 9 = ?$

10) Ci sono 11 rettangoli qui sotto.



Togliendo 9, quante ne rimangono?

$11 - 9 = ?$

Risposte

1. 9

2. 4

3. 1

4. 7

5. 13

6. 5

7. 1

8. 10

9. 11

10. 2