

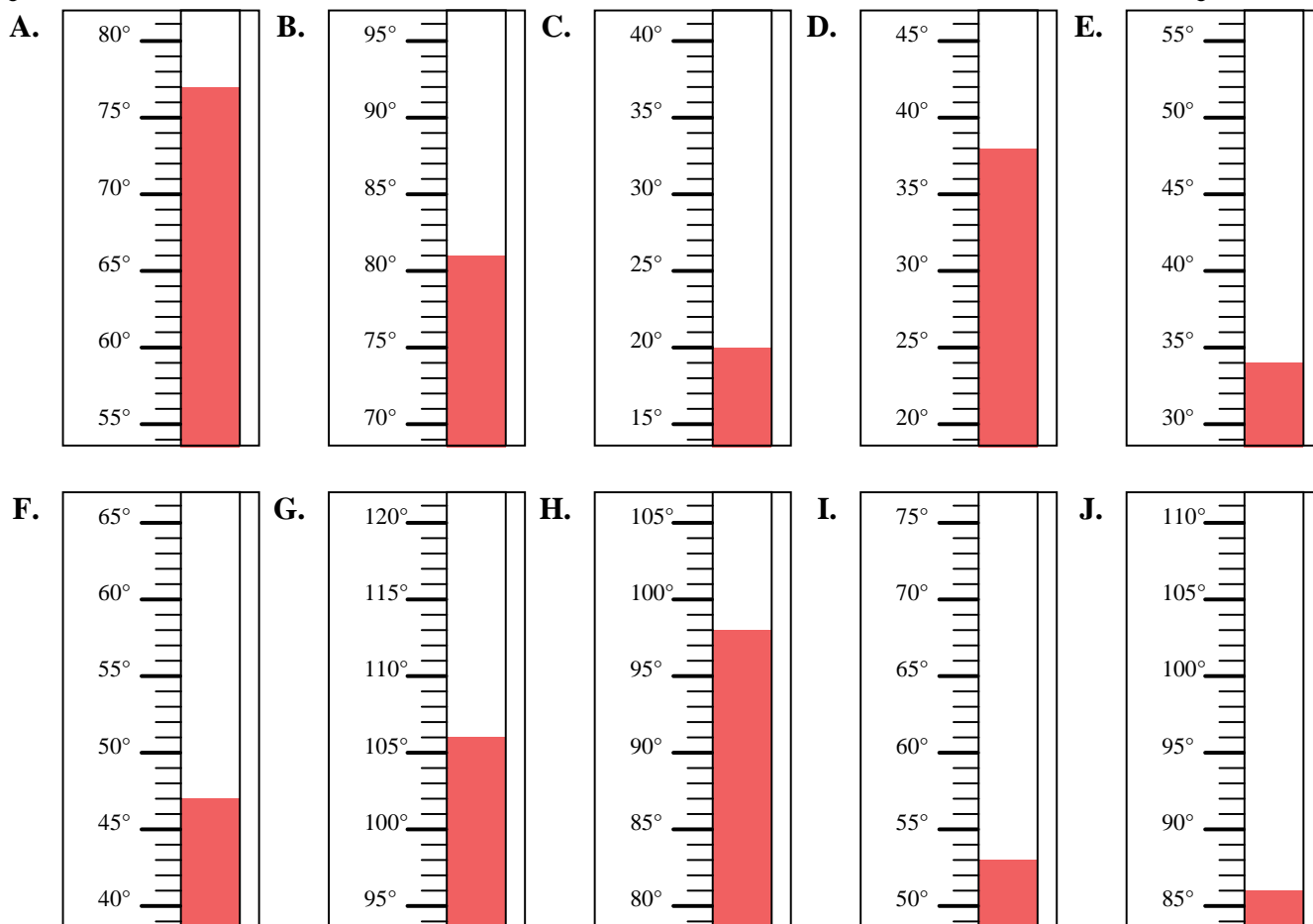


Indica quale lettera risponde correttamente ad ogni domanda.

Risposte

- 1) Quale termometro rappresenta correttamente la temperatura di 53°?
- 2) Quale termometro rappresenta correttamente la temperatura di 98°?
- 3) Quale termometro rappresenta correttamente la temperatura di 77°?
- 4) Quale termometro rappresenta correttamente la temperatura di 106°?
- 5) Quale termometro rappresenta correttamente la temperatura di 47°?
- 6) Quale termometro rappresenta correttamente la temperatura di 86°?
- 7) Quale termometro rappresenta correttamente la temperatura di 34°?
- 8) Quale termometro rappresenta correttamente la temperatura di 81°?
- 9) Quale termometro rappresenta correttamente la temperatura di 20°?
- 10) Quale termometro rappresenta correttamente la temperatura di 38°?

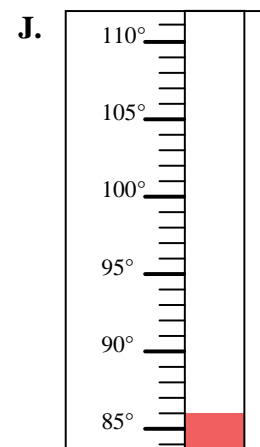
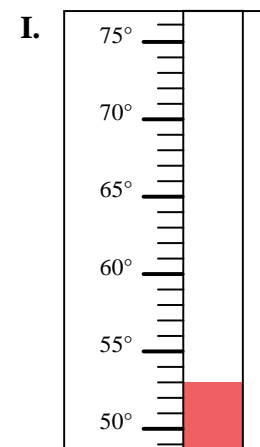
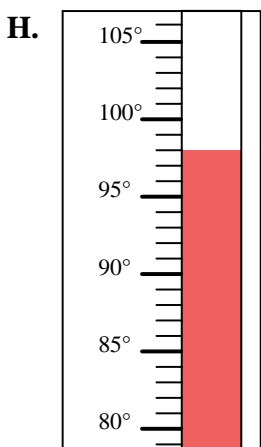
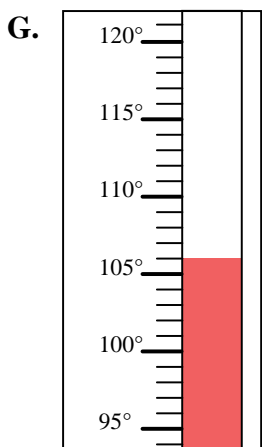
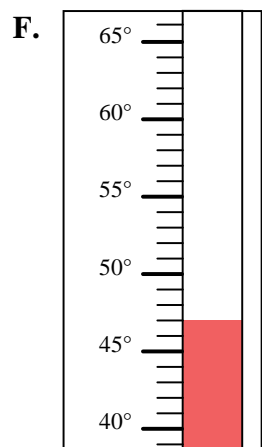
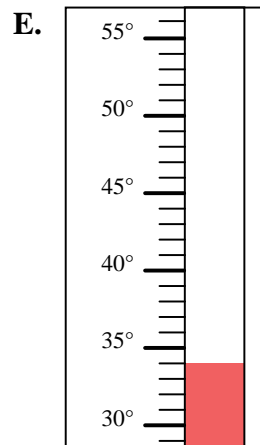
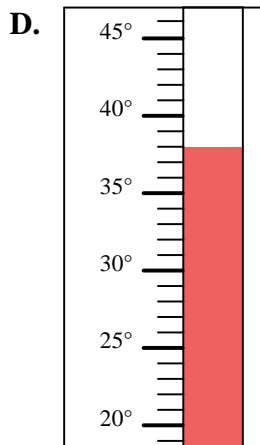
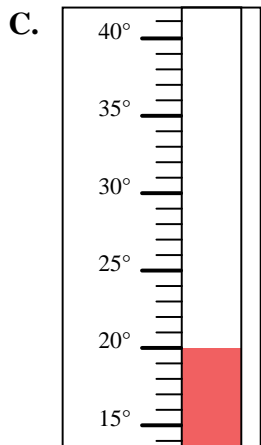
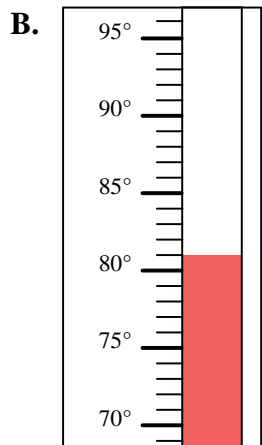
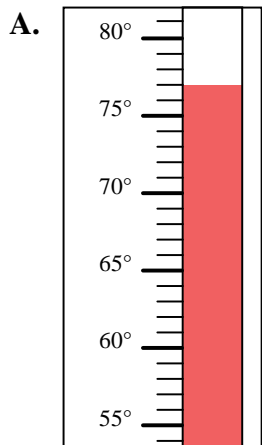
1. _____
2. _____
3. _____
4. _____
5. _____
6. _____
7. _____
8. _____
9. _____
10. _____





Indica quale lettera risponde correttamente ad ogni domanda.

- 1) Quale termometro rappresenta correttamente la temperatura di 53° ?
- 2) Quale termometro rappresenta correttamente la temperatura di 98° ?
- 3) Quale termometro rappresenta correttamente la temperatura di 77° ?
- 4) Quale termometro rappresenta correttamente la temperatura di 106° ?
- 5) Quale termometro rappresenta correttamente la temperatura di 47° ?
- 6) Quale termometro rappresenta correttamente la temperatura di 86° ?
- 7) Quale termometro rappresenta correttamente la temperatura di 34° ?
- 8) Quale termometro rappresenta correttamente la temperatura di 81° ?
- 9) Quale termometro rappresenta correttamente la temperatura di 20° ?
- 10) Quale termometro rappresenta correttamente la temperatura di 38° ?

**Risposte**

1. **I**
2. **H**
3. **A**
4. **G**
5. **F**
6. **J**
7. **E**
8. **B**
9. **C**
10. **D**