



Indica quale lettera risponde correttamente ad ogni domanda.

Risposte

- 1) Quale termometro rappresenta correttamente la temperatura di 101° ?
- 2) Quale termometro rappresenta correttamente la temperatura di 34° ?
- 3) Quale termometro rappresenta correttamente la temperatura di 63° ?
- 4) Quale termometro rappresenta correttamente la temperatura di 108° ?
- 5) Quale termometro rappresenta correttamente la temperatura di 61° ?
- 6) Quale termometro rappresenta correttamente la temperatura di 75° ?
- 7) Quale termometro rappresenta correttamente la temperatura di 40° ?
- 8) Quale termometro rappresenta correttamente la temperatura di 28° ?
- 9) Quale termometro rappresenta correttamente la temperatura di 70° ?
- 10) Quale termometro rappresenta correttamente la temperatura di 19° ?

1. _____

2. _____

3. _____

4. _____

5. _____

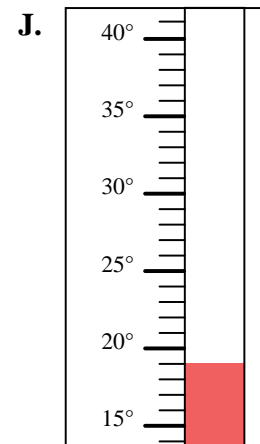
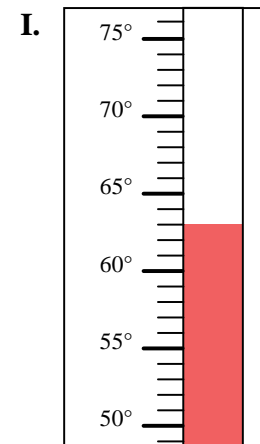
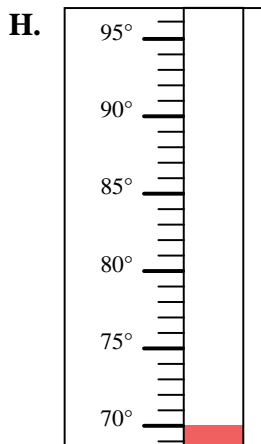
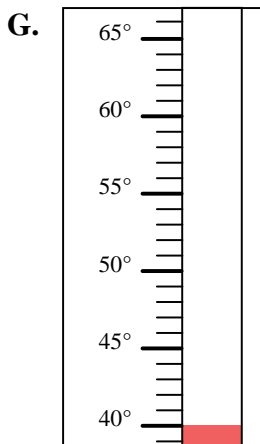
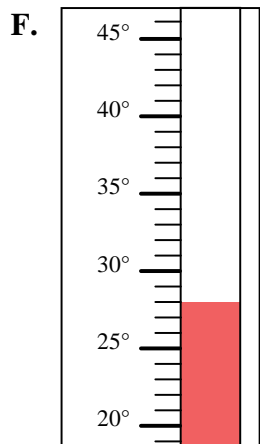
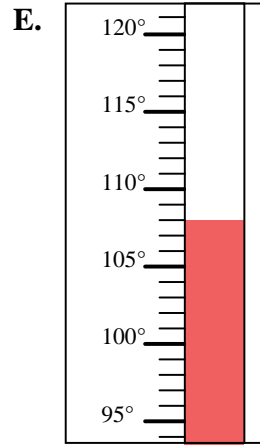
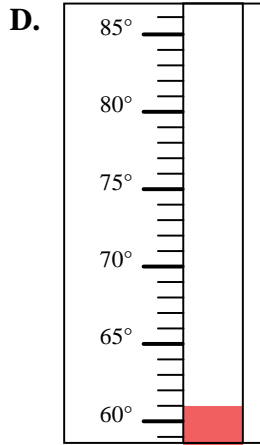
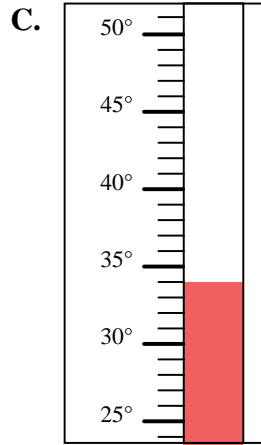
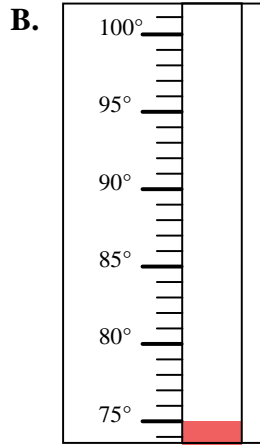
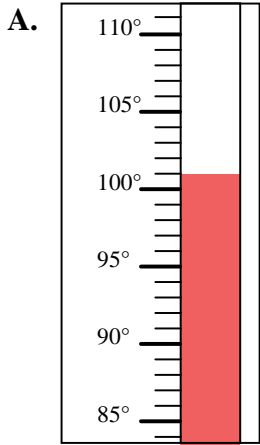
6. _____

7. _____

8. _____

9. _____

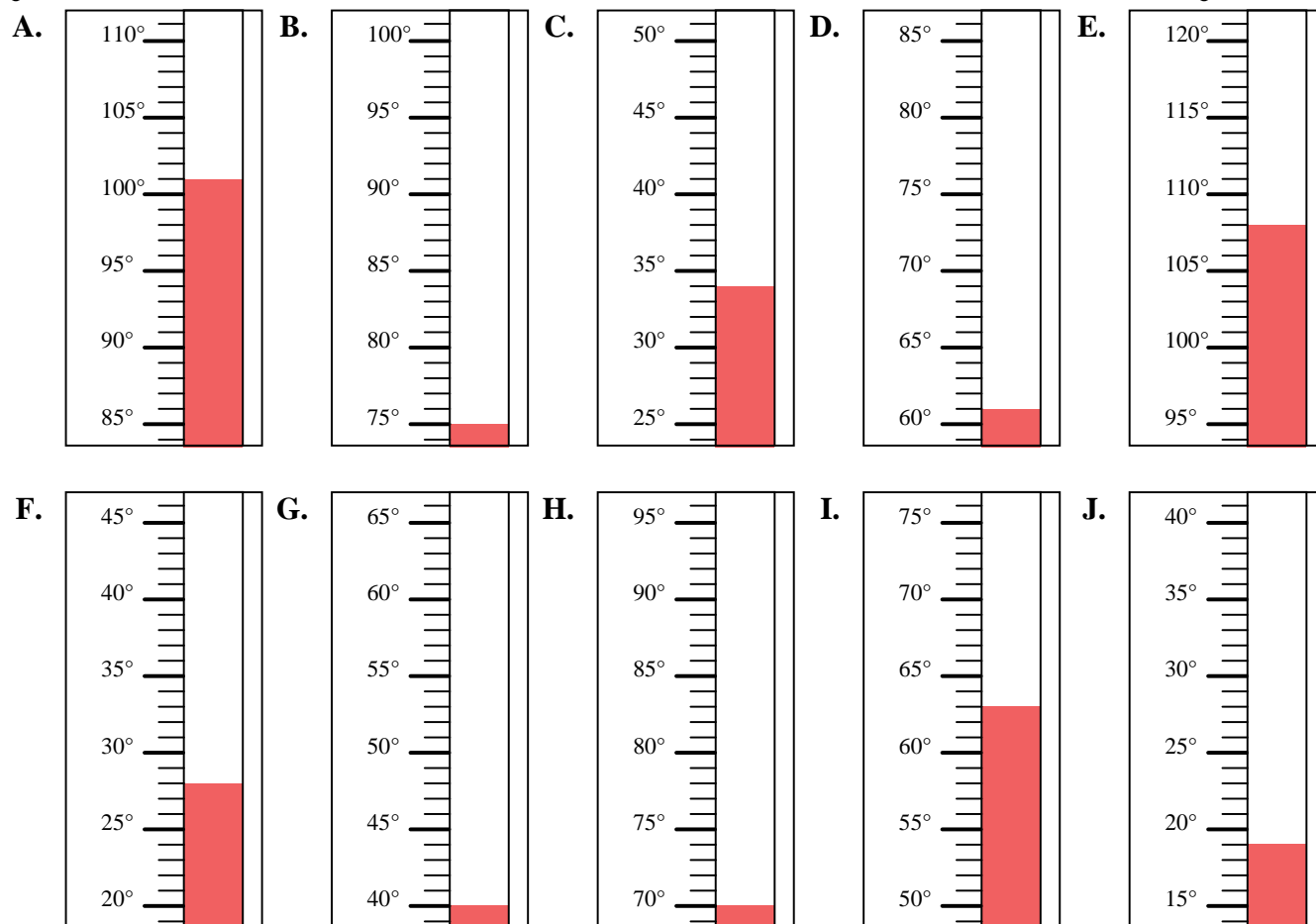
10. _____





Indica quale lettera risponde correttamente ad ogni domanda.

- 1) Quale termometro rappresenta correttamente la temperatura di 101° ?
- 2) Quale termometro rappresenta correttamente la temperatura di 34° ?
- 3) Quale termometro rappresenta correttamente la temperatura di 63° ?
- 4) Quale termometro rappresenta correttamente la temperatura di 108° ?
- 5) Quale termometro rappresenta correttamente la temperatura di 61° ?
- 6) Quale termometro rappresenta correttamente la temperatura di 75° ?
- 7) Quale termometro rappresenta correttamente la temperatura di 40° ?
- 8) Quale termometro rappresenta correttamente la temperatura di 28° ?
- 9) Quale termometro rappresenta correttamente la temperatura di 70° ?
- 10) Quale termometro rappresenta correttamente la temperatura di 19° ?

**Risposte**

1. **A**
2. **C**
3. **I**
4. **E**
5. **D**
6. **B**
7. **G**
8. **F**
9. **H**
10. **J**