

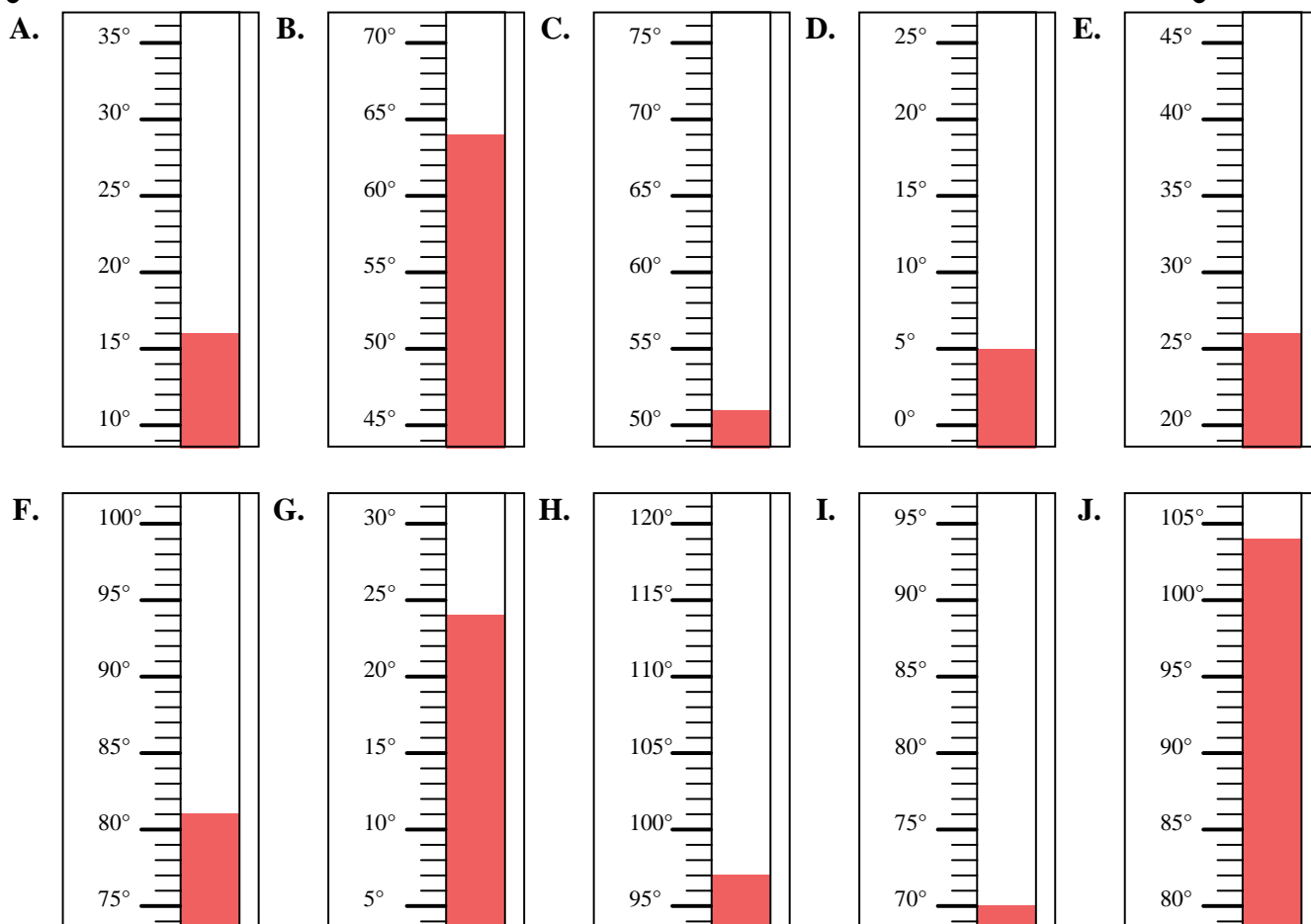


Indica quale lettera risponde correttamente ad ogni domanda.

Risposte

- 1) Quale termometro rappresenta correttamente la temperatura di 70°?
- 2) Quale termometro rappresenta correttamente la temperatura di 51°?
- 3) Quale termometro rappresenta correttamente la temperatura di 64°?
- 4) Quale termometro rappresenta correttamente la temperatura di 26°?
- 5) Quale termometro rappresenta correttamente la temperatura di 104°?
- 6) Quale termometro rappresenta correttamente la temperatura di 97°?
- 7) Quale termometro rappresenta correttamente la temperatura di 5°?
- 8) Quale termometro rappresenta correttamente la temperatura di 81°?
- 9) Quale termometro rappresenta correttamente la temperatura di 16°?
- 10) Quale termometro rappresenta correttamente la temperatura di 24°?

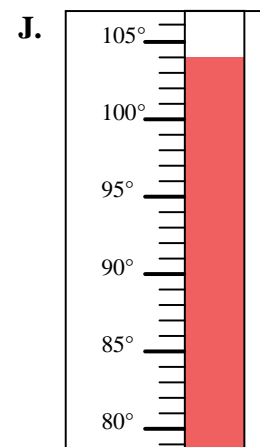
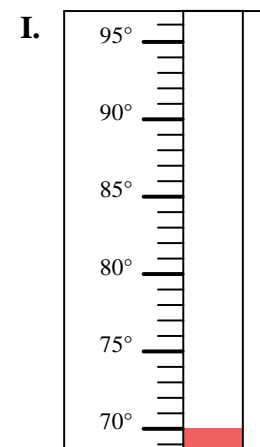
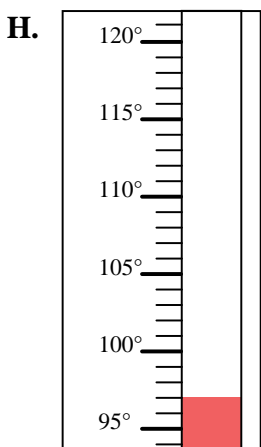
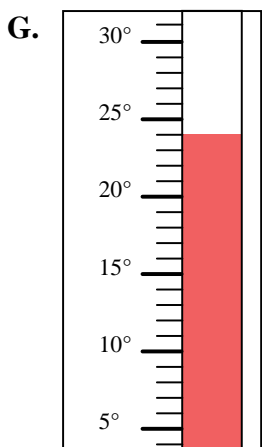
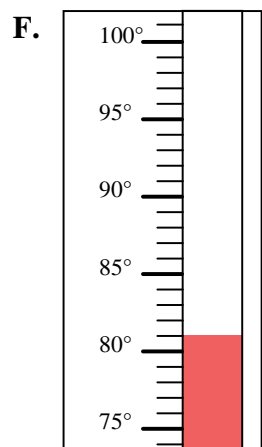
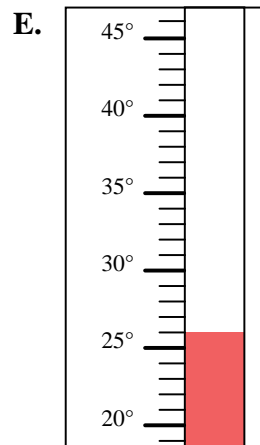
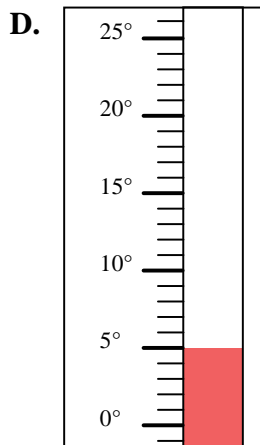
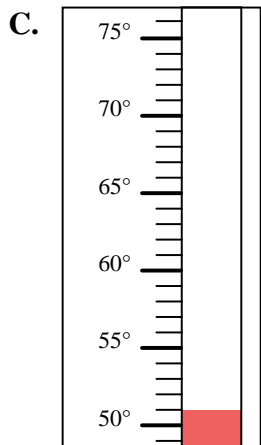
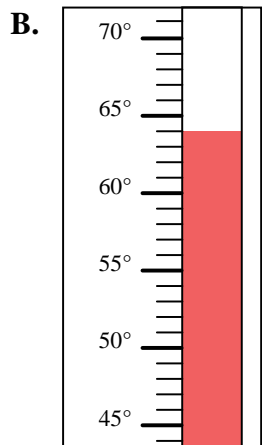
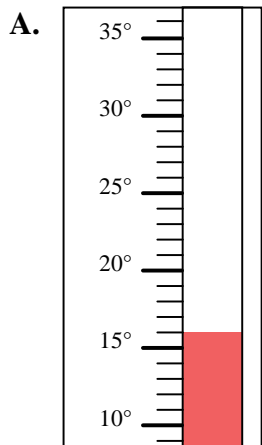
1. _____
2. _____
3. _____
4. _____
5. _____
6. _____
7. _____
8. _____
9. _____
10. _____





Indica quale lettera risponde correttamente ad ogni domanda.

- 1) Quale termometro rappresenta correttamente la temperatura di 70°?
- 2) Quale termometro rappresenta correttamente la temperatura di 51°?
- 3) Quale termometro rappresenta correttamente la temperatura di 64°?
- 4) Quale termometro rappresenta correttamente la temperatura di 26°?
- 5) Quale termometro rappresenta correttamente la temperatura di 104°?
- 6) Quale termometro rappresenta correttamente la temperatura di 97°?
- 7) Quale termometro rappresenta correttamente la temperatura di 5°?
- 8) Quale termometro rappresenta correttamente la temperatura di 81°?
- 9) Quale termometro rappresenta correttamente la temperatura di 16°?
- 10) Quale termometro rappresenta correttamente la temperatura di 24°?

**Risposte**

1. **I**
2. **C**
3. **B**
4. **E**
5. **J**
6. **H**
7. **D**
8. **F**
9. **A**
10. **G**