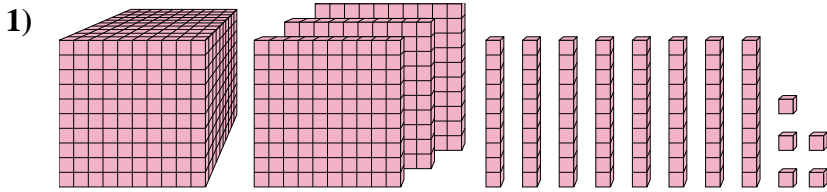




Risolvi ogni problema.

**Risposte**

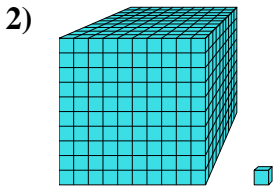


Quale cifra è nella posizione unità nel numero qui sopra?

1. \_\_\_\_\_

2. \_\_\_\_\_

3. \_\_\_\_\_

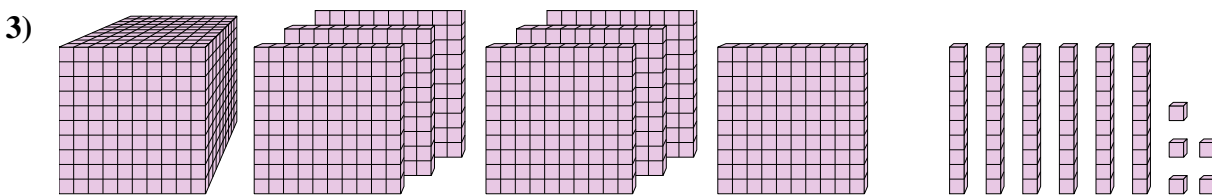


Quale cifra è nella posizione decine nel numero qui sopra?

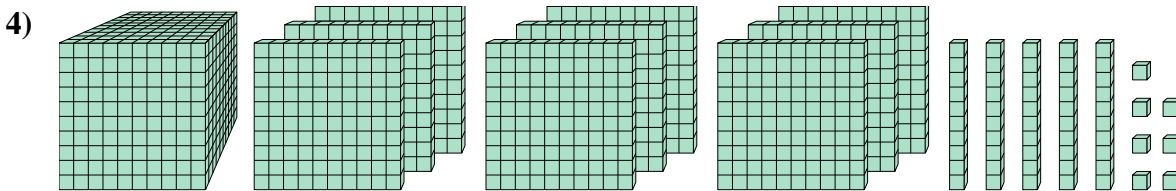
4. \_\_\_\_\_

5. \_\_\_\_\_

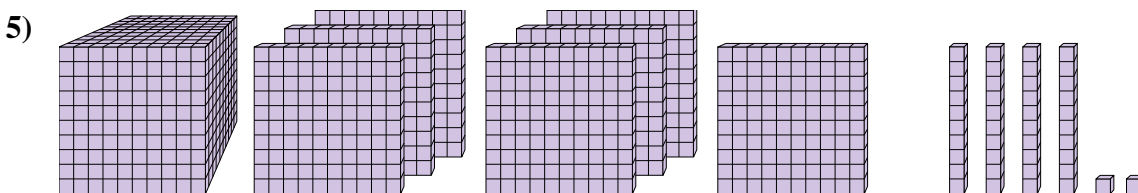
6. \_\_\_\_\_



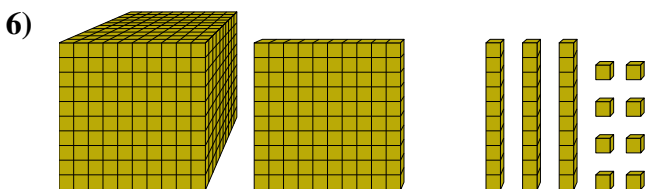
Quale cifra è nella posizione unità nel numero qui sopra?



Quale cifra è nella posizione centinaia nel numero qui sopra?



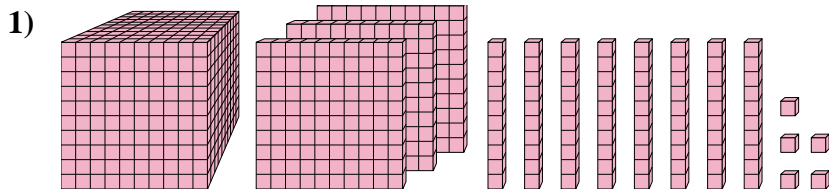
Quale cifra è nella posizione billions nel numero qui sopra?



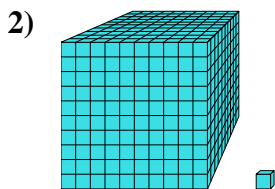
Quale cifra è nella posizione decine nel numero qui sopra?



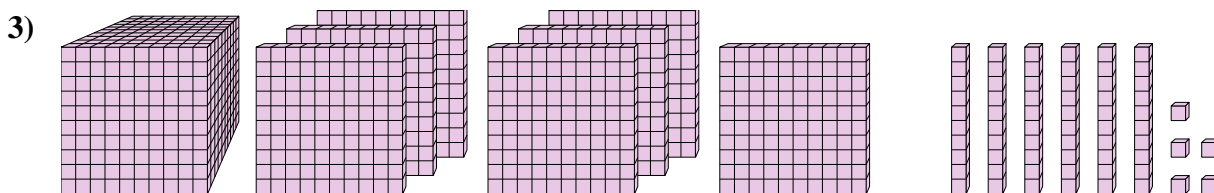
Risolvi ogni problema.



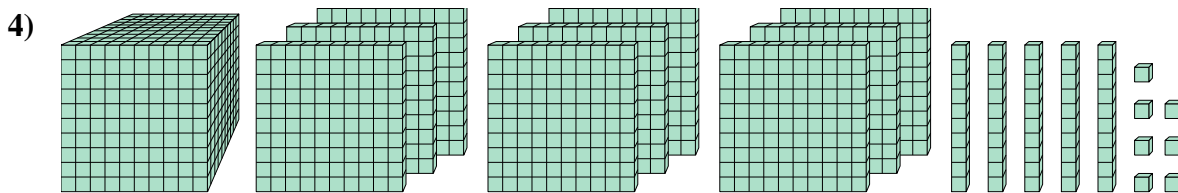
Quale cifra è nella posizione unità nel numero qui sopra?



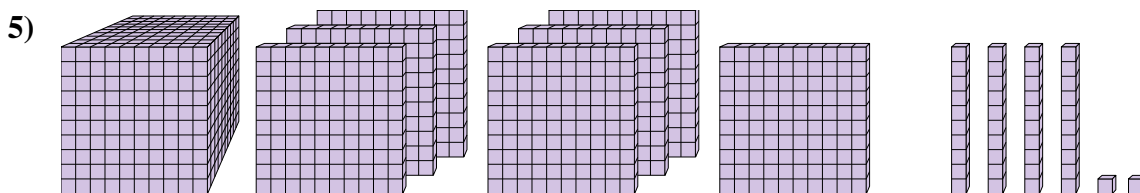
Quale cifra è nella posizione decine nel numero qui sopra?



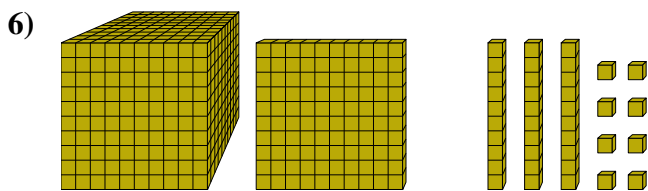
Quale cifra è nella posizione unità nel numero qui sopra?



Quale cifra è nella posizione centinaia nel numero qui sopra?



Quale cifra è nella posizione billions nel numero qui sopra?



Quale cifra è nella posizione decine nel numero qui sopra?

**Risposte**

1. 5

2. 0

3. 5

4. 1

5. 7

6. 3